



ورودی پایه دهم تجربی ۲ شهریور ماه ۱۴۰۳

دفترچه سؤال

مدت پاسخگویی: ۱۲۰ دقیقه

تعداد سؤال: ۱۰۰ سؤال

عنوان	نام درس	تعداد سؤال	شماره سؤال	شماره صفحه	زمان پاسخگویی
نگاه به گذشته	علوم نهم - زیست‌شناسی	۱۰	۱-۱۰	۳	۱۰ دقیقه
	علوم نهم - فیزیک و زمین	۱۰	۱۱-۲۰	۴	۱۰ دقیقه
	علوم نهم - شیمی	۱۰	۲۱-۳۰	۵	۱۰ دقیقه
	ریاضی نهم	۱۰	۳۱-۴۰	۷	۱۵ دقیقه
نگاه به آینده	زیست‌شناسی دهم (طراحی + آشنا)	۲۰	۴۱-۶۰	۸	۲۰ دقیقه
	فیزیک دهم (طراحی + آشنا)	۲۰	۶۱-۸۰	۱۱	۳۰ دقیقه
	شیمی دهم	۱۰	۸۱-۹۰	۱۴	۱۰ دقیقه
	ریاضی دهم	۱۰	۹۱-۱۰۰	۱۶	۱۵ دقیقه
جمع		۱۰۰			۱۲۰ دقیقه

مسئولین درس

نام درس	مسئولین و گزینشگران درس گروه آزمون	ویراستاران علمی	مسئولین درس گروه مستندسازی
علوم نهم - زیست‌شناسی و زیست‌شناسی دهم	امین موسویان - حمیدرضا فیض آبادی	مهدی جباری - امیرمحسن اسدی	مهساسادات هاشمی
علوم نهم - فیزیک و زمین و فیزیک دهم	مبین دهقان	کوروش حیاتی - بابک اسلامی - امیرمحمود انزابی	علیرضا همایون‌خواه - حسام نادری
علوم نهم - شیمی و شیمی دهم	ساجد شیرینی	محمدجواد سوری لکی - علی موسوی فرد - امیررضا حکمت‌نیا	امیرحسین توحیدی
ریاضی نهم و ریاضی دهم	رضا سیدنجفی	علی مرشد - مسعود برملا - مهدی بحر کاظمی - مهرداد استقلالیان - نریمان فتح‌اللهی - احسان غنی‌زاده	الهه شهبازی

نام درس	نام طراحان
علوم نهم - زیست‌شناسی و زیست‌شناسی دهم	فاطمه نوبخت - امیر حسن‌زاده - ملیکا لطیفی‌نسب - امیرمحمد رضانی علوی - پیام هاشم‌زاده - حسن قائمی - علی زمانی تالش - علیرضا رهبر - حسن محمد نشتایی - محمدرضا دانشمندی
علوم نهم - فیزیک و زمین و فیزیک دهم	مبین دهقان - مصطفی کیانی - عرفان عسکریان جابجیان - محمد خیری - مجید میرزایی - میلاد طاهر عزیزی - میثم دشتیان - بیتا خورشید - غلامرضا محبی - حمید صادقی مقدم - محمدصادق مام‌سیده
علوم نهم - شیمی و شیمی دهم	محمدصالح خوبباری - میرحسن حسینی - آیدین قربانی‌زاده - ساجد شیرینی - سیدرحیم هاشمی دهکردی - میلاد عزیزی - مهدی رحیمی - علی افخمی‌نیا - سیدرضا رضوی - یاسر عیشائی - محمدجواد سوری لکی - حسن رحمتی کوکنده
ریاضی نهم و ریاضی دهم	علی سرآبادانی - بهرام حلاج - ابراهیم نجفی - رضا سیدنجفی - نریمان فتح‌اللهی - محسن اسماعیل‌پور - شاهین پروازی - علی آزاد - محمد قرچیان

مدیر گروه	ملیکا لطیفی‌نسب
مسئول دفترچه	فاطمه نوبخت
گروه مستندسازی	مدیر گروه: محیا اصغری مسئول دفترچه: امیرحسین توحیدی
حروف‌چین و صفحه‌آرا	لیلا عظیمی
ناظر چاپ	حمید محمدی

بنیاد علمی آموزشی قلمچی (وقف عام)

توجه: دفترچه پاسخ تشریحی را می‌توانید از سایت کانون (صفحه مقطع دهم تجربی) دانلود نمایید.

دفتر مرکزی: فیابان انقلاب بین صبا و فلسطین پلاک ۹۳۳ - تلفن: ۶۴۶۳ - ۰۲۱

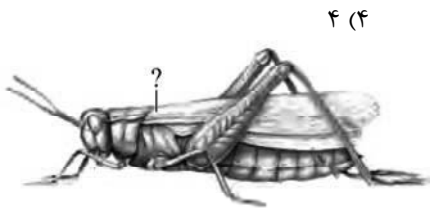
۱۰ دقیقه

علوم نهم - زیست‌شناسی

جانوران بی‌مهره

فصل ۱۳

صفحه‌های ۱۴۱ تا ۱۵۰



۴ (۴)

۳ (۳)

۲ (۲)

۱ (۱)

۳- نام قسمت مشخص در کدام گزینه به‌درستی آمده است؟

- ۱) سوراخ تنفسی
- ۲) چشم مرکب
- ۳) بال عقبی
- ۴) بال جلویی

۴- کدام گزینه در مورد طبقه‌بندی ساده جانوران صحیح نیست؟

- ۱) نرم‌تنان و بندپایان برخلاف اسفنج‌ها در گروه بی‌مهره‌ها قرار دارند.
- ۲) پستان‌داران و ماهی‌ها در یک گروه قرار دارند.
- ۳) دوزیستان برخلاف خارپوستان در گروه مهره‌داران قرار دارند.
- ۴) خزندگان و پرندگان مانند ماهی‌ها در گروه مهره‌داران قرار دارند.

۵- کدام گزینه نادرست می‌باشد؟

- ۱) بیشتر کرم‌های پهن و لوله‌ای، از نوع انگلی هستند.
- ۲) کرمی که می‌تواند با غذا وارد بدن انسان شود، ممکن است باعث انسداد روده شود.
- ۳) نوعی کرم که برگی شکل است، یک راه برای ورود مواد دارد.
- ۴) همه کرم‌های پهن برخلاف کرم‌های لوله‌ای، توانایی زندگی در خاک را دارند.

۶- چه تعداد از موارد زیر صحیح است؟

- الف) کرمی که حاوی دهان و مخرج است می‌تواند در بهبود رشد گیاهان اثرگذار باشد.
- ب) کرمی که نوزاد آن در گوشت گاو آلوده وجود دارد، حاوی دستگاه عصبی است.
- ج) کرمی که بدن نرم و ماهیچه‌ای دارد، پوست آن همیشه مرطوب بوده و همگی زندگی انگلی دارند.
- د) کرمی که تعداد گونه انگلی آن کمتر است، حاوی دستگاه گردش خون است.

۱ (۴)

۲ (۳)

۳ (۲)

۴ (۱)

۷- کدام گزینه در مورد جانداران بی‌مهره‌ای که می‌توان از آن‌ها در تولید نخ بخیه استفاده کرد، نادرست است؟

- ۱) توانایی ضرر به انسان را دارند.
- ۲) آن‌ها حاوی صدف بوده که می‌تواند کاربرد زینتی داشته باشد.
- ۳) همه آن‌ها همانند اغلب سخت‌پوستان، آبری هستند.
- ۴) می‌توانند در تولید نوعی عنصر قابل جذب برای بدن ما نقش داشته باشند.

۸- چند مورد در ارتباط با فراوان‌ترین گروه جانوران بی‌مهره‌ای که اندام حرکتی بند بند دارند، نادرست می‌باشد؟

- الف) توانایی پوست‌اندازی داشته و به هنگام پوست‌اندازی از آن خارج می‌شوند.
- ب) نوعی گروه از آن‌ها که محصولات کشاورزی را از بین می‌برد، بال جلویی آن‌ها در بالای بال عقبی قرار دارد.
- ج) تقریباً در همه زیستگاه‌های زمین مشاهده می‌شوند.
- د) فراوان‌ترین گروه از آن‌ها به عنوان موجود آزمایشگاهی در آزمایشگاه‌های ژنتیک مفیداند.

۳ (۴)

۲ (۳)

۱ (۲)

صفر (۱)

۹- چه تعداد از موارد زیر صحیح هستند؟

- الف) مرجان‌ها فقط در مناطق عمیق خلیج فارس وجود دارند.
- ب) تنوع زیستی در محیط دریایی نشانه سالم بودن آب دریاها است.
- ج) همه بی‌مهره‌ها فاقد ستون مهره هستند اما اسکلت خارجی دارند.
- د) اکثر جانوران جزو گروه بی‌مهرگان هستند.

۴ (۴)

۳ (۳)

۲ (۲)

۱ (۱)

۱۰- کدام گزینه جدول را در مورد اسفنج‌ها به درستی تکمیل می‌کند؟ (به ترتیب از راست به چپ)

دستگاه‌های بدن	نحوه حرکت
ب	الف

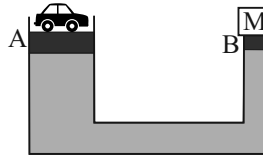
- ۱) الف: بی‌حرکت - ب: گردش مواد
- ۲) الف: بی‌حرکت - ب: بدون دستگاه
- ۳) الف: شنا کردن - ب: تنفس
- ۴) الف: شنا کردن - ب: گردش مواد

۱۰ دقیقه

علوم نهم - فیزیک و زمین

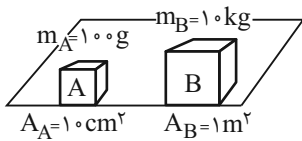
آثاری از گذشته زمین+
فشار و آثار آن
فصل‌های ۸، ۷
صفحه‌های ۷۳ تا ۹۴

۱۱- مطابق شکل زیر، سطح مقطع شاخه A، 1m^2 و سطح مقطع شاخه B، 100cm^2 است. برای آنکه بتوان خودروی ۲ تنی را ثابت نگه داشت، وزنه m باید چند کیلوگرم باشد؟ (از جرم پیستون‌ها صرف نظر شود).



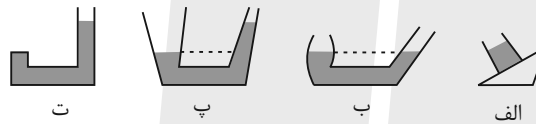
- (۱) ۲۰۰۰
(۲) ۰/۲
(۳) ۲۰
(۴) ۲

۱۲- اگر فشار وارد بر سطح افقی زیر دو مکعب A و B از طرف آن‌ها را به ترتیب با P_A و P_B نشان دهیم، کدام گزینه درست است؟



- (۱) $P_A = 10 \cdot P_B$
(۲) $10 \cdot P_A = P_B$
(۳) $P_A = 1000 \cdot P_B$
(۴) $100 \cdot P_A = P_B$

۱۳- در چه تعداد از ظروف زیر، نحوه قرارگیری آب به درستی نشان داده شده است؟



- (۱) ۱
(۲) ۲
(۳) ۳
(۴) ۴

۱۴- با افزایش ارتفاع از سطح زمین، تراکم مولکول‌های هوا ... شده و به همین دلیل فشار ... می‌یابد.

- (۱) کم - کاهش
(۲) کم - افزایش
(۳) زیاد - کاهش
(۴) زیاد - افزایش

۱۵- ابعاد مکعب مستطیل توپری $4\text{cm} \times 6\text{cm} \times 7\text{cm}$ و چگالی ماده سازنده آن $\frac{g}{\text{cm}^3}$ است. وقتی این مکعب مستطیل را از بزرگ‌ترین وجه

روی سطح افقی قرار می‌دهیم، وزنه چند نیوتونی بر روی آن قرار دهیم تا فشاری که بر سطح افقی وارد می‌کند، هم اندازه فشاری باشد که

وقتی از روی کوچکترین وجه روی سطح افقی قرار می‌گیرد، به سطح وارد می‌کند؟ ($g = 10 \frac{\text{N}}{\text{kg}}$)

- (۱) ۳/۶
(۲) ۴/۲
(۳) ۶/۳
(۴) ۵/۴

۱۶- برای فسیل شدن کامل یک پشه، کدام محیط مناسب‌تر است؟

- (۱) تپه‌های ماسه‌ای
(۲) ماگما
(۳) خاکستر آتشفشانی
(۴) صمغ گیاهان

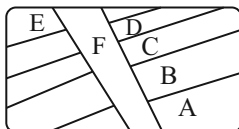
۱۷- فسیل‌های یافت شده از کدام یک از جانداران زیر فراوان‌تر است؟

- (۱) خر خاکی
(۲) دو کفه‌ای
(۳) دایناسور
(۴) ماموت

۱۸- در گزینه‌های زیر، شانس تشکیل فسیل از کدام جانور بیشتر از بقیه است؟

- (۱) کرم خاکی
(۲) لیسه
(۳) مار ماهی
(۴) زالو

۱۹- با توجه به توالی لایه‌ها در شکل زیر، کدام یک از موارد درست می‌باشند؟



(الف) فسیل موجود در لایه D از همه جدیدتر است.

(ب) در لایه F هیچ فسیلی یافت نمی‌شود.

(پ) در لایه B، فسیل راهنمایی به سن ۲۰۰ میلیون سال و در لایه A به سن ۱۸۰ میلیون سال وجود دارد.

(ت) فسیل موجود در لایه A، ساختمان بدن پیچیده‌ای دارد.

- (۱) فقط (ب)
(۲) (الف) و (ب)
(۳) (ب) و (ت)
(۴) (ب) و (پ)

۲۰- چه تعداد از عبارات زیر صحیح است؟

(الف) ذغال سنگ یک سوخت فسیلی محسوب می‌شود و منشا آن گیاهی است.

(ب) طبق اصل پاسکال، نیروی وارد بر یک مایع محصور در ظرف، بدون کاهش به تمام نقاط آن مایع منتقل می‌شود.

(پ) وجود فسیل مرجان‌ها در سنگ‌های رسوبی کوهستان، بیانگر محیط گرم و کم عمق دریا در گذشته است.

- (۱) ۳
(۲) ۱
(۳) ۲
(۴) صفر



۱۰ دقیقه

علوم نهم - شیمی

رفتار اتمها با یکدیگر
فصل ۲ از ابتدای داد وسند الکترون و
پیوند یونی تا پایان فصل
صفحه‌های ۱۷ تا ۲۴

۲۱- کدام گزینه درست است؟

- (۱) برای تشکیل یک مولکول آب هر مولکول هیدروژن یک الکترون به اشتراک می‌گذارند.
- (۲) میان مولکول‌های آب پیوند اشتراکی وجود دارد به همین دلیل روی هم می‌لغزند.
- (۳) در یک مولکول کربن دی‌اکسید اتم‌ها توسط چهار پیوند اشتراکی کنار هم قرار گرفته‌اند.
- (۴) مولکول آب سه اتمی است که از سه نوع عنصر تشکیل شده است و در طبیعت به سه حالت یافت می‌شود.

۲۲- کدام گزینه نادرست است؟

- (۱) کات کبود برخلاف اتیلن گلیکول یک ترکیب یونی است که از کاتیون و آنیون تشکیل شده است.
- (۲) اتم Na ، بعد از تبدیل شدن به یون سدیم، اندازه‌اش بزرگتر می‌شود.
- (۳) با حل شدن نمک‌ها در آب، نقطه‌جوش آن افزایش می‌یابد.
- (۴) در ترکیبات یونی، از آنجایی که مجموع بار الکتریکی مثبت و منفی برابر است، ترکیباتی خنثی می‌باشند.

۲۳- کدام گزینه درست است؟

- (۱) اغلب واکنش‌های شیمیایی از قانون پایستگی جرم پیروی می‌کنند.
- (۲) از واکنش گاز کلر سفید رنگ و فلز سدیم یک ترکیب یونی تشکیل می‌شود که از لحاظ بار الکتریکی خنثی است.
- (۳) نسبت بار کاتیون به بار آنیون در منیزیم اکسید با نسبت بار آنیون به بار کاتیون در سدیم کلرید برابر است.
- (۴) اتم‌ها تمایل دارند با انجام واکنش‌های شیمیایی به ذره‌هایی تبدیل شوند که ۸ الکترون دارند.

۲۴- اگر در اثر واکنش شیمیایی بین اتم X و Z ترکیب XZ_3 تشکیل شود، نسبت تعداد الکترون‌های از دست داده شده توسط یک اتم X به

تعداد الکترون‌های گرفته شده توسط یک اتم Z کدام گزینه است؟

- (۱) $\frac{1}{3}$ (۲) ۳ (۳) $\frac{3}{2}$ (۴) $\frac{2}{3}$

۲۵- همه گزینه‌های زیر درست‌اند، به جز ...

- (۱) حل شدن نمک خوراکی در آب سبب تغییر خواص شیمیایی آن می‌شود.
- (۲) ترکیبات یونی شکننده‌اند و در اثر ضربه خرد می‌شوند.
- (۳) ترکیبات یونی در حالت مذاب و محلول رسانای الکتریکی هستند.
- (۴) آنیون‌ها یون‌هایی با بار الکتریکی منفی هستند و کاتیون‌ها یون‌هایی با بار الکتریکی مثبت هستند.

۲۶- چند مورد از مطالب زیر، در ارتباط با ترکیب Al_2O_3 صحیح است؟ (Al_2O_3)

(آ) اتم آلومینیم با از دست دادن سه الکترون به ذره‌ای با مدار آخر ۸ الکترونی تبدیل می‌شود.

(ب) برای تشکیل یک واحد آلومینیم اکسید (Al_2O_3)، ۶ عدد الکترون جابه‌جا می‌شود.

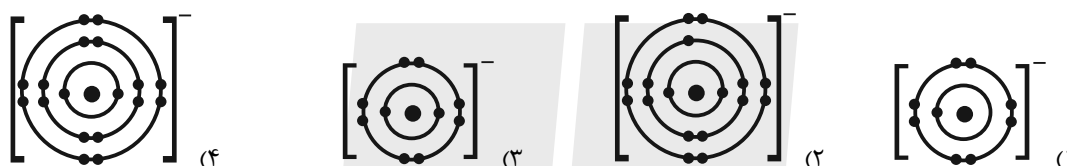
(پ) پیوند بین ذره‌های سازنده آلومینیم اکسید (Al_2O_3) همانند پیوند بین ذره‌های متان (CH_4) است.

(ت) تعداد الکترون در مدار آخر آنیون ترکیب Al_2O_3 برابر ۸ است.

۱ (۱) ۲ (۲) ۳ (۳) ۴ (۴)

۲۷- اگر از واکنش فلز سدیم با گاز فلوئور، ترکیب یونی سدیم فلوئورید به دست آید، کدام گزینه آرایش الکترونی یون فلوئورید را به درستی نمایش

می‌دهد؟ (نماد شیمیایی عنصرهای سدیم و فلوئور به ترتیب Na و F می‌باشد).



۲۸- چند مورد از موارد زیر در رابطه با یون سدیم (Na^+) صحیح است؟

• پس از یون آهن فراوان‌ترین کاتیون موجود در خون است.

• در حالت محلول رسانای جریان الکتریکی است.

• یکی از وظایف اصلی این یون، ایجاد جریان الکتریکی در مغز و اعصاب و ماهیچه‌های بدن به ویژه قلب است.

• مصرف کم ماده‌ای که می‌تواند مقدار مورد نیاز این یون را در بدن تأمین کند در افراد مبتلا به بیماری قلبی و فشار خون توصیه می‌شود.

۲ (۱) ۱ (۲) ۴ (۳) ۳ (۴)

۲۹- کدام گزینه صحیح است؟

(۱) بدن ما برای ساخت هموگلوبین به یون آهن (Fe^{3+}) نیاز دارد.

(۲) برای درمان کم خونی و جبران کمبود آهن، قرص آهن (فروس سیلیکات) تجویز می‌شود.

(۳) در افراد مبتلا به کم خونی، می‌بایست مصرف جگر و گوشت کاهش یابد.

(۴) گلبول‌های قرمز خون به دلیل داشتن اتم‌های آهن می‌توانند گاز اکسیژن را از شش گرفته و به باخته‌های بدن برسانند.

۳۰- کدام گزینه نادرست است؟ (نماد عنصرهای هیدروژن و اکسیژن به ترتیب H و O است)

(۱) هر اتم هیدروژن می‌تواند یک یا بیشتر از یک پیوند اشتراکی تشکیل دهد.

(۲) در هر مولکول آب (H_2O)، مجموعاً ۴ الکترون به اشتراک گذاشته می‌شود.

(۳) هنگام ترکیب شدن اتم‌های هیدروژن و اکسیژن در تشکیل مولکول آب، میان آن‌ها الکترونی داد و ستد نمی‌شود.

(۴) در مولکول کربن‌دی‌اکسید (CO_2)، اتم‌های اکسیژن با دو پیوند اشتراکی به اتم کربن متصل می‌شوند.



ریاضی نهم

۱۵ دقیقه

توان و ریشه / عبارتهای جبری

فصل ۱۴ از ابتدای نماد علمی و

فصل ۵

صفحههای ۶۵ تا ۹۴

۳۱- نماد علمی عدد 0.0000042 به صورت $a/b \times 10^c$ است. اگر a ، b و c اعداد صحیح تکریمی باشند، کدام یک از موارد زیر درست است؟

(۱) $a^c > b^c$ (۲) $c^a < c^b$

(۳) $\sqrt[3]{c^b} > \sqrt[3]{c^a}$ (۴) $a^b = b^a$

۳۲- ربع معکوس عدد $\frac{8\sqrt[3]{2}}{32\sqrt[4]{4}}$ کدام است؟

(۱) $15\sqrt{2}$ (۲) $\frac{-1}{15\sqrt{2}}$ (۳) $1615\sqrt{2}$ (۴) $\frac{-1}{1615\sqrt{2}}$

۳۳- اگر $a = \frac{\sqrt[3]{27}}{\sqrt{-32}}$ و $b = \frac{2\sqrt{2}}{1-\sqrt{2}} + 2^2$ باشند، حاصل ab کدام است؟

(۱) $2\sqrt{2}$ (۲) $3\sqrt{2}$ (۳) $3^3\sqrt{2}$ (۴) $2^3\sqrt{2}$

۳۴- اگر $A = \frac{1}{1+\sqrt{2}} + \frac{1}{\sqrt{2}+\sqrt{3}} + \frac{1}{\sqrt{3}+2} + \dots + \frac{1}{\sqrt{8}+3}$ ، کدام گزینه در مورد A درست است؟

(۱) $A = 4$ (۲) $2 < A < 3$ (۳) $A = 2$ (۴) $3 < A < 4$

۳۵- اگر مقدار مساحت مربعی به طول ضلع $x+2$ از مقدار محیط مربعی به طول ضلع x ، 8 تا بیشتر باشد، قطر مربع بزرگتر کدام است؟

(۱) 4 (۲) 2 (۳) $2\sqrt{2}$ (۴) $4\sqrt{2}$

۳۶- اگر $4 = 5x - \frac{3}{2x} = 4$ باشد، حاصل عبارت $25x^2 + \frac{9}{4x^2}$ کدام است؟

(۱) 24 (۲) 31 (۳) 29 (۴) 32

۳۷- اگر $a > b > 0$ و $a^2 + b^2 = 7ab$ باشند، حاصل عبارت $\frac{a+b}{a-b}$ چند برابر $\sqrt{5}$ است؟

(۱) 3 (۲) $\frac{4}{3}$ (۳) $\frac{3}{5}$ (۴) 2

۳۸- کدام عامل در تجزیه عبارت $x^2 - 2x - 6 - x^2 + 2x - 6$ وجود ندارد؟

(۱) $x+1$ (۲) $x^2 - 2x + 3$ (۳) $x^2 - 2x + 2$ (۴) $x-3$

۳۹- در تجزیه و ساده سازی عبارت $\frac{a^4 - 81}{\sqrt{a} - \sqrt{3}}$ به عبارت $(\sqrt{a} + k)(a + m)(a^2 + n)$ می‌رسیم، حاصل mnk کدام است؟

(۱) $27\sqrt{3}$ (۲) $21\sqrt{3}$ (۳) $12\sqrt{3}$ (۴) $81\sqrt{3}$

۴۰- اگر مجموعه A جواب نامعادله $1 - \frac{2x+1}{2} \geq -3(x-1)$ و مجموعه B جواب نامعادله $\frac{x}{6} + \frac{x}{2}(3-x) \geq \frac{x}{4}(x+7) - \frac{x}{4}$ باشند، اشتراک

دو مجموعه شامل چند عدد صحیح است؟

(۱) 5 (۲) 6 (۳) 7 (۴) 8

دنیای زنده + گوارش و جذب مواد
فصل ۱، فصل ۲ تا پایان جذب مواد و
تنظیم فعالیت دستگاه گوارش
مضمونهای ۱ تا ۲۹

۴۱- چند مورد، عبارت زیر را به نادرستی، کامل می‌کند؟

«با در نظر گرفتن روش‌های عبور مواد از غشای یک یاختهٔ غضروفی، هر ترکیبی که ... از غشا عبور می‌کند.»
الف) جهت خروج از یاخته از تعداد مولکول‌های پراثری در یاخته می‌کاهد، در خلاف جهت شیب غلظت خود

ب) به دنبال تغییر شکل فضایی پروتئین‌ها امکان تبادل آن فراهم می‌شود، فقط به کمک انرژی جنبشی

ج) مستقیماً می‌تواند در تماس با فراوان‌ترین مولکول‌های تشکیل‌دهندهٔ غشا قرار گیرد، بدون صرف مولکول ATP

د) در ریزکیسه قرار گرفته و سپس به خارج یاخته هدایت می‌شود، با کاستن از تعداد فسفولیپیدهای موجود در غشا

۱ (۱) ۲ (۲) ۳ (۳) ۴ (۴)

۴۲- اندامی در لولهٔ گوارش که چین‌خوردگی‌های سطح درونی ساختار آن با پر شدن غذا از بین ... می‌کند.

۱) نمی‌رود، توسط همهٔ یاخته‌های لایهٔ مخاطی خود، نوعی گلیکوپروتئین چسبناک را به درون مجرا ترشح

۲) نمی‌رود، ترشحات قلبایی دو نوع اندام گوارشی مجاور را از طریق مجرای مشترک دریافت

۳) می‌رود، در پی ترشح گاسترین به خون، پروتئین‌ها را به زیرواحدهای سازندهٔ خود آبکافت

۴) می‌رود، با آزادسازی بی‌کربنات از برخی یاخته‌های غدد خود، سدی محکم در مقابل اسید و آنزیم گوارشی ایجاد

۴۳- در دستگاه گوارش یک مرد بالغ، در مرحلهٔ ... نسبت به مرحلهٔ دیگر، ... به ترتیب افزایش و کاهش پیدا می‌کند.

۱) خاموشی نسبی - میزان انقباض بندارهٔ انتهای مری و ورود شیرهٔ لوزالمعده به معده

۲) فعالیت شدید - ورود کیموس اسیدی به دوازدهه و ترشح هورمون گاسترین

۳) خاموشی نسبی - ذخیرهٔ ترشحات کبد در نوعی اندام و انقباض‌های یکی در میان دیوارهٔ روده

۴) فعالیت شدید - فعالیت غدهٔ بناگوشی و میزان جریان خون رگ‌های لولهٔ گوارش

۴۴- آنزیم‌های تجزیه‌کنندهٔ بسپارهای خطی از آمینواسیدها که در بخش دارای پرز لولهٔ گوارش یافت می‌شوند، همگی ...

۱) همراه با ترکیبی از ترشحات کبد به بخش خمیدهٔ رودهٔ باریک تخلیه می‌شوند.

۲) می‌توانند در محیط قلبیایی محل اصلی جذب مواد غذایی به خوبی فعالیت کنند.

۳) به دنبال عبور غذا از بندارهٔ انتهایی بخش کیسه‌ای شکل لولهٔ گوارش، بر مواد غذایی تأثیر می‌گذارند.

۴) به واسطهٔ یاخته‌های مستقر بر روی غشای پایه و با صرف انرژی زیستی تولید شده‌اند.

۴۵- در یک یاختهٔ کبدی انسان، بخش اعظم غشا از مولکول‌هایی تشکیل شده است که همگی ...

۱) به زنجیره‌ای از کربوهیدرات‌ها متصل هستند.

۲) با مولکول کلسترول در تماس مستقیم هستند.

۳) در تشکیل دو لایه‌ای نقش دارند که نفوذپذیری انتخابی دارد.

۴) با صرف انرژی، مواد را در خلاف جهت شیب غلظت جابه‌جا می‌کنند.

۴۶- در لولهٔ گوارش انسان سالم و بالغ، بخش آغازگر گوارش ... بخشی که در سطح درونی خود ساختارهای حلقوی برجسته‌ای دارد که از دو

لایهٔ مخاط و زیرمخاط به‌وجود آمده‌اند، ...

۱) پروتئین‌ها، برخلاف - توانایی وارد کردن مواد مغذی به محیط داخلی بدن را ندارد.

۲) پروتئین‌ها، همانند - نوعی یاخته از آن، ماده‌ای با خاصیت قلبیایی را به درون مجرا ترشح می‌کند.

۳) کربوهیدرات‌ها، همانند - یاخته‌هایی دارد که می‌توانند نوعی هورمون گوارشی را به خون وارد کنند.

۴) کربوهیدرات‌ها، برخلاف - در دومین لایهٔ دیوارهٔ خود از خارج، از سه لایه ماهیچه با جهت‌های مختلف تشکیل شده است.



۴۷- با توجه به ویژگی‌های مختلف حیات در جانداران، کدام مورد با ویژگی مربوط به رشد گیاهانی دارای برگ‌هایی با پوست ضخیم در مناطق خشک یکسان است؟

- (۱) خرس‌های قطبی موهای سفید دارند.
 - (۲) گیاهان به سمت منبع نور خم می‌شود.
 - (۳) در گیاهی، اولین گل ایجاد شده است.
 - (۴) یوزپلنگ، همواره از یوزپلنگ زاده می‌شود.
- ۴۸- طبق مطالب فصل ۱ کتاب زیست‌شناسی ۱، هر بافتی در بدن یک انسان سالم و بالغ که ... قطعاً ...
- (۱) دارای یاخته‌های دوکی‌شکل است - در یاخته‌های خود، در اندامکی نزدیک به هسته، پروتئین می‌سازد.
 - (۲) یاخته‌هایی از آن با غشای پایه در تماس هستند - بین یاخته‌های خود فضای بسیار اندکی دارد.
 - (۳) یاخته‌های استوانه‌ای شکل دارد - زنده است و به پوشاندن بخشی از حفرات یا مجاری بدن می‌پردازد.
 - (۴) هسته خود را در مجاورت غشا سازماندهی می‌کند - به کمک یاخته‌های خود ماده زمینه‌ای را می‌سازد.

۴۹- کدام گزینه در رابطه با بخشی از لوله گوارش انسان درست است که تنها بخش اندکی از لایه بیرونی دیواره آن می‌تواند در تشکیل پرده

اتصال‌دهنده اندام‌های شکمی به هم نقش داشته باشد؟

- (۱) ماده مخاطی مترشحه توسط دیواره آن به کمک نوعی حرکت ایجاد شده توسط یک حلقه انقباضی، مواد را به آسانی به حرکت در می‌آورد.
 - (۲) در صورت کاهش انقباض بنداره‌ای از آن که در سمت چپ بدن قرار گرفته است، درونی‌ترین لایه ساختار آن بلافاصله تخریب می‌شود.
 - (۳) بنداره نزدیک به دیافراگم آن موجب انتقال مواد غذایی از بخشی حجیم‌تر به بخش باریک‌تری در لوله گوارش می‌شود.
 - (۴) با داشتن یاخته‌های ماهیچه‌ای متفاوت در ابتدا و انتهای خود، بیش‌ترین نقش را در جذب مواد غذایی دارد.
- ۵۰- سطحی از سازمان‌یابی زیستی که در آن ... بلافاصله بعد از سطحی قرار می‌گیرد که نشان‌دهنده سطح دریاچه ارومیه می‌باشد.
- (۱) افراد یک گونه در یک مکان و در یک زمان زندگی می‌کنند
 - (۲) چند بوم سازگان، برای نخستین بار، در کنار هم قرار می‌گیرند
 - (۳) افراد گونه‌های متفاوت، برای نخستین بار، با یکدیگر تعامل می‌یابند
 - (۴) همه جانداران، همه زیستگاه‌ها و همه زیست‌بوم‌های زمین قرار می‌گیرد

زیست‌شناسی دهم - آشنا

۵۱- در سطوح سازمان‌یابی حیات، ... نسبت به ... در ... سطح ... قرار ندارد.

- (۱) دریاچه ارومیه - فرد - ۴ - بالاتر
- (۲) دستگاه گوارش - بافت - ۲ - بالاتر
- (۳) اندام استخوان - اجتماع - ۴ - پایین‌تر
- (۴) یاخته عصبی (نورون) - جمعیت - ۵ - پایین‌تر

۵۲- کدام گزینه عبارت زیر را به‌ندرتی تکمیل می‌کند؟

«یکی از ویژگی‌هایی که زیست‌شناسی را به رشته‌ای مترقی، توانا، پویا و امیدبخش تبدیل کرده، ... است. براساس این ویژگی ...»

- (۱) فناوری‌های نوین - می‌توان با مهندسی ژنتیک، صفتی را در یک جاندار ایجاد کرد که قبلاً در آن وجود نداشته است.
- (۲) اخلاق زیستی - وضع قوانین جهانی برای جلوگیری از تولید فرآورده‌های دارویی با عواقب زیان‌بار، ضرورت دارد.
- (۳) نگرش بین رشته‌ای - می‌توان برای بررسی ژن‌های جانداران، از فنون و مفاهیم رشته‌های دیگر استفاده کرد.
- (۴) کل‌نگری - ارائه هر توضیحی درباره ویژگی‌های سامانه، از طریق مطالعه اجزای سازنده آن، ناممکن است.

۵۳- کدام گزینه در مورد همه پروتئین‌های غشای یاخته جانوری درست است؟

- (۱) با مولکول‌های فسفولیپید در تماس‌اند.
- (۲) برای فعالیت خود به انرژی ATP نیاز دارند.
- (۳) به زنجیره‌های کربوهیدراتی متصل هستند.
- (۴) در انتقال مولکول‌های درشت نقش دارند.



۵۴- کدام یک از گزینه‌های زیر در ارتباط با بافت‌های تشکیل‌دهنده بدن انسان صحیح است؟

- ۱) یاخته‌های تشکیل‌دهنده بافت پوششی در مری برخلاف روده شکل کاملاً یکسانی دارند.
- ۲) در هر نوع بافت ماهیچه‌ای که در آن هسته در مرکز یاخته‌ها قرار دارد، ظاهر یاخته‌ها مخطط است.
- ۳) بافتی که بزرگ‌ترین ذخیره انرژی در بدن است، حاوی یاخته‌هایی سرشار از تری‌گلیسرید می‌باشد.
- ۴) نوعی از بافت پیوندی که معمولاً بافت پوششی را پشتیبانی می‌کند، نسبت به بافت پیوندی زردپی تعداد یاخته کمتری دارد.

۵۵- کدام مورد، برای تکمیل عبارت زیر مناسب است؟

«در ارتباط با ... می‌توان گفت ...»

- ۱) اسمز - همواره انتشار خالص آب از یک غشایی با تراوایی نسبی، از محیطی که فشار اسمزی بیشتری دارد به محیط دارای فشار اسمزی کمتر صورت می‌گیرد.
- ۲) ورود و خروج مواد در یاخته - عبور هر نوع مولکول در خلاف جهت شیب غلظت و با صرف انرژی زیستی، تنها با دخالت مولکول‌های پروتئینی انجام می‌شود.
- ۳) انتشار تسهیل شده - برخلاف انتقال فعال، بدون تغییر شکل پروتئین غشایی مواد را جابه‌جا می‌کند.
- ۴) برون‌رانی (اکزوسیتوز) - برخلاف درون‌بری (آندوسیتوز)، بر مساحت غشای یاخته افزوده می‌شود.

۵۶- هیچ‌گاه توسط غده‌های معده ماده‌ای ترشح نمی‌شود که

- ۱) در فعال شدن آنزیم پپسینوژن نقش مستقیم داشته باشد.
- ۲) دیواره لوله گوارش را از اثر اسید و آنزیم (آسیب شیمیایی) حفظ کند.
- ۳) در فرایند جذب ویتامین لازم برای فرایند ساختن گویچه‌های قرمز موثر باشد.
- ۴) با اثر بر پروتئین‌های غذا، آن‌ها را به‌طور کامل به واحدهای سازنده خود تبدیل کند.

۵۷- کدام گزینه عبارت زیر را به نادرستی کامل می‌کند؟

«به‌طور معمول ... فرآیند بلع، ...»

- ۱) قبل از آغاز مرحله غیرارادی - غذا با فشار زبان به عقب رانده می‌شود.
- ۲) حین - زبان و زبان کوچک نیمی از راه‌های حلق را می‌بندند.
- ۳) حین - حنجره همانند برچاکنای به سمت پایین حرکت می‌کند.
- ۴) قبل از آغاز مرحله غیرارادی - گوارش مکانیکی غذا آغاز شده است.

۵۸- کدام گزینه، عبارت زیر را به درستی، کامل می‌کند؟

«بخشی از لوله گوارش انسان سالم و بالغ که، ممکن نیست

- ۱) صفرا به آن می‌ریزد - فاقد توانایی تولید نوعی ماده تحریک کننده ترشح بی‌کربنات باشد.
- ۲) تنها آب و یون‌ها را جذب می‌کند - یاخته‌های پوششی دیواره، ماده مخاطی ترشح کنند.
- ۳) گوارش پروتئین‌ها در آن آغاز می‌شود - دارای یک لایه ماهیچه‌ای بیشتر از سایر بخش‌های لوله گوارش باشد.
- ۴) آنزیم ترشح نمی‌کند و حرکات آن آهسته انجام می‌شود - یاخته‌های مرده و باقی‌مانده شیره‌های گوارشی در محتویات آن مشاهده شود.

۵۹- نوعی بیماری در دستگاه گوارش انسان که بر اثر پروتئین گلوتن (که در گندم و جو وجود دارد) ایجاد می‌شود، چه ویژگی‌ای دارد؟

- ۱) در اثر تخریب شدن یاخته‌های روده، هیچ یک از مواد مغذی مورد نیاز بدن جذب نمی‌شود.
- ۲) در این بیماری یاخته‌های معده و روده در اثر پروتئین گلوتن تخریب می‌شوند.
- ۳) این بیماری نمی‌تواند منجر به از بین رفتن ریزپررها و حتی پرزها شود.
- ۴) در این بیماری سطح جذب مواد، کاهش شدیدی پیدا می‌کند.

۶۰- اندامی که خون سیاهرگی خود را به کبد می‌فرستد، نمی‌تواند ...

- ۱) به وارد کردن مواد غذایی به محیط داخلی بدن بپردازد.
- ۲) با ترشح نوعی هورمون باعث کاهش pH شیره معده شود.
- ۳) خون درون سیاهرگ خود را مستقیماً وارد سیاهرگ فوق کبدی کند.
- ۴) به کمک آنزیم‌های یاخته‌های خود، به گوارش کربوهیدرات‌ها بپردازد.

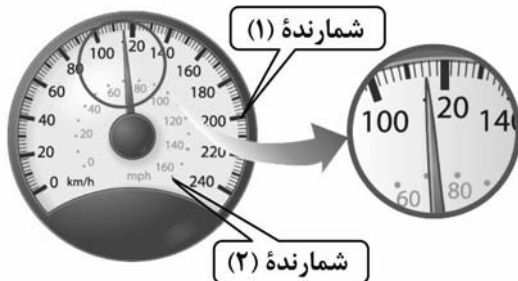


فیزیک دهم

۳۰ دقیقه

فیزیک و اندازه‌گیری +
ویژگی‌های فیزیکی مواد
فصل ۱ و فصل ۲ تا پایان
مالت‌های ماده
صفحه‌های ۱ تا ۲۸

۶۱- در تندی‌سنج شکل زیر، نسبت دقت شمارنده (۱) به دقت شمارنده (۲) کدام است؟ (mph مخفف «مایل بر ساعت» و هر مایل تقریباً ۱۶۰۰ متر است.)



- (۱) $\frac{1}{8}$
- (۲) $\frac{1}{5}$
- (۳) $\frac{1}{16}$
- (۴) $\frac{1}{10}$

۶۲- دو مکعب فلزی با اضلاع خارجی برابر در اختیار داریم. حفره‌ای کروی درون مکعب اول به گونه‌ای قرار دارد که شعاع حفره کروی با طول ضلع حفره مکعبی درون مکعب دوم برابر و هر دو نصف طول ضلع بیرون مکعب‌ها هستند. اگر چگالی ماده سازنده مکعب اول نصف چگالی ماده سازنده مکعب دوم باشد، جرم مکعب دوم چند برابر جرم مکعب اول است؟ ($\pi = 3$)

- (۱) $\frac{2}{7}$
- (۲) $\frac{8}{7}$
- (۳) $\frac{7}{8}$
- (۴) $\frac{7}{2}$

۶۳- یکی از بزرگترین الماس‌های موجود در ایران، الماس دریای نور به جرم ۱۸۲ قیراط است. جرم این الماس در SI چقدر است؟ (هر قیراط معادل ۲۰۰ میلی‌گرم است.)

- (۱) $36/4$
- (۲) $9/1$
- (۳) $9/1 \times 10^{-2}$
- (۴) $3/64 \times 10^{-2}$

۶۴- ابزار زیر یک وسیله اندازه‌گیری طول است. این وسیله چه نام دارد و دقت اندازه‌گیری آن کدام است؟

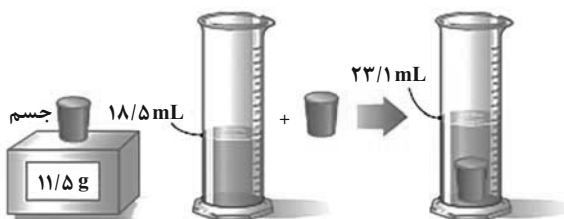


- (۱) ریزسنج و $0/001 \text{ mm}$
- (۲) کولیس و $0/001 \text{ mm}$
- (۳) ریزسنج و $0/003 \text{ mm}$
- (۴) کولیس و $0/003 \text{ mm}$

۶۵- جواهر فروشی در ساختن یک قطعه جواهر به جای طلای خالص، مقداری نقره به کار برده است. اگر حجم قطعه ساخته شده، ۵ سانتی‌متر مکعب و چگالی آن $13/6 \frac{\text{g}}{\text{cm}^3}$ باشد، جرم نقره به کار رفته، چند گرم است؟ (چگالی نقره و طلا به ترتیب $10 \frac{\text{g}}{\text{cm}^3}$ و $19 \frac{\text{g}}{\text{cm}^3}$ فرض شود و تغییر حجم نداریم.)

- (۱) ۸
- (۲) ۳۰
- (۳) ۳۴
- (۴) ۳۸

۶۶- در یک آزمایش، جرم و حجم یک جسم جامد را مطابق شکل زیر، پیدا می‌کنیم. با توجه به داده‌های روی شکل، چگالی جسم در SI چقدر است؟



- (۱) ۲۵۰۰
- (۲) ۲۰۵۰
- (۳) ۲/۵
- (۴) ۲/۰۵



۶۷- در رابطه $A = BC + B^2E$ ، اگر A کمیت آهنگ مصرف انرژی و B کمیت سرعت در SI باشد، در این صورت یکای C و E به ترتیب از راست به چپ در SI کدامند؟

- (۱) پاسکال، کیلوگرم بر ثانیه
(۲) پاسکال، کیلوگرم بر مربع ثانیه
(۳) نیوتون، کیلوگرم بر ثانیه
(۴) نیوتون، کیلوگرم بر مربع ثانیه

۶۸- چه تعداد از عبارتهای زیر به درستی بیان شده است؟

الف) هنگامی که یک لیوان پر از آب را کج می‌کنیم، آب به راحتی از آن می‌ریزد. این مشاهده ما را به این نتیجه می‌رساند که مولکول‌های مایع بر روی هم می‌لغزند.

ب) با برداشتن در شیشهٔ عطر، تمام فضای اتاق خوشبو می‌شود؛ زیرا تندی حرکت مولکول‌های عطر نسبت به تندی مولکول‌های هوا بسیار زیاد است.

پ) مولکول‌های مایع به صورت منظم و متقارن در کنار یکدیگر قرار دارند.

ت) عامل ایجاد فرآیند پخش مولکول‌های شکر در آب، حرکت نامنظم و کاتوره‌ای مولکول‌های آب است.

- (۱) ۱
(۲) ۲
(۳) ۳
(۴) ۴

۶۹- مقدار $0.00024 \mu N \cdot Tm$ بر حسب $\frac{Mg \cdot mm^2}{ns^2}$ کدام است؟

- (۱) $2/4 \times 10^{-4}$
(۲) $2/4 \times 10^{-7}$
(۳) $2/4 \times 10^{-10}$
(۴) $2/4 \times 10^{-13}$

۷۰- اگر نوعی جلبک در استخری با آهنگ اولیه $2 \frac{cm}{day}$ رشد کند و بعد از گذشت هر روز، آهنگ رشدش ۲ برابر شود، آهنگ رشد آن در روز

هفتم چند میلی‌متر بر میکروساعت است؟

- (۱) 16×10^{-5}
(۲) 8×10^{-5}
(۳) 4×10^{-5}
(۴) 2×10^{-5}

فیزیک دهم - آشنا

۷۱- چه تعداد از گزاره‌های زیر صحیح است؟

- الف) فیزیک‌دانان، پدیده‌های گوناگون طبیعت را مشاهده می‌کنند و می‌کوشند الگوها و نظم‌های خاصی میان این پدیده‌ها بیابند.
ب) دانشمندان فیزیک برای توصیف و توضیح پدیده‌های مورد بررسی، اغلب از قانون، مدل‌ها و نظریه‌های فیزیکی استفاده می‌کنند.
پ) از آن‌جا که فیزیک، علمی نظری است، لازم نیست قوانین، مدل‌ها و نظریه‌های فیزیکی مورد آزمایش قرار گیرند.
ت) مدل‌ها و نظریه‌های فیزیکی در طول زمان همواره معتبر هستند.

- (۱) ۱
(۲) ۲
(۳) ۳
(۴) صفر

۷۲- قطر هر اتم هیدروژن $0.1 nm$ است. چه تعداد اتم هیدروژن در یک راستا کنار یکدیگر قرار دهیم تا طولی به اندازهٔ 100 میکرون حاصل شود؟ (اتم هیدروژن را به صورت کره در نظر بگیرید.)

- (۱) 10^3
(۲) 10^6
(۳) 10^8
(۴) 10^{11}

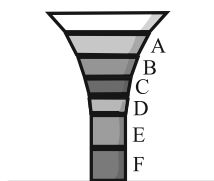
۷۳- شخصی جرم جسمی را با یک ترازوی دیجیتال ۸ بار اندازه گرفته و اعداد زیر را بر حسب گرم به دست آورده است. دقت اندازه‌گیری ترازو و جرم این جسم بر حسب گرم به ترتیب از راست به چپ کدام است؟

- (۱) 0.1 و $25/1$
(۲) 0.4 و $25/4$
(۳) 0.4 و $25/1$
(۴) 0.1 و $25/4$

۷۴- جرم‌های یکسانی از مایعات مخلوط نشدنی A، B، C، D، E و F با چگالی‌های متفاوت را در ظرفی مشابه شکل زیر ریخته‌ایم. کدام



گزینه درباره چگالی و حجم مایعات صحیح می‌باشد؟ (شکل تقریبی کشیده شده است.)



$$\rho_C < \rho_D < \rho_E, V_F > V_B > V_A \quad (1)$$

$$\rho_B < \rho_C < \rho_F, V_A < V_D < V_E \quad (2)$$

$$\rho_F > \rho_C > \rho_A, V_B > V_D > V_E \quad (3)$$

$$\rho_B < \rho_C < \rho_D, V_A < V_F < V_E \quad (4)$$

۷۵- ظرفی به جرم ۱۵۰ گرم را روی ترازو قرار می‌دهیم. ظرف را یکبار از مایعی به چگالی ρ_1 و بار دیگر از مایعی به چگالی ρ_2 به‌طور کامل پر

می‌کنیم. اگر عدد ترازو در دو حالت به ترتیب 0.65 kg و 0.9 kg باشد، نسبت $\frac{\rho_1}{\rho_2}$ چقدر است؟

$$\frac{2}{3} \quad (1) \quad \frac{1}{2} \quad (2) \quad \frac{13}{8} \quad (3) \quad \frac{16}{21} \quad (4)$$

۷۶- اگر یک مکعب از جنس فلز را به آرامی داخل ظرف پر از آبی قرار دهیم و مکعب کاملاً داخل آب فرو رود، ۲۰۰ سانتی‌مترمکعب آب به بیرون



می‌ریزد. اگر چگالی فلز سازنده مکعب 6 g/cm^3 و جرم مکعب ۹۰۰ گرم باشد، حجم حفره داخل مکعب، چند سانتی‌مترمکعب است؟

$$350 \quad (1) \quad 200 \quad (2) \quad 150 \quad (3) \quad 50 \quad (4)$$

۷۷- اگر 50 cm^3 از مایع A با چگالی 1200 kg/m^3 را با 100 cm^3 از مایع B با چگالی 1800 kg/m^3 مخلوط کنیم، چگالی مخلوط چند



g/cm^3 می‌شود؟ (در اثر مخلوط شدن دو مایع، تغییر حجم رخ نمی‌دهد.)

$$1/3 \quad (1) \quad 1/4 \quad (2) \quad 1/5 \quad (3) \quad 1/6 \quad (4)$$

۷۸- اگر فرایند سردسازی مایع ... باشد، اغلب ذرات سازنده آن در طرح‌های ... کنار هم قرار می‌گیرند و جامدی ... را تشکیل می‌دهند.

(۱) آهسته، نامنظم، آمورف

(۲) سریع، منظم، بلورین

(۳) آهسته، منظم، آمورف

(۴) سریع، نامنظم، آمورف

۷۹- کدام یک از گزاره‌های زیر درست هستند؟

الف) پلازما اغلب در دماهای خیلی بالا به‌وجود می‌آید.

ب) ذرات جسم جامد به سبب نیروهای گرانشی‌ای که به یکدیگر وارد می‌کنند، در کنار یکدیگر می‌مانند.

ج) الماس، یخ، مواد معدنی و شیشه، مثال‌هایی از جامد بلورین هستند.

د) فاصله ذرات سازنده مایع و جامد تقریباً یکسان و در حدود یک آنگستروم است.

(۱) الف، ب و د

(۲) الف، ب و ج

(۳) الف و د

(۴) ب و د

۸۰- در رابطه با حالت گاز مواد، کدام یک از عبارتهای زیر نادرست است؟

(۱) ماده در این حالت شکل مشخصی ندارد.

(۲) اتم‌ها و مولکول‌های آن آزادانه به اطراف حرکت و با یکدیگر برخورد می‌کنند.

(۳) فاصله میانگین مولکول‌های آن در مقایسه با اندازه آن‌ها، خیلی بیش‌تر است.


(۴) سرعت پخش در آن نسبت به مایعات کم‌تر است.



۸۶- تعداد اتم‌ها در ۵ گرم CaCO_3 ، $\frac{2}{5}$ برابر تعداد اتم‌های اکسیژن در چند گرم H_3PO_4 است؟

$$(Ca = 40, C = 12, O = 16, P = 31, H = 1 : g.mol^{-1})$$

۴) ۱۲/۲۵ ۳) ۶/۱۲۵ ۲) ۲/۴۵ ۱) ۴۹

۸۷- چند مورد از مطالب زیر درست است؟ 


(آ) از لامپ زنون در ساخت تابلوهای تبلیغاتی برای ایجاد نوشته‌های نورانی سرخ‌فام استفاده می‌شود.

(ب) موقعیت (گروه اول و دوره سوم) در جدول تناوبی مربوط به عنصری است که رنگ شعله آن سرخ است.

(پ) رنگ شعله ترکیب مس (II) سولفات نسبت به لیتیم طول موج بلندتری دارد.

(ت) همه خطوط طیف نشری خطی عنصرها در ناحیه مرئی قرار دارد.

۱) صفر ۲) ۲ ۳) ۳ ۴) ۴

۸۸- چند مورد درست است؟ 

• بور برای توجیه طیف نشری خطی اتم هیدروژن مدل کوانتومی را پیشنهاد کرد.

• دانشمندان برای بررسی طیف نشری خطی اتم‌هایی با بیش از یک الکترون مدل کوانتومی را پیشنهاد کردند.

• در مدل کوانتومی انرژی مشابه بالا رفتن از سطح شیب‌دار مبادله می‌شود.

• هر نوار رنگی در طیف نشری خطی هر عنصر، پرتوهای باز نشر شده در هنگام بازگشت الکترون‌ها را از لایه‌های بالاتر به لایه‌های پایین‌تر را

نشان می‌دهد.

۱) صفر ۲) ۱ ۳) ۲ ۴) ۳

۸۹- با توجه به شکل روبه‌رو، کدام گزینه نادرست است؟

(۱) مدل لایه‌ای اتم را نشان می‌دهد و الکترون در هر لایه‌ای که باشد در همه نقاط پیرامون هسته

حضور می‌یابد.

(۲) نیلز بور به کمک این مدل توانست طیف نشری هیدروژن را به خوبی توضیح دهد.

(۳) الکترون هنگام انتقال از یک لایه به لایه دیگر، انرژی را به صورت پیمانه‌ای یا بسته‌های معین جذب یا نشر می‌کند.

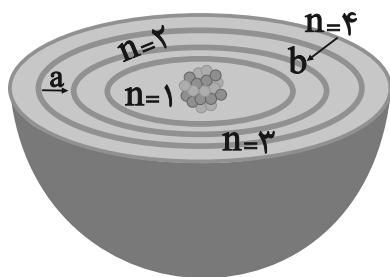
(۴) طول موج نور نشر شده در جابه‌جایی الکترونی **b** از **a** کوتاه‌تر است.

۹۰- در اتم هیدروژن هرچه اختلاف انرژی لایه‌های متوالی ... یابد سطح انرژی لایه‌ها ... می‌شود و می‌توان گفت انرژی حاصل از انتقال الکترون

از لایه دوم به اول ... از انتقال الکترون از لایه سوم به دوم است.

(۱) افزایش - کمتر - کمتر (۲) کاهش - کمتر - بیشتر

(۳) افزایش - بیشتر - کمتر (۴) کاهش - بیشتر - بیشتر



ریاضی دهم

۱۵ دقیقه

مجموعه، الگو و دنباله /
مثلثات
فصل ۱ و فصل ۲ تا پایان
دایره مثلثاتی
صفحه‌های ۱ تا ۴۱

۹۱- اگر $n(A) + n(B) = 26$ و $n(B' - A') = 12$ باشد، آنگاه حاصل $n(A' - B') + 2n(A' \cup B')$ کدام است؟

(۱) ۱۲ (۲) ۱۴ (۳) ۱۶ (۴) ۲۶

۹۲- با توجه به الگوی مقابل در شکل بیستم چه تعداد از دایره‌ها رنگی نیستند؟

(۱) ۳۸۰ (۲) ۴۰۴ (۳) ۳۸۴ (۴) ۱۹۴

(۱) (۲) (۳)

۹۳- جملات دنباله $-5, 8, 33, 70, \dots$ از حاصل ضرب جملات متناظر یک دنباله حسابی با قدرنسبت ۳ و یک الگوی خطی با جمله دوم ۱ به دست آمده است. حاصل جمع جمله $10^{\text{ام}}$ الگوی خطی و جمله $20^{\text{ام}}$ دنباله حسابی کدام است؟

(۱) ۷۹ (۲) ۶۹ (۳) ۸۱ (۴) ۷۱

۹۴- جمله چندام دنباله حسابی $-3, 0, 3, \dots$ با تعداد دایره‌های الگوی زیر در مرحله یازدهم برابر است؟

(۱) ۲۲ (۲) ۲۳ (۳) ۲۴ (۴) ۲۵

(۱) (۲) (۳)

۹۵- در یک دنباله هندسی با جملات مثبت، اگر مجموع ۲ جمله اول دنباله، $\frac{2}{3}$ برابر مجموع جملات سوم و چهارم آن باشد، قدرنسبت این دنباله کدام است؟

(۱) $\frac{\sqrt{3}}{2}$ (۲) $\frac{\sqrt{6}}{2}$ (۳) $\frac{1}{2}$ (۴) $\frac{\sqrt{2}}{2}$

۹۶- در یک دنباله حسابی غیر ثابت جملات سوم، هفتم و نهم به ترتیب سه جمله متوالی از یک دنباله هندسی هستند. کدام جمله این دنباله حسابی برابر با صفر می‌باشد؟

(۱) ۹ (۲) ۱۰ (۳) ۱۱ (۴) ۱۲

۹۷- در مثلث ABC شکل زیر، نسبت ارتفاع BH وارد بر ضلع AC به ارتفاع CH' وارد بر ضلع AB کدام است؟

(۱) $\sqrt{2}$ (۲) $\frac{1}{2}$ (۳) $\frac{\sqrt{2}}{2}$ (۴) $\sqrt{3}$

۹۸- اگر $\alpha < 0$ و $\sin \alpha \cdot \cos \alpha \cdot (1 + \tan^2 \alpha) \cdot (1 + \cot^2 \alpha)$ در کدام ربع دایره مثلثاتی قرار دارد؟

(۱) دوم (۲) چهارم (۳) دوم یا چهارم (۴) اول

۹۹- اگر $\tan x = 4$ باشد، حاصل عبارت $\frac{2 \sin x - 5 \cos x}{4 \cos x + \sin x}$ برابر کدام است؟

(۱) $\frac{3}{8}$ (۲) $\frac{7}{3}$ (۳) -۱ (۴) $\frac{4}{3}$

۱۰۰- در صورتی که زاویه بین خط L با جهت مثبت محور xها بین 30° تا 60° متغیر بوده و محور xها را در نقطه‌ای به طول $\sqrt{3}$ قطع کند، عرض از مبدأ این خط کدام نمی‌تواند باشد؟

(۱) $-\sqrt{3}$ (۲) -۲ (۳) $-\sqrt{7}$ (۴) $-\frac{7}{2}$



دفترچه سؤال

آزمون هوش و استعداد
(دوره دوم)
۲ شهریور

تعداد کل سؤالات آزمون: ۲۰
زمان پاسخ‌گویی: ۳۰ دقیقه


گروه فنی تولید

حمید لنجان‌زاده اصفهانی	مسئول آزمون
حمیدرضا رحیم‌خانلو	ویراستار
محیا اصغری	مدیر گروه مستندسازی
علیرضا همایون‌خواه	مسئول درس مستندسازی
حمید اصفهانی، نیلوفر امینی، حمید گنجی، مرجان جهان‌بانی، فاطمه راسخ، فرزاد شیرمحمدلی، سجاد محمدنژاد	طراحان
معصومه روحانیان	حروف‌چینی و صفحه‌آرایی
حمید عباسی	ناظر چاپ

برای مشاهده پاسخ‌ها، به صفحه شخصی خود در سایت کانون مراجعه کنید.


مدت زمان پاسخگویی
۳۰ دقیقه

استعداد تحلیلی



۲۵۱- هدف سازنده تصویر زیر کدام است؟

- (۱) ایجاب رابطه مستقیم بین موقعیت ظاهری و احساسات
- (۲) سلب لزوم وجود رابطه مستقیم بین موقعیت ظاهری و احساسات
- (۳) اثبات محدودیت خواسته‌ها و توانایی‌ها
- (۴) اثبات نامحدود بودن خواسته‌ها و توانایی‌ها



۲۵۲- تصویر زیر کدام رفتار را به یاد می‌آورد؟

- (۱) نفاق
- (۲) پرخاش
- (۳) عزلت
- (۴) غرور

* متن زیر از کتاب «قدرت بی‌قدرتان» از «نشر نو» برگزیده شده است. بر اساس استدلال‌های متن، به دو پرسش بعدی پاسخ دهید.

ایدئولوژی که تفسیر ساختار قدرت از واقعیت است، همیشه در نهایت تحت‌الشعاع منافع ساختار قدرت قرار می‌گیرد. بنابراین، در دل ایدئولوژی گرایشی طبیعی برای جداکردن خودش از واقعیت و خلق جهانی از ظواهر و تبدیل شدن به یک آیین وجود دارد. در جوامعی که رقابتی عمومی برای کسب قدرت وجود دارد و در نتیجه آن، قدرت تحت نظارت عمومی است، طبیعتاً نحوه مشروعیت بخشیدن ایدئولوژیک قدرت به خودش هم تحت نظارت عمومی قرار می‌گیرد. بنابراین در چنین شرایطی همیشه عوامل تصحیح‌کننده معینی وجود دارند که به نحو مؤثری نمی‌گذارند ایدئولوژی به طور کلی دست از واقعیت بشوید. اما در نظام‌های توتالیتر خبری از این عوامل تصحیح‌کننده نیست، و در نتیجه چیزی نیست که بتواند جلودار هر چه دورتر شدن ایدئولوژی از واقعیت و تبدیل شدن تدریجی‌اش به آن چیزی شود که در نظام‌های پساتوتالیتر می‌بینیم: جهانی از ظواهر، آیین صرف، زبانی صوری و تشریفاتی که هیچ ربط معنایی به واقعیت ندارد و بدل به مجموعه‌ای از علائم آیینی شده است که شبه‌واقعیت را به جای واقعیت می‌نشانند.

۲۵۳- با استدلال‌های متن بالا، کدام واژه‌ها عبارات زیر را بهتر کامل می‌کند؟

- (الف) امکان رسیدن به قدرت برای عموم مردم... استحاله ایدئولوژی به یک آیین است.
- (ب) قدرتی که تحت نظارت عمومی باشد، برای استحاله ایدئولوژی به سود خود، توانایی... دارد.
- (۱) مانع - کمتری
 - (۲) مانع - بیشتری
 - (۳) تسهیل‌گر - بیشتری
 - (۴) تسهیل‌گر - کمتری



۲۵۴- فارغ از صحت، کدام گزینه استدلالی در مخالفت با گفته‌های متن بالا نیست؟

- (۱) ایدئولوژی‌ها از آغاز نیز اموری صوری و زبانی و دور از واقعیت بوده‌اند و تغییرات آنان به مرور زمان، یک فرایند طبیعی و تدریجی در حیات بشری است.
- (۲) ایدئولوژی که از جهان واقع جدا شده باشد، امری ظاهری و تثبیت و گسترش منافع صاحبان قدرت، از کاربردهای افزوده شده آن است.
- (۳) وجود عوامل تصحیح‌کننده در یک جامعه، به معنای منحصرنشدن ایدئولوژی به یک آیین نیست، بلکه صرفاً ماهیت آیین‌هاست که متفاوت است.
- (۴) باورهای انسان‌ها به امور متفاوت است، بنابراین واقعیت منحصربه‌فردی وجود ندارد که معیار قضاوت درستی یا نادرستی یک ایدئولوژی باشد.

۲۵۵- به کدام ویژگی جالینوس طبیب در متن زیر اشاره شده است؟

یکی را از مشاهیر شهر اسکندریه به عهد جالینوس سر دست درد گرفت و بی قرار شد و هیچ نیارامید. جالینوس را خبر کردند. مرهم فرستاد که بر سر کتف او نهند. همچنان کردند که جالینوس فرموده بود. در حال درد بنشست و بیمار تندرست گشت و اطبا عجب بماندند. پس از جالینوس پرسیدند که: «این چه معالجت بود که کردی؟» گفت: «آن عصب که بر سر دست درد می‌کرد مخرج او از سر کتف است. من اصل را معالجت کردم

فرع به شد.»

(۲) مؤمن

(۱) رقیق‌الخلق

(۴) شریف

(۳) جید‌الحدس

* در دو پرسش بعدی، تعیین کنید پس از مرتب‌کردن عبارت‌ها برای ساخت یک متن درست، کدام گزینه در جایگاه سوم قرار می‌گیرد.

۲۵۶-

الف) بخش دوم کتاب درباره تاریخ کرمان است و مؤلف ضمن شرح برخی رویدادهای سلطنت، به اهتمام او در امور وقفی پرداخته است.

ب) «تاریخ شاهی» کتابی به پارسی درباره دوران حکومت سلسله قراختائیان کرمان در سده هفتم است.

ج) ناصرالدین منشی، مؤلف تاریخ شاهی را خواجه شهاب‌الدین ابوسعید معرفی کرده‌است که آن را در دو بخش تنظیم کرده است.

د) هریک از بخش‌های کتاب فصول متعددی دارد، بخش نخست از سیاست مدن، اخلاق و خصال پادشاهان و وزیران و ... است.

(۲) ب

(۱) الف

(۴) د

(۳) ج

۲۵۷-

الف) نخست از پیکر کشتی در آن یم / نبیند هیچ غیر از نوک پرچم

ب) دلیل اولینش گردی آب / به دریا اندر آ، این نکته دریاب

ج) زمین گرد است مانند گلوله / نیوتون کرده واضح این مقوله

د) کسی کو بیندی یم را به ساحل / شود از دور با کشتی مقابل

(۲) ب

(۱) الف

(۴) د

(۳) ج



۲۵۸- برای پیدا کردن رقم یکان عدد A ، عدد حاصل از عملیات زیر، کدام داده(ها) کافی است؟

$$A = 11 + 12 + 13 + 14 + \dots + n$$

الف) n عددی دورقمی و مضرب ۷ است.

ب) باقی‌مانده تقسیم n بر عدد ۱۳، عدد ۲ است.

۱) داده «الف» کافی است. به داده «ب» احتیاجی نداریم.

۲) داده «ب» کافی است. به داده «الف» احتیاجی نداریم.

۳) هیچ‌یک از دو داده به تنهایی کافی نیست اما اگر هر دو داده باشد، به پاسخ می‌رسیم.

۴) با وجود هر دو داده نیز به پاسخ نمی‌رسیم.

۲۵۹- شخصی ادعا می‌کند با محاسبات ریاضی بدون آن که سنّ شما را بپرسد، آن را به درستی حدس می‌زند. برای این کار باید مراحل زیر را طی کنید.

الف) عدد سنّ خود را - بدون آن که به ما بگویید - با عدد چهار جمع کنید.

ب) عدد حاصل را در عدد پنج ضرب و سپس n واحد به آن اضافه کنید.

ج) از دو برابر عدد حاصل، شصت و چهار واحد کم کنید و صفر را از یکان بردارید.

د) عدد حاصل، سنّ شماست.

برای آن که محاسبات بالا همواره درست باشد، به جای n باید چه عددی قرار داد؟

۸ (۲)

۴ (۱)

۱۶ (۴)

۱۲ (۳)

۲۶۰- عدد حاصل از تفاضل عددی طبیعی از مربع خودش ...

۲) حتماً فرد است.

۱) حتماً زوج است.

۴) ممکن است عددی زوج یا عددی فرد، اول یا غیر اول باشد.

۳) قطعاً عددی اول نیست.

* در دو پرسش بعدی بر اساس داده‌های هر سؤال، اگر مقدار «الف» بزرگ‌تر است گزینه «۱»، اگر مقدار «ب» بزرگ‌تر است گزینه «۲»، اگر مقادیر

«الف» و «ب» با هم مساوی است گزینه «۳» و اگر با اطلاعات داده‌شده نسبت این دو معلوم نیست، گزینه «۴» را انتخاب کنید.

۲۶۱- در یک انتخابات فرضی، آقای «الف» با ۳۵٪ و آقای «ب» با ۳۰٪ آرا به ترتیب اول و دوم شدند ولی چون هیچ‌یک نتوانستند آرای اکثریت (بالای ۵۰٪) را

کسب کنند، انتخابات بین این دو تن به دور دوم کشیده شد. در دور دوم، ۱۰٪ از واجدان شرایط رأی دادن که در انتخابات رأی نداده بودند، به آقای

«الف» و ۷۰٪ از ایشان به آقای «ب» رأی دادند. تعداد رأی آقایان «الف» و «ب» در دور دوم انتخابات ...



۲۶۲- در یک فضای آزمایشگاهی اثبات شده است با نابود شدن هر واحد از «الف»، سه واحد به «ب» اضافه می‌شود. اگر فضا را به گونه‌ای تنظیم کنیم که در

آغاز ۱۰۰۰ واحد «الف» و ۵۰۰ واحد «ب» داشته باشیم و در هر ۳ ثانیه، ۲ واحد «الف» نابود شود، سه دقیقه پس از شروع فرایند ...

۲۶۳- اگر مهره‌هایی را که داریم به بسته‌های ۵ تایی یا ۱۱ تایی تقسیم کنیم، ۴ مهره اضافه می‌ماند. اگر مهره‌ها را به بسته‌های ۷ تایی تقسیم کنیم،

۲ مهره اضافه می‌ماند. می‌دانیم عدد تعداد مهره‌هایی که داریم، کم‌ترین عدد ممکن است که شرایط بالا را دارد. اگر مهره‌ها را هشت تا هشت تا تقسیم

کنیم، چند مهره اضافه می‌ماند؟

۱ (۱) ۲ (۲)

۳ (۳) ۶ (۴)

۲۶۴- از معادله زیر که ضرب یک عدد سه‌رقمی در یک عدد دورقمی است، حاصل $\square + \bigcirc \times \triangle$ کدام است؟

○	△	□
×	○	□
○	□	□
۴		

۱ (۱) صفر

۲ (۳) ۱ (۲)

۳ (۴) ۳ (۴)

۲۶۵- مژگان متولد ۲۶ خرداد ۱۳۲۰ هجری خورشیدی است. سن او را طبق جدول زیر با M نشان می‌دهیم.

۲۶ خرداد ۱۳۲۰	۲۶ خرداد ۱۳۲۱	۲۶ خرداد ۱۳۲۲
$M = ۰$	۱	۲

روزی که $M = ۲۱$ شد، نخستین فرزند مژگان، «رها» به دنیا آمد. دقیقاً دو سال بعد، فرزند دوم مژگان «دنیا» نیز به دنیا آمد. سن رها و دنیا را نیز

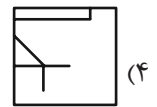
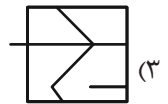
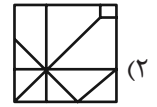
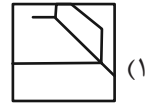

مطابق با جدول بالا، با R و D نشان می‌دهیم. تعیین کنید از زمانی که D عددی در دسته اعداد طبیعی است، تا پایان سده چهاردهم میلادی،

چند بار حاصل تقسیم $\frac{M}{R+D}$ عددی طبیعی بوده است؟

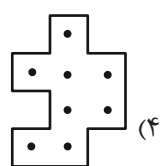
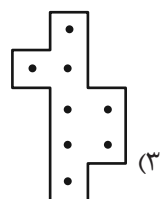
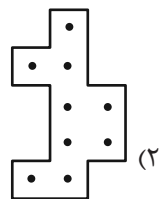
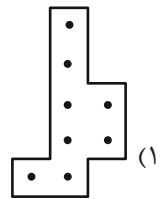
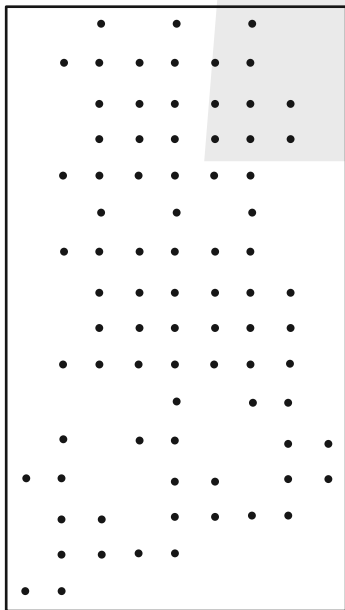
۱ (۱) ۲ (۲)

۳ (۳) ۴ (۴)

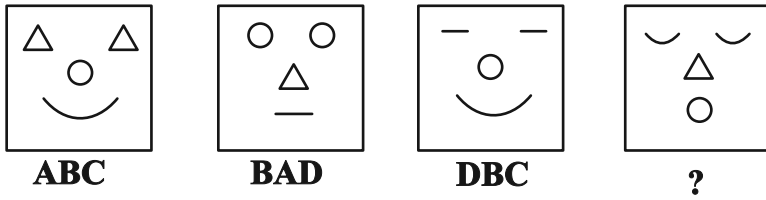
۲۶۶- کدام گزینه جزئی از شکل زیر نیست؟



۲۶۷- شکل زیر از تکرار بی دوران کدام گزینه حاصل شده است؟



۲۶۸- در کدگذاری زیر، گزینه جایگزین علامت سؤال کدام است؟



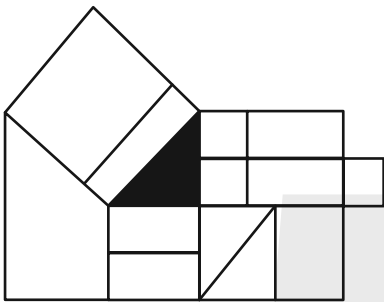
ACD (۲)

DAB (۱)

BDC (۴)

CAB (۳)

۲۶۹- چند مستطیل در شکل زیر هست که حداقل بخشی از یکی از ضلع‌های آن، بر حداقل بخشی از مثلث رنگی شکل مماس باشد؟



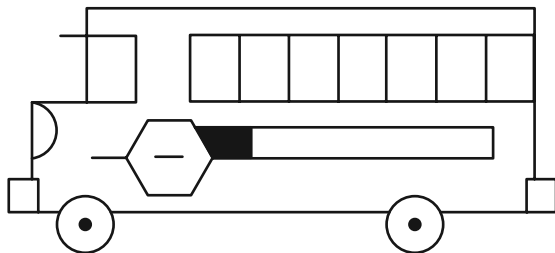
۱۲ (۱)

۱۳ (۲)

۱۴ (۳)

۱۵ (۴)

۲۷۰- چند مستطیل در شکل زیر هست؟



۲۴ (۱)

۲۸ (۲)

۳۲ (۳)

۳۶ (۴)

خودارزیابی توجه و تمرکز

بخش چهارم: ارزیابی تغییر توجه Shifting attention آزمون ۲ شهریور ۱۴۰۳

دانش آموز عزیز!

توجه و تمرکز برای یادگیری، مطالعه و دستیابی به موفقیت تحصیلی بسیار مهم است. این مهارت‌های شناختی دانش‌آموزان را قادر می‌سازد تا اطلاعات را دریافت کنند، روی کارها و تکالیف متمرکز بمانند و به طور موثر زمان و منابع خود را مدیریت کنند. بهبود توجه و تمرکز می‌تواند منجر به درک بهتر مطالب، نمرات بالاتر و به طور کلی تجربه یادگیری موثرتر شود. برای کمک به ارزیابی ظرفیت‌های توجه خود، از شما دعوت می‌کنیم با سوالات زیر خود را ارزیابی کنید. مهم است که به هر سؤال صادقانه پاسخ دهید. با درک نقاط قوت و زمینه‌های پیشرفت، می‌توانید برای ارتقای عملکرد تحصیلی خود قدم بردارید.

سوالات را به دقت بخوانید و نزدیکترین پاسخ مرتبط با خود را انتخاب و در پاسخبرگ علامت بزنید. دقت داشته باشید که سوالات از شماره ۲۷۱ شروع شده است.

۲۷۱. من می‌توانم بدون از دست دادن تمرکز و به سرعت از یک کار به کار دیگر، توجهم را تغییر دهم.

۱. هرگز ۲. به ندرت ۳. گاهی اوقات ۴. همیشه

۲۷۲. من می‌توانم در طول مدرسه به راحتی توجهم را از یک موضوع به موضوع دیگر تغییر دهم.

۱. هرگز ۲. به ندرت ۳. گاهی اوقات ۴. همیشه

۲۷۳. وقتی یک فعالیت جدید شروع می‌شود، من می‌توانم به سرعت توجه خود را دوباره متمرکز کنم.

۱. هرگز ۲. به ندرت ۳. گاهی اوقات ۴. همیشه

۲۷۴. من می‌توانم بدون از دست دادن تمرکز، خود را با تغییرات برنامه درسی هماهنگ کنم.

۱. هرگز ۲. به ندرت ۳. گاهی اوقات ۴. همیشه

۲۷۵. من می‌توانم در طول بحث‌های گروهی توجهم را از یک موضوع به موضوع دیگر تغییر دهم.

۱. هرگز ۲. به ندرت ۳. گاهی اوقات ۴. همیشه

۲۷۶. وقتی معلم موضوع تدریس را تغییر می‌دهد، من به سرعت می‌توانم تمرکز را تغییر دهم.

۱. هرگز ۲. به ندرت ۳. گاهی اوقات ۴. همیشه

۲۷۷. من می‌توانم بین انواع مختلف مسائل و سوالات بدون از دست دادن تمرکز، جابجا شوم.

۱. هرگز ۲. به ندرت ۳. گاهی اوقات ۴. همیشه

۲۷۸. من به راحتی می‌توانم از یک کلاس به کلاس درس جدید دیگر بروم و متمرکز بمانم.

۱. هرگز ۲. به ندرت ۳. گاهی اوقات ۴. همیشه

۲۷۹. من می‌توانم تمرکز را از یک پروژه به پروژه دیگر بدون مشکل تغییر دهم.

۱. هرگز ۲. به ندرت ۳. گاهی اوقات ۴. همیشه

۲۸۰. وقتی از من خواسته می‌شود تکلیف جدیدی را انجام دهم، می‌توانم به سرعت روی آن تکلیف تمرکز کنم.

۱. هرگز ۲. به ندرت ۳. گاهی اوقات ۴. همیشه



علوم نهم - زیست‌شناسی

۱- گزینه ۳

فاطمه نوبخت

گزینه ۱: سخت‌پوستان ۱۰ پای حرکتی دارند.
گزینه‌های ۲ و ۴: بیشتر سخت‌پوستان، ذره‌بینی و دریازی هستند و غذای جانوران بزرگ مثل ماهی‌ها را تشکیل می‌دهند.
(پانوران بی‌مهره، صفحه‌های ۱۴۸ و ۱۵۰ کتاب درسی)

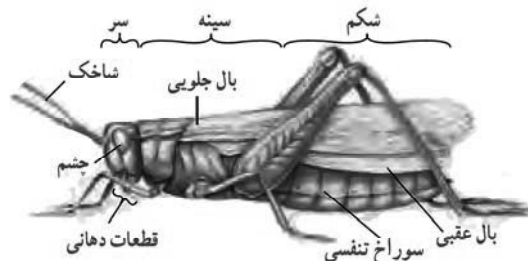
۲- گزینه ۲

فاطمه نوبخت

موارد (ج) و (د) غلط هستند.
مورد (ج) در میان بندپایان، حشرات از بقیه فراوان‌ترند.
مورد (د) بعضی از هزارپایان گوشت‌خوار و بعضی گیاه‌خوار هستند.
(پانوران بی‌مهره، صفحه‌های ۱۴۸ و ۱۵۰ کتاب درسی)

۳- گزینه ۴

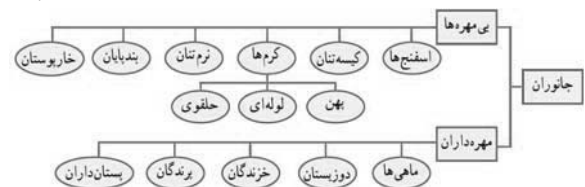
فاطمه نوبخت



(پانوران بی‌مهره، صفحه ۱۴۹ کتاب درسی)

۴- گزینه ۱

فاطمه نوبخت



(پانوران بی‌مهره، صفحه ۱۴۲ کتاب درسی)

۵- گزینه ۴

امیر حسن زاده

کرم‌های پهن معمولاً در گوشت‌های آلوده تخم می‌گذارند اما تعدادی از کرم‌های لوله‌ای در خاک زندگی کرده که پس از خوردن باکتری‌ها و قارچ‌ها ترکیباتی به خاک اضافه می‌کنند که باعث رشد بهتر گیاهان می‌شود.

بررسی سایر گزینه‌ها:

گزینه ۱: کرم‌های پهن و لوله‌ای اغلب کرم‌های انگلی را تشکیل می‌دهند و تنها تعداد کمی از کرم‌های حلقوی زندگی انگلی دارند.
گزینه ۲: نوزاد کرم کدو در گوشت گاو آلوده زندگی کرده و می‌تواند وارد بدن ما شود و آنجا بالغ و بزرگ شود و در روده سال‌ها باقی بماند و باعث انسداد شود.

گزینه ۳: کپک نوعی کرم برگی شکل است که پهن می‌باشد و مانند سایر کرم‌های پهن یک راه برای ورود دارد.

(پانوران بی‌مهره، صفحه‌های ۱۴۴ و ۱۴۵ کتاب درسی)

۶- گزینه ۲

امیر حسن زاده

بررسی همه موارد:

(الف) کرمی که حاوی دهان و مخرج است شامل کرم‌های لوله‌ای و کرم‌های حلقوی هستند. وجود کرم خاکی به عنوان نمونه‌ای از کرم‌های حلقوی در زمین‌های کشاورزی، اهمیت زیادی دارد. (درست)
(ب) کرم کدو نوعی کرم پهن است که دستگاه عصبی ساده‌ای دارد. (درست)

(ج) منظور از بدن نرم و ماهیچه‌ای کرم‌های حلقوی است که تعداد کمی انگل هستند و بیشتر آنها زندگی آزاد دارند. (نادرست)

(د) کرم‌های حلقوی تعداد گونه‌انگلی کمی دارند و دستگاه گردش خون نیز دارند. (درست)

(پانوران بی‌مهره، صفحه‌های ۱۴۴ تا ۱۴۶ کتاب درسی)

۷- گزینه ۳

امیر حسن زاده

منظور صورت سؤال نرم‌تنان می‌باشد.

بررسی گزینه‌ها:

گزینه ۱: برخی نرم‌تنان مانند حلزون ولیسه از آفات گیاهی به شمار رفته و برخی واسطه انتقال بعضی کرم‌های انگلی به انسان هستند.
گزینه ۲: از صدف نرم‌تنان در تهیه ابزارهای زینتی استفاده می‌شود.
گزینه ۳: بیشتر نرم‌تنان در آب (دریا یا آب شیرین) زندگی می‌کنند.
گزینه ۴: نرم‌تنان در تولید کلسیم قابل جذب به کار می‌روند.

(پانوران بی‌مهره، صفحه‌های ۱۴۶ و ۱۴۷ کتاب درسی)

۸- گزینه ۱

امیر حسن زاده

منظور صورت سؤال حشرات هستند.

بررسی همه موارد:

(الف) اسکلت خارجی بندپایان مانع رشد آن‌ها شده و به همین دلیل بسیاری از آن‌ها پوست‌اندازی می‌کنند.
(ب) در ملخ‌ها بال‌های جلویی بالای بال‌های عقبی هستند.
(ج) طبق متن کتاب درسی، این مورد درست است.
(د) حشرات به عنوان موجود آزمایشگاهی در آزمایشگاه‌های ژنتیک به کار می‌روند. حشرات فراوان‌ترین گروه بندپایان‌اند.

(پانوران بی‌مهره، صفحه‌های ۱۴۸ و ۱۴۹ کتاب درسی)

۹- گزینه ۲

ملیکا لطیفی نسب

موارد (ب) و (د) صحیح هستند.

بررسی سایر موارد:

(الف) مرجان‌ها در مناطق کم‌عمق خلیج فارس مانند سواحل دریا مشاهده می‌شوند.

(ج) بی‌مهره‌ها فاقد ستون مهره هستند اما بیشتر آن‌ها اسکلت خارجی دارند.

(پانوران بی‌مهره، صفحه‌های ۱۴۱ و ۱۴۲ کتاب درسی)

۱۰- گزینه ۲

ملیکا لطیفی نسب

اسفنج‌ها فاقد توانایی حرکت بوده و هیچ دستگاهی در بدن خود ندارند.

(پانوران بی‌مهره، صفحه‌های ۱۴۲ و ۱۴۳ کتاب درسی)



علوم نهم - فیزیک و زمین

۱۱- گزینه «۳»

«مبین هقان»

طبق اصل پاسکال داریم:

$$\frac{F_1}{A_1} = \frac{F_2}{A_2} \quad F=mg \rightarrow \frac{2000 \times g}{1} = \frac{m \times g}{100 \times 10^{-4}}$$

$$\Rightarrow m = 20 \text{ kg}$$

(فشار و آثار آن، صفحه ۸۹ کتاب درسی)

۱۲- گزینه «۱»

«مبین هقان»

طبق تعریف فشار داریم:

$$P = \frac{F}{A} \Rightarrow \frac{P_A}{P_B} = \frac{\frac{F_A}{A_A}}{\frac{F_B}{A_B}} \quad F=mg \rightarrow \frac{P_A}{P_B} = \frac{m_A}{m_B} \times \frac{A_B}{A_A}$$

$$\Rightarrow \frac{P_A}{P_B} = \frac{100 \times 10^{-3}}{10} \times \frac{1}{10 \times 10^{-4}} = 10 \Rightarrow P_A = 10 P_B$$

(فشار و آثار آن، صفحه‌های ۸۴ تا ۸۶ کتاب درسی)

۱۳- گزینه «۲»

«مبین هقان»

شکل‌های (ب) و (ت) به درستی رسم شده‌اند.

(فشار و آثار آن، صفحه ۸۸ کتاب درسی)

۱۴- گزینه «۱»

«مصطفی کیانی»

با افزایش ارتفاع از سطح زمین، تراکم مولکول‌های هوا کم شده و فشار کاهش می‌یابد.

(فشار و آثار آن، صفحه ۹۱ کتاب درسی)

۱۵- گزینه «۳»

«مصطفی کیانی»

ابتدا جرم مکعب را به دست می‌آوریم:

$$m = \rho V = 8 \times 4 \times 6 \times 7 = 84 \text{ kg} = 0 / 84 \text{ kg}$$

فشاری که بر سطح افقی وارد می‌شود را در دو حالت حساب می‌کنیم و برابر هم قرار می‌دهیم:

$$\frac{F_1}{A_1} = \frac{F_2}{A_2} \Rightarrow \frac{mg + W}{A_1} = \frac{mg}{A_2} \quad \frac{mg = 84 \text{ N}}{A_1 = 6 \times 7 = 42 \text{ cm}^2, A_2 = 4 \times 6 = 24 \text{ cm}^2}$$

$$\Rightarrow 84 / 4 + W = 14 / 7 \Rightarrow W = 6 / 2 \text{ N}$$

(فشار و آثار آن، صفحه‌های ۸۴ تا ۸۶ کتاب درسی)

۱۶- گزینه «۴»

«عرفان عسکریان پایمان»

صمغ گیاهان، محیط مناسبی برای فسیل شدن کامل حشرات است، زیرا قسمت‌های نرم بدن آن‌ها نیز تبدیل به فسیل می‌شوند.

(آثاری از گذشته زمین، صفحه‌های ۷۶ و ۷۷ کتاب درسی)

۱۷- گزینه «۲»

«مهم فیری»

فسیل دو کف‌های‌ها، با توجه به محل سکونت آن‌ها در بستر اقیانوس‌ها و مساعد بودن شرایط برای فسیل شدن، به وفور یافت می‌شوند.

(آثاری از گذشته زمین، صفحه‌های ۷۶ و ۷۷ کتاب درسی)

۱۸- گزینه «۳»

«مهم فیری»

مار ماهی و ماهی‌ها شانس فسیل شدن بیشتری دارند، چون دریاها برای تشکیل فسیل مناسب‌تر از بیابان‌ها هستند، زیرا دفن شدن اجساد لایه‌لای رسوبات مانع از فساد اجساد شده و احتمال تبدیل به فسیل را افزایش می‌دهد.

(آثاری از گذشته زمین، صفحه‌های ۷۵ تا ۷۷ کتاب درسی)

۱۹- گزینه «۱»

«مبیر میرزایی»

به بررسی گزینه‌ها می‌پردازیم:

(الف) چون لایه E بالاتر از همه قرار دارد پس لایه E جدیدترین فسیل را دارد. این عبارت نادرست است.

(ب) چون لایه F یک لایه آذرین است، پس فسیلی در آن تشکیل نمی‌شود. درست است.

(پ) لایه A از لایه B قدیمی‌تر است، پس سن فسیل موجود در آن باید بیشتر از ۲۰۰ میلیون سال باشد. این عبارت نادرست است.

(ت) چون لایه A قدیمی‌ترین لایه است پس ساختمان بدن آن ساده است. این عبارت نادرست است.

بنابراین فقط عبارت (ب) درست است.

(آثاری از گذشته زمین، صفحه‌های ۸۰ تا ۸۲ کتاب درسی)

۲۰- گزینه «۳»

«میلاد طاهر عزیزی»

فقط مورد (ب) نادرست است.

(ب) طبق اصل پاسکال، فشار وارد بر یک مایع محصور، بدون کاهش به تمام نقاط مایع می‌رسد.

(فشار و آثار آن، صفحه‌های ۸۸ و ۸۹ کتاب درسی)

علوم نهم - شیمی

۲۱- گزینه «۳»

«مهم صالح فویباری»

گزینه «۱»: برای تشکیل یک مولکول آب، هر اتم هیدروژن (H)، یک الکترون به اشتراک می‌گذارد (نه مولکول هیدروژن (H_۲)).
گزینه «۲»: میان مولکول‌های آب نیروی جاذبه وجود دارد نه پیوند اشتراکی.

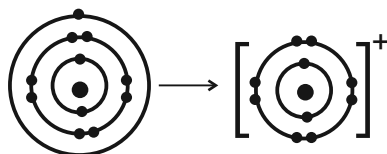
گزینه «۴»: مولکول آب (H_۲O) سه اتمی است که از دو نوع عنصر تشکیل شده است.

(رفتر اتم‌ها با یکدیگر، صفحه‌های ۲۳ و ۲۴ کتاب درسی)

۲۲- گزینه «۲»

«مهم صالح فویباری»

از آنجایی که اتم سدیم الکترون از دست می‌دهد و به کاتیون سدیم (Na⁺) تبدیل می‌شود، اندازه یون آن کوچکتر از اتم آن است.



اتم سدیم Na

یون سدیم Na⁺

(رفتر اتم‌ها با یکدیگر، صفحه‌های ۱۵ تا ۱۹ و ۲۲ کتاب درسی)



۲۳- گزینه ۳

«معمد صالح فویباری»

بررسی گزینه‌ها:

گزینه ۱: همه واکنش‌های شیمیایی از قانون پایستگی جرم پیروی می‌کنند.
گزینه ۲: گاز کلر زرد رنگ است نه سفید رنگ.

گزینه ۳: نسبت بار کاتیون به بار آنیون در منیزیم اکسید (MgO) برابر با منفی یک است و نسبت بار آنیون به بار کاتیون در سدیم کلرید نیز (NaCl) برابر منفی یک است.

گزینه ۴: اتم‌ها تمایل دارند با انجام واکنش‌های شیمیایی به ذره‌هایی تبدیل شوند که در مدار آخر خود، ۸ الکترون داشته باشند.

(رفتر اتم‌ها با یلدریگر، صفحه‌های ۱۷ تا ۱۹ کتاب درسی)

۲۴- گزینه ۲

«میرفسن حسینی»

اتم X سه تا الکترون از دست داده و یون X^{3+} تشکیل می‌دهد. Z یک الکترون گرفته است و یون Z^{-} تشکیل می‌دهد و ترکیب یونی به فرم XZ_3 تشکیل می‌دهند.

(رفتر اتم‌ها با یلدریگر، صفحه‌های ۱۸ کتاب درسی)

۲۵- گزینه ۱

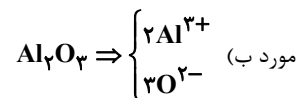
«میرفسن حسینی»

حل شدن نمک در آب سبب تغییر خواص فیزیکی آب می‌شود.
(رفتر اتم‌ها با یلدریگر، صفحه‌های ۱۷، ۱۸ و ۲۲ کتاب درسی)

۲۶- گزینه ۳

«میرفسن حسینی»

فقط مورد (پ) نادرست است.
پیوند بین ذره‌ها در Al_2O_3 از نوع یونی و در CH_4 از نوع اشتراکی است.
بررسی درستی موارد:
مورد آ) هر اتم Al در ترکیب، با از دست دادن $3e^{-}$ دارای ۸ الکترون در مدار آخر خود می‌شود.



هر Al، $3e^{-}$ از دست می‌دهد.
هر Al، $2e^{-}$ از دست می‌دهد.
اتم O، $6e^{-}$ دریافت می‌کنند.

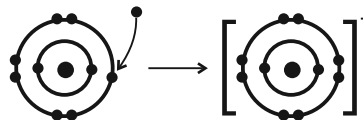
ت) هر اتم O در ترکیب، با گرفتن $2e^{-}$ ، دارای ۸ الکترون در مدار آخر می‌شود.

(رفتر اتم‌ها با یلدریگر، صفحه‌های ۱۷ تا ۱۹ کتاب درسی)

۲۷- گزینه ۳

«آیرین قربانی‌زاده»

عنصر فلئور (F) یک نافلز بوده و با گرفتن یک الکترون به یون فلئورید با ۱۰ الکترون که در لایه آخر خود دارای ۸ الکترون است تبدیل می‌شود.



(رفتر اتم‌ها با یلدریگر، صفحه‌های ۱۸ و ۱۹ کتاب درسی)

۲۸- گزینه ۴

«آیدین قربانی‌زاده»

موارد دوم، سوم و چهارم صحیح هستند.

بررسی مورد اول) یون سدیم، فراوان‌ترین کاتیون موجود در خون است.
(رفتر اتم‌ها با یلدریگر، صفحه ۲۰ کتاب درسی)

۲۹- گزینه ۴

«آیدین قربانی‌زاده»

بررسی سایر گزینه‌ها:

گزینه ۱: بدن ما برای ساخت هموگلوبین به یون آهن (Fe^{2+}) نیاز دارد.

گزینه ۲: برای درمان کم‌خونی و جبران کمبود آهن، قرص آهن (فروس سولفات) تجویز می‌شود.

گزینه ۳: در افراد مبتلا به کم‌خونی مصرف بیشتر غذاهای سرشار از آهن مثل جگر و گوشت سفارش و تجویز می‌شود.

(رفتر اتم‌ها با یلدریگر، صفحه ۲۱ کتاب درسی)

۳۰- گزینه ۱

«سایر شیری»

هر اتم هیدروژن تنها توانایی برقراری یک پیوند اشتراکی را دارد، در حالی که اتم برخی عنصرهای دیگر مانند کربن، نیتروژن و اکسیژن می‌توانند بیش از یک پیوند تشکیل دهند.

(رفتر اتم‌ها با یلدریگر، صفحه‌های ۲۳ و ۲۴ کتاب درسی)

ریاضی نهم

۳۱- گزینه ۴

«علی سرآبادانی»

خواهیم داشت:

$$0.0000042 = 4 / 2 \times 10^{-6} \Rightarrow \begin{cases} a = 4 \\ b = 2 \\ c = -6 \end{cases}$$

به بررسی گزینه‌ها می‌پردازیم:

گزینه ۱: «۱» نادرست
 $4^{-6} > 2^{-6} \Rightarrow (\frac{1}{4})^6 > (\frac{1}{2})^6$

گزینه ۲: «۲» نادرست
 $(-6)^4 < (-6)^2 \Rightarrow 1296 < 36$

گزینه ۳: «۳» نادرست
 $\sqrt[4]{(-6)^2} > \sqrt[4]{(-6)^4} \Rightarrow \sqrt{6} > 36$

گزینه ۴: «۴» درست
 $4^2 = 2^4 \Rightarrow 16 = 16$

(توان و ریشه، صفحه‌های ۶۵ تا ۶۷ کتاب درسی)

۳۲- گزینه ۱

«بهرام علاج»

ابتدا عدد مورد نظر را به ساده‌ترین شکل ممکن تبدیل می‌کنیم، پس:

$$\frac{1}{\frac{8\sqrt{2}}{32\sqrt{4}}} = \frac{1}{\frac{2^3}{4 \times 2^5}} = \frac{1}{\frac{2}{4 \times 2^5}}$$

$$\frac{1}{\frac{2}{4 \times 2^5}} \xrightarrow{\text{معکوس}} 4 \times 2^5 \xrightarrow{\text{ربع}} 2^6 = 16 \times 2 = 32$$

(توان و ریشه، صفحه‌های ۶۸ تا ۷۲ کتاب درسی)



بطرفین $-2ab$ → $a^2 + b^2 - 2ab = \Delta ab$
اضافه می‌کنیم

⇒ $(a - b)^2 = \Delta ab$

جذر → $|a - b| = \sqrt{\Delta ab} \Rightarrow a - b = \sqrt{\Delta ab}$

آنگاه داریم: $\frac{a+b}{a-b} = \frac{3}{\sqrt{5}} \times \frac{\sqrt{5}}{\sqrt{5}} = \frac{3}{5}\sqrt{5}$

(عبارت‌های جبری، صفحه‌های ۷۹ تا ۸۹ کتاب درسی)

گزینه ۳۸ «۲»

برای تجزیه عبارت داده شده داریم:

$(x^2 - 2x)^2 - (x^2 - 2x) - 6 = (x^2 - 2x - 3)(x^2 - 2x + 2)$
 $= (x - 3)(x + 1)(x^2 - 2x + 2)$

در نتیجه عامل $x^2 - 2x + 3$ در بین این عوامل موجود نیست.

(عبارت‌های جبری، صفحه‌های ۱۶ تا ۸۹ کتاب درسی)

گزینه ۳۹ «۱»

صورت کسر را با توجه به اتحاد مزدوج ساده می‌کنیم:

$a^4 - 81 = (a^2 - 9)(a^2 + 9) = (a - 3)(a + 3)(a^2 + 9)$
 $= (\sqrt{a} - \sqrt{3})(\sqrt{a} + \sqrt{3})(a + 3)(a^2 + 9)$

پس ساده شده عبارت $\frac{a^4 - 81}{\sqrt{a} - \sqrt{3}}$ به صورت

$(\sqrt{a} + \sqrt{3})(a + 3)(a^2 + 9)$ است، یعنی $k = \sqrt{3}$ و $m = 3$ و $n = 9$ است.

در نتیجه: $mnk = 27\sqrt{3}$

(عبارت‌های جبری، صفحه‌های ۱۶ تا ۸۹ کتاب درسی)

گزینه ۴۰ «۲»

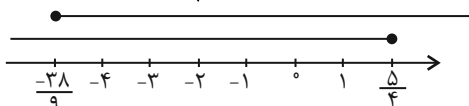
$-3(x-1) \geq 1 - \frac{2x+1}{2} \times 2 \rightarrow -6(x-1) \geq 2 - (2x+1)$

⇒ $-6x + 6 \geq -2x + 1 \Rightarrow -4x \geq -5 \Rightarrow x \leq \frac{5}{4}$ (۱)

$\frac{2}{3}(x+7) - \frac{x}{4} \geq \frac{1}{2}(3-x) + \frac{x}{6}$

$\frac{x+12}{12} \times 12 \rightarrow 8x + 56 - 3x \geq 18 - 6x + 2x \Rightarrow 5x + 4x \geq 18 - 56$

⇒ $9x \geq -38 \Rightarrow x \geq -\frac{38}{9}$ (۲)



(۱), (۲) → $A \cap B = \{x \in \mathbb{R} \mid -\frac{38}{9} \leq x \leq \frac{5}{4}\}$

این مجموعه شامل اعداد صحیح ۱، ۰، -۱، -۲، -۳، -۴ می‌باشد که تعداد آن‌ها ۶ تا است.

(عبارت‌های جبری، صفحه‌های ۹۰ تا ۹۴ کتاب درسی)

گزینه ۳۳ «۳»

«ابراهیم نیفی»
 $a = \frac{\sqrt[3]{27}}{\sqrt[3]{-32}} = \frac{3}{-\sqrt[3]{2^5}} = -\frac{3}{\sqrt[3]{2^2} \times \sqrt[3]{2}} = \frac{-3\sqrt[3]{2}}{4}$

حال خواهیم داشت:

$b = \frac{2\sqrt{2}}{1-\sqrt{2}} + \sqrt{2^3} = \frac{2\sqrt{2}}{1-\sqrt{2}} \times \frac{1+\sqrt{2}}{1+\sqrt{2}} + 2\sqrt{2}$
 $= \frac{2\sqrt{2}(1+\sqrt{2})}{1-2} + 2\sqrt{2} = -2\sqrt{2} - 4 + 2\sqrt{2} = -4$

در نتیجه: $ab = \left(-\frac{3\sqrt[3]{2}}{4}\right)(-4) = 3\sqrt[3]{2}$

(توان و ریشه، صفحه‌های ۶۸ تا ۷۷ کتاب درسی)

گزینه ۳۴ «۳»

تک تک کسرها را گویا می‌کنیم:

$A = \frac{1}{\sqrt{2}+1} \times \frac{\sqrt{2}-1}{\sqrt{2}-1} + \frac{1}{\sqrt{2}+\sqrt{3}} \times \frac{\sqrt{2}-\sqrt{3}}{\sqrt{2}-\sqrt{3}} +$

$\frac{1}{\sqrt{3}+2} \times \frac{\sqrt{3}-2}{\sqrt{3}-2} + \dots + \frac{1}{\sqrt{8}+3} \times \frac{\sqrt{8}-3}{\sqrt{8}-3}$

$A = -1 + \sqrt{2} - \sqrt{2} + \sqrt{3} - \sqrt{3} + 2 + \dots - \sqrt{8} + 3$

$A = 2$

(توان و ریشه، صفحه‌های ۷۳ تا ۷۷ کتاب درسی)

گزینه ۳۵ «۴»

$x^2 + 4x + 4 = (x+2)^2 = x^2 + 4x + 4$ مساحت مربع به ضلع $x+2$

$4x =$ محیط مربع به ضلع x

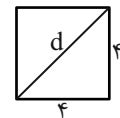
$x+2 =$ محیط مربع به ضلع x مساحت مربع به ضلع $x+2$

$x^2 + 4x + 4 = 4x + 8 \Rightarrow x^2 = 4 \xrightarrow{x>0} x = 2$

$x+2 = 2+2 = 4$ ضلع مربع بزرگتر

قطر $d = \sqrt{4^2 + 4^2} = \sqrt{16 \times 2} = 4\sqrt{2}$

(عبارت‌های جبری، صفحه‌های ۷۹ تا ۸۵ کتاب درسی)



گزینه ۳۶ «۲»

«مسن اسماعیل پور»
 $5x - \frac{3}{2x} = 4 \xrightarrow{\text{طرفین به توان ۲}} 25x^2 + \frac{9}{4x^2} - 2(5x)\left(\frac{3}{2x}\right) = 16$

⇒ $25x^2 + \frac{9}{4x^2} - 15 = 16 \Rightarrow 25x^2 + \frac{9}{4x^2} = 31$

(عبارت‌های جبری، صفحه‌های ۷۹ تا ۸۵ کتاب درسی)

گزینه ۳۷ «۳»

در تساوی $a^2 + b^2 = 9ab$ به طرفین تساوی یکبار $+2ab$ و بار دیگر $-2ab$ را اضافه می‌کنیم.

بطرفین $+2ab$ → (۱) $a^2 + b^2 + 2ab = 9ab$
اضافه می‌کنیم

⇒ $(a+b)^2 = 9ab$

جذر → $|a+b| = 3\sqrt{ab} \Rightarrow a+b = 3\sqrt{ab}$



زیست‌شناسی دهم

گزینه ۴۱

(امیرمهر، مرفسانی علوی)

همه موارد به نادرستی بیان شده‌اند.
بررسی موارد:

الف) در روش‌هایی از انتقال مواد که در آن انرژی زیستی مصرف می‌شود، می‌توان شاهد کاهش تعداد مولکول‌های پارانرژی درون یاخته مانند مولکول‌های ATP بود. دقت داشته باشید در همه این فرایندها مواد الزاماً در خلاف جهت شیب غلظت خود عبور نمی‌کنند. در فرایند برون‌رانی مواد می‌توانند در جهت و یا خلاف جهت شیب غلظت خود از غشا عبور کنند.
ب) در انتشار تسهیل شده و انتقال فعال مواد از پروتئین‌های غشایی عبور می‌کنند. دقت داشته باشید در انتقال فعال، یاخته انرژی زیستی مصرف می‌کند و انرژی جنبشی نمی‌تواند در تأمین انرژی مورد نیاز جهت انتقال یاخته‌ها استفاده شود.

ج) در انتشار ساده و نیز فرایند درون‌بری و برون‌رانی مواد می‌توانند مستقیماً در تماس با فسفولیپیدها (فراوان‌ترین مولکول‌های تشکیل‌دهنده غشا) قرار بگیرند. دقت کنید در درون‌بری و برون‌رانی برخلاف انتشار ساده، مولکول‌های ATP مصرف می‌شوند.

د) در فرایند برون‌رانی مواد ابتدا در ریزکیسه‌هایی قرار گرفته و سپس به خارج یاخته هدایت می‌شوند. دقت کنید در برون‌رانی غشای ریزکیسه با غشای یاخته ادغام شده و در نتیجه بر سطح غشای یاخته افزوده می‌شود.
(دنیای زنده، صفحه‌های ۱۲ تا ۱۵)

گزینه ۴۲

(امیرمهر، مرفسانی علوی)

معدة و روده باریک دارای چین‌خوردگی در سطح درونی ساختار خود هستند. چین‌خوردگی‌های معده با ورود غذا باز می‌شود اما چین‌خوردگی‌های روده باز نمی‌شوند و به عمل جذب غذا کمک می‌کنند. روده باریک ترشحات گوارشی قلیایی کبد و لوزالمعده را دریافت می‌کند.
بررسی سایر گزینه‌ها:

گزینه ۱: دقت کنید، تنها یاخته‌های ترشح‌کننده ماده مخاطی در روده، ماده مخاطی ترشح می‌کنند.

گزینه ۳: معده با ترشح پپسینوژن و فعال شدن آن، می‌تواند پروتئین‌ها را به قطعات پپتیدی کوچک‌تر تبدیل کند، اما نمی‌تواند آن‌ها را به آمینواسیدها تجزیه کند.

گزینه ۴: دقت کنید، یون بی‌کربنات از یاخته‌های پوششی سطحی حفرات معده ترشح می‌شود، نه یاخته‌های غدد معده! یاخته‌های پوششی سطحی در معده، جزء یاخته‌های حفره معده هستند نه غده معده!

(ترکیبی، صفحه‌های ۱۵، ۲۱ تا ۲۳ و ۲۵)

گزینه ۴۳

(پایام، هاشم‌زاده)

در مرحله خاموشی نسبی، عمده فعالیت‌های گوارشی کاهش می‌یابد از جمله انتقال ترشحات صفرا به روده باریک. در نتیجه ذخیره صفرا در کیسه صفرا افزایش می‌یابد و حرکات قطعه‌قطعه‌کننده روده نیز در این مرحله کاهش می‌یابد.

بررسی سایر گزینه‌ها:

گزینه ۱: در مرحله خاموشی نسبی، انقباض بنداره‌های لوله گوارش به دلیل بسته شدن افزایش می‌یابد. شیره لوزالمعده به معده نمی‌ریزد.

گزینه ۲: در مرحله فعالیت شدید لوله گوارش، ترشح هورمون‌های گوارشی مثل گاسترین و سکرترین افزایش می‌یابد.

گزینه ۴: در مرحله فعالیت شدید، میزان ترشح بزاق و میزان جریان خون رگ‌های لوله گوارش افزایش می‌یابد.

(گوارش و هضم مواد، صفحه‌های ۱۹ تا ۲۳، ۲۷ و ۲۸)

گزینه ۴۴

(حسن قائمی)

بخش دارای پرز لوله گوارش همان روده باریک می‌باشد. سه دسته آنزیم تجزیه‌کننده پروتئین در روده باریک یافت می‌شود:

۱- پروتئازهای لوزالمعده، ۲- آنزیم‌های یاخته‌های روده باریک، ۳- پروتئازهای معده که همراه کیموس وارد روده شده‌اند.

هر سه گروه این آنزیم‌ها همگی توسط یاخته‌های پوششی مستقر بر روی غشای پایه ساخته شده‌اند و برای تولید نیازمند انرژی زیستی هستند. یاخته‌های پوششی لایه مخاطی، کارهای متفاوتی مثل جذب و ترشح را انجام می‌دهند.

بررسی سایر گزینه‌ها:

گزینه ۱: برای پروتئاز معده و آنزیم‌های یاخته‌های روده باریک صحیح نیست. گزینه‌های ۲ و ۳: برای پروتئازهای معده صادق نیست.

(ترکیبی، صفحه‌های ۱۵ و ۲۰ تا ۲۵)

گزینه ۴۵

(علی زهانی تالش)

منظور صورت سؤال فسفولیپیدها می‌باشد.

بررسی گزینه‌ها:

گزینه ۱: همه فسفولیپیدهای غشای یاخته به کربوهیدرات‌ها وصل نیستند.

گزینه ۲: همه فسفولیپیدهای غشای یاخته با کلاسترول در تماس نیستند.

گزینه ۳: فسفولیپیدها در تشکیل غشا نقش دارند که نفوذپذیری انتخابی دارد.

گزینه ۴: این گزینه به پروتئین‌هایی که انتقال فعال انجام می‌دهند، اشاره دارد.
(دنیای زنده، صفحه‌های ۱۲ تا ۱۴)

گزینه ۴۶

(علیرضا رهبر)

دستگاه گوارش با گوارش مکانیکی غذا را آسیاب می‌کند و با گوارش شیمیایی مولکول‌های بزرگ را به مولکول‌های کوچک تجزیه می‌کند. در انسان محل آغاز گوارش مکانیکی همه مواد دهان بوده و محل آغاز گوارش شیمیایی کربوهیدرات‌ها در دهان و پروتئین‌ها در معده است. همچنین با توجه به شکل ۱۳ صفحه ۲۵ کتاب درسی، روده باریک در ساختار خود چین‌های حلقوی دارد که از بافت پیوندی سست و بافت پوششی تشکیل شده‌اند. یاخته پوششی سطحی در معده بی‌کربنات ترشح می‌کند و در شیره روده باریک نیز بی‌کربنات وجود دارد.

بررسی سایر گزینه‌ها:

گزینه ۱: ورود مواد به محیط داخلی بدن جذب نام دارد. در معده نیز جذب به میزان اندک دیده می‌شود.

گزینه ۳: در روده باریک یاخته‌هایی وجود دارند که می‌توانند هورمون سکرترین (نوعی هورمون گوارشی) را به خون وارد کنند، اما هیچ‌یک از یاخته‌های موجود در دهان توانایی ترشح این نوع ترکیب ندارند.

گزینه ۴: ماهیچه معده از سه لایه طولی، حلقوی و مورب تشکیل شده است ولی محل آغاز گوارش کربوهیدرات‌ها، دهان است.

(گوارش و هضم مواد، صفحه‌های ۱۸ تا ۲۱، ۲۵، ۲۷ و ۲۸)

گزینه ۴۷

(حسن ممبرنشانی)

هر دو مورد جزو ویژگی سازش با محیط هستند.

(دنیای زنده، صفحه ۷)

گزینه ۴۸

(حسن ممبرنشانی)

بافت ماهیچه‌ای صاف و بافت پیوندی متراکم دارای یاخته‌های دوکی شکل هستند. یاخته‌های جانوری، دارای شبکه آندوپلاسمی زبر هستند که پروتئین می‌سازد.



بررسی سایر گزینه‌ها:

گزینه «۲»: بافت پوششی دارای غشای پایه در بخش زیرین یاخته‌های خود است. اما توجه کنید که یاخته‌های بافت پیوندی (مثل بافت پیوندی سست که بافت پوششی را پشتیبانی می‌کند) می‌توانند در تماس با غشای پایه باشند. همان‌طور که می‌دانید فضای بین یاخته‌ای در بافت پیوندی زیاد است.

گزینه «۳»: بافت پوششی استوانه‌ای و بافت ماهیچه‌ای اسکلتی و قلبی دارای یاخته‌های استوانه‌ای هستند. بافت ماهیچه‌ای به پوشاندن حفرات یا مجاری بدن نمی‌پردازد.

گزینه «۴»: بافت‌هایی مانند ماهیچه اسکلتی و چربی دارای هسته‌های غیرمرکزی هستند. بافت ماهیچه‌ای فاقد ماده زمینه‌ای است.
(دنیای زنده، صفحه‌های ۱۱، ۱۵ و ۱۶)

۴۹- گزینه «۱»

مری بخشی از لوله گوارشی است که بخش اعظم آن در بالای دیافراگم و خارج از حفره شکمی قرار دارد و تنها بخش کوچکی از انتهای آن درون حفره شکمی است که لایه بیرونی همین بخش در تشکیل صفاق دخالت دارد. صفاق پرده‌ای است که اندام‌های درون شکم را به هم وصل می‌کند. در حرکات کرمی شکل لوله گوارش، یک حلقه انقباضی ایجاد می‌شود. یاخته‌های مخاطی مری ماده مخاطی ترشح می‌کنند تا حرکت غذا آسان‌تر شود.

بررسی سایر گزینه‌ها:

گزینه «۲»: بنداره انتهای مری متمایل به سمت چپ بدن قرار دارد. دقت کنید که اگر فرد در اثر کاهش انقباض این بنداره دچار برگشت اسید معده شود، مخاط مری به تدریج (نه بلافاصله) آسیب می‌بیند.

گزینه «۳»: بنداره انتهای مری، نزدیک‌ترین بنداره لوله گوارش به دیافراگم است، این بنداره آب و مواد غذایی را وارد معده (بخش حجیم‌تر از مری) می‌کند.

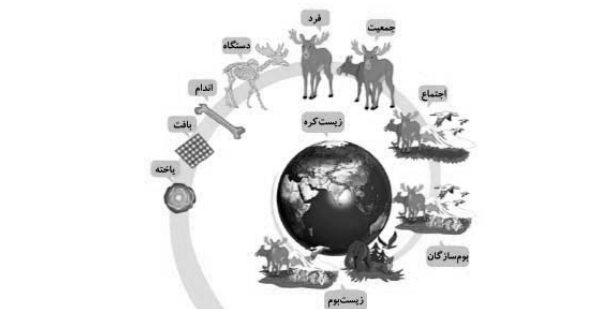
گزینه «۴»: یاخته‌های ماهیچه‌ای ابتدای مری از جنس یاخته‌های اسکلتی و یاخته‌های ماهیچه‌ای انتهایی آن از جنس یاخته‌های ماهیچه‌ای صاف هستند. مری نقشی در جذب مواد غذایی ندارد.
(گوارش و هضم مواد، صفحه‌های ۱۸ تا ۲۲ و ۲۵)

۵۰- گزینه «۲»

دریاچه ارومیه نوعی بوم‌سازگان است. سطحی که بلافاصله بعد از بوم‌سازگان است، «زیست‌بوم» می‌باشد. این سطح برای نخستین بار بین سطوح حیات، دارای چند بوم‌سازگان در کنار یکدیگر می‌باشد.
(دنیای زنده، صفحه‌های ۵ و ۸)

۵۱- گزینه «۱»

مطابق با شکل کتاب درسی زیست ۱، دریاچه ارومیه که یک بوم‌سازگان است در ۳ سطح بالاتر از فرد قرار دارد.



بررسی سایر گزینه‌ها:

گزینه «۲»: مطابق با کتاب درسی زیست، دستگاه گوارش در ۲ سطح بالاتر از بافت قرار دارد.

گزینه «۳»: مطابق با کتاب درسی زیست، اندام استخوان در ۴ سطح پایین‌تر از اجتماع قرار دارد.

گزینه «۴»: مطابق با کتاب درسی زیست، یاخته عصبی در ۵ سطح پایین‌تر از جمعیت قرار دارد.

(دنیای زنده، صفحه ۸)

۵۲- گزینه «۴»

امروزه زیست‌شناسی ویژگی‌هایی دارد که آن را به رشته‌ای مترقی، توانا، پویا و امیدبخش تبدیل کرده است. فناوری‌های نوین زیستی، اخلاق زیستی، نگرش بین رشته‌ای و کل‌نگری از این ویژگی‌ها هستند. ویژگی‌های سامانه را نمی‌توان فقط از طریق مطالعه اجزای سازنده آن توضیح داد و ارتباط بین اجزا نیز مانند خود اجزا در تشکیل جاندار، موثر و کل سامانه، چیزی بیشتر از مجموعه اجزای آن است.

پس برای ارائه توضیحات درباره ویژگی‌های سامانه، مطالعه اجزای سازنده آن، لازم است و می‌توان توضیحاتی را با استفاده از جزءنگری نیز ارائه داد.

بررسی سایر گزینه‌ها:

گزینه «۱»: زیست‌شناسان در مهندسی ژنتیک صفتی را در یک جاندار ایجاد کنند که قبلاً در آن وجود نداشته است.

گزینه «۲»: وضع قوانین جهانی برای جلوگیری از تولید فرآورده‌های دارویی با عواقب زیان‌بار، ضرورت دارد.

گزینه «۳»: می‌توان برای بررسی ژن‌های جانداران، از فنون و مفاهیم رشته‌های دیگر استفاده کرد.

(دنیای زنده، صفحه‌های ۳ و ۴)

۵۳- گزینه «۱»

پروتئین‌های غشای جانوری دو نوع هستند. پروتئین‌های سطحی و پروتئین‌های سراسری.

همه این پروتئین‌ها حداقل با یک لایه از فسفولیپیدهای غشا در تماس می‌باشند.

بررسی سایر گزینه‌ها:

گزینه «۲»: فقط پروتئین‌های سراسری که به انتقال فعال می‌پردازند برای فعالیت خود به انرژی ATP نیاز دارند.

گزینه «۳»: فقط برخی از پروتئین‌های غشا (چه سطحی و چه سراسری) به زنجیره‌های کربوهیدراتی متصل هستند.

گزینه «۴»: همه پروتئین‌های غشایی در این فرایند عمل نمی‌کنند.
(دنیای زنده، صفحه ۱۲)

۵۴- گزینه «۳»

مطابق با کتاب درسی، بافت چربی نیز نوعی بافت پیوندی است که در آن یاخته‌های سرشار از چربی (تری‌گلیسرید) فراوان است. این بافت بزرگ‌ترین ذخیره انرژی در بدن است.

بررسی سایر گزینه‌ها:

گزینه «۱»: یاخته‌های بافت مری (سنگ‌فرشی چند لایه) در لایه‌های زیرین مکعبی و در لایه‌های بالایی سنگ‌فرشی دیده می‌شوند.

گزینه «۲»: برای ماهیچه‌های صاف صحیح نیست.

هر نوع بافت ماهیچه‌ای با ظاهر یاخته‌های مخطط = ماهیچه اسکلتی و ماهیچه قلبی

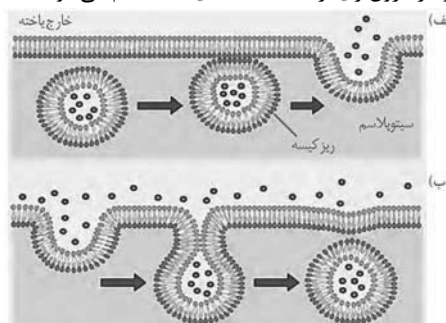
گزینه «۴»: مطابق با کتاب درسی، این بافت (بافت پیوندی سست) معمولاً بافت پوششی را پشتیبانی می‌کند. بافت پیوندی سست نسبت به بافت پیوندی زردپی تعداد یاخته بیشتری دارد.

(دنیای زنده، صفحه‌های ۱۵ و ۱۶)

۵۵- گزینه «۴»

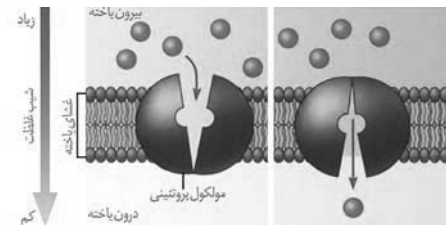
«کتاب اول»

مطابق با شکل کتاب درسی، در برون رانی بر مساحت غشای یاخته افزوده می شود و در درون بری از مساحت غشای یاخته کم می شود.



بررسی سایر گزینه ها:

گزینه «۱»: در فرایند اسمز، انتشار خالص آب از یک غشایی با تراوایی نسبی، از محیطی که فشار اسمزی کمتری دارد (غلظت محلول کم تر و غلظت حلال بیشتر است) به محیطی که دارای فشار اسمزی بیشتر است (غلظت محلول بیشتر تر و غلظت حلال کم تر است) صورت می گیرد. گزینه «۲»: در فرایند انتقال فعال عبور هر نوع مولکول قابل انتقال در خلاف جهت شیب غلظت و با صرف انرژی زیستی، تنها با دخالت مولکول های پروتئینی (در سطح غشا) انجام می شود. دقت کنید درون بری و برون رانی نیز ممکن است در خلاف جهت شیب غلظت انجام شوند ولی در انجام آن ها مولکول های پروتئینی غشا نقش ندارند. گزینه «۳»: مطابق شکل کتاب درسی در انتشار تسهیل شده، ضمن عبور مواد از غشای یاخته، پروتئین سراسری موجود در غشا تغییر شکل می دهد.



(رئای زنده، صفحه های ۱۳ تا ۱۵)

۵۶- گزینه «۴»

«کتاب اول»

گوارش نهایی پروتئین ها و تبدیل آن ها به زیرواحدهای آمینواسیدی در روده باریک انجام می شود.

بررسی سایر گزینه ها:

گزینه «۱»: یاخته های کناری غده معده با ترشح کلریدریک اسید در تبدیل پپسینوژن به پپسین نقش دارند. گزینه «۲»: یاخته های ترشح کننده ماده مخاطی در غده معده، ماده مخاطی ترشح می کنند که دیواره لوله گوارش را از اثر اسید و آنزیم حفظ می کند. گزینه «۳»: یاخته های کناری غده معده با ترشح عامل داخلی معده، به جذب ویتامین B_{۱۲} که برای ساخت گویچه قرمز ضروری است کمک می کنند.

«گوارش و یزب مواد، صفحه ۲۱»

۵۷- گزینه «۳»

«کتاب اول»

حین فرآیند بلع، حنجره به سمت بالا و برچاکنای به سمت پایین حرکت می کند تا راه نای بسته شود.

بررسی سایر گزینه ها:

گزینه «۱»: مرحله اول بلع ارادی و مرحله دوم آن غیر ارادی است. در مرحله ارادی، غذا با فشار زبان به عقب رانده می شود.

گزینه «۲»: حین بلع زبان راه دهان و زبان کوچک راه بینی را می بندد و دو راه از چهار راه حلق بسته می شود.

گزینه «۴»: در مرحله ارادی بلع غذا درون دهان وجود دارد. با ورود غذا به دهان، جویدن غذا و گوارش مکانیکی آن آغاز می شود.

«گوارش و یزب مواد، صفحه ۲۰»

۵۸- گزینه «۱»

«کتاب اول»

صفرها به دوازدهه می ریزد و به گوارش چربی ها کمک می کند. دوازدهه دارای یاخته های ترشح کننده هورمون می باشد. هورمون سکرترین از دوازدهه به خون ترشح می شود. سکرترین ترشح بی کربنات از لوزالمعده را تحریک می کند.

بررسی سایر گزینه ها:

گزینه «۲»: روده بزرگ تنها در جذب آب و یون ها نقش دارد. یاخته های پوششی مخاط روده بزرگ، ماده مخاطی ترشح می کنند.

گزینه «۳»: گوارش پروتئین ها توسط آنزیم پپسین در معده آغاز می شود.

دیواره معده، یک لایه ماهیچه ای اضافه تر دارد که ماهیچه مورب می باشد.

گزینه «۴»: می دانیم که روده بزرگ آنزیم گوارشی ترشح نمی کند.

محتویاتی که از روده باریک به روده بزرگ می رسند، حاوی یاخته های مرده و باقی مانده شیرهای گوارشی می باشند.

«گوارش و یزب مواد، صفحه های ۲۱، ۲۶ و ۲۸»

۵۹- گزینه «۴»

«کتاب اول»

در بیماری سلیاک بر اثر تخریب پرز و ریزپرزه های روده باریک، سطح جذب مواد به شدت کاهش می یابد.

بررسی سایر گزینه ها:

گزینه «۱»: بخشی از یاخته های پوششی مخاط روده همچنان سالم هستند و جذب به طور اندک ادامه می یابد.

گزینه «۲»: تنها یاخته های روده آسیب می بینند.

گزینه «۳»: مطابق متن کتاب درسی منجر به از بین رفتن این ساختارها می شود.

«گوارش و یزب مواد، صفحه ۲۵»

۶۰- گزینه «۳»

«کتاب اول»

تنها اندامی که خون سیاهرگی خود را مستقیماً وارد سیاهرگ فوق کبدی می کند، کبد است.

بررسی سایر گزینه ها:

گزینه «۱»: روده باریک جذب مواد (وارد کردن مواد غذایی به محیط داخلی بدن) را انجام می دهد.

گزینه «۲»: گاسترین هورمونی است که از معده ترشح می شود. این هورمون یاخته های کناری معده را تحریک می کند که HCl را ترشح کنند. ترشح HCl باعث کاهش pH شیره معده می شود.

گزینه «۴»: روده باریک به کمک آنزیم های خود، گوارش کربوهیدرات ها را انجام می دهد.

«گوارش و یزب مواد، صفحه های ۲۲، ۲۳، ۲۵ و ۲۷»



فیزیک دهم

گزینه «۱»

«میثم»

مطابق شکل، در شمارنده (۱)، دقت اندازه‌گیری معادل $\frac{2 \text{ km}}{\text{h}}$ و در شمارنده (۲) دقت اندازه‌گیری معادل 10 mph است. بنابراین برای محاسبه نسبت این دو دقت، باید یکای آنها مشابه هم باشد. در این صورت، یکای دقت اندازه‌گیری شمارنده (۲) را به $\frac{\text{km}}{\text{h}}$ تبدیل می‌کنیم:



$$10 \frac{\text{mile}}{\text{h}} \times \frac{1600 \text{ m}}{1 \text{ mile}} \times \frac{1 \text{ km}}{10^3 \text{ m}} = 16 \frac{\text{km}}{\text{h}}$$

$$\frac{\text{دقت شمارنده (۱)}}{\text{دقت شمارنده (۲)}} = \frac{\frac{2 \text{ km}}{\text{h}}}{16 \frac{\text{km}}{\text{h}}} = \frac{1}{8}$$

بنابراین:

(فیزیک و اندازه‌گیری، صفحه‌های ۱۰ تا ۱۵)

گزینه «۴»

«میثم»

فرض کنید طول ضلع بیرونی دو مکعب را a بنامیم. در این صورت، هم شعاع حفره کروی در مکعب اول و هم طول ضلع حفره مکعبی در مکعب دوم هر دو معادل $\frac{a}{4}$ می‌باشند. بنابراین، ابتدا حجم حاصل از ماده سازنده هر یک از مکعب‌ها را به صورت زیر به دست می‌آوریم:

$$V_{\text{مکعب (۱)}} = V_{\text{مکعب بیرونی}} - V_{\text{حفره کروی}} = a^3 - \frac{4}{3}\pi R^3$$

$$\frac{R=a}{\pi \approx 3} \rightarrow V_{\text{مکعب (۱)}} = a^3 - \left(\frac{4}{3} \times \pi \times \frac{a^3}{8}\right) = \frac{1}{2}a^3$$

$$V_{\text{مکعب (۲)}} = V_{\text{مکعب بیرونی}} - V_{\text{حفره مکعبی}} = a^3 - \left(\frac{a}{4}\right)^3 \Rightarrow$$

$$V_{\text{مکعب (۲)}} = a^3 - \frac{1}{64}a^3 = \frac{63}{64}a^3$$

اکنون طبق رابطه چگالی می‌توان این گونه نوشت:

$$m = \rho \times V \Rightarrow \frac{m_2}{m_1} = \frac{\rho_2}{\rho_1} \times \frac{V_{\text{مکعب (۲)}}}{V_{\text{مکعب (۱)}}} \rightarrow \frac{\rho_1 = \frac{1}{2}\rho_2}{\rho_1} \rightarrow$$

$$\frac{m_2}{m_1} = \frac{\rho_2}{\frac{1}{2}\rho_2} \times \frac{\frac{63}{64}a^3}{\frac{1}{2}a^3} \Rightarrow \frac{m_2}{m_1} = \frac{63}{16}$$

(فیزیک و اندازه‌گیری، صفحه‌های ۱۶ تا ۱۸)

گزینه «۴»

«کنکور سراسری ریاضی و فیزیک خارج از کشور ۱۴۰۱»

$$182 \text{ قیراط} = 200 \text{ mg} \times \frac{10^{-3} \text{ g}}{1 \text{ mg}} \times \frac{1 \text{ kg}}{10^3 \text{ g}}$$

$$= 3 / 64 \times 10^{-2} \text{ kg}$$

(فیزیک و اندازه‌گیری، صفحه‌های ۱۰ تا ۱۳)

گزینه «۱»

«کنکور سراسری ریاضی و فیزیک داخل کشور ۱۴۰۱»

شکل نشان داده شده یک ریزسنج است. دقت ابزارهای اندازه‌گیری دیجیتال برابر با یک واحد از آخرین رقمی است که آن ابزار می‌خواند. بنابراین:

$$\Rightarrow \text{دقت} = 0.001 \text{ mm}$$

(فیزیک و اندازه‌گیری، صفحه‌های ۱۴، ۱۵ و ۲۱)

گزینه «۲»

«کنکور سراسری ریاضی و فیزیک خارج از کشور ۱۳۹۵»

ابتدا جرم آلیاژ (مجموع جرم طلا و نقره) را به دست می‌آوریم:

$$\rho_{\text{آلیاژ}} = \frac{m_{\text{Au}} + m_{\text{Ag}}}{V_{\text{آلیاژ}}} = \frac{\rho_{\text{Au}} V_{\text{Au}} + \rho_{\text{Ag}} V_{\text{Ag}}}{V_{\text{آلیاژ}}}$$

$$13 / 6 = \frac{m_{\text{Au}} + m_{\text{Ag}}}{5} \Rightarrow m_{\text{Au}} + m_{\text{Ag}} = 68 \text{ g}$$

$$\frac{m_{\text{Au}} = \rho_{\text{Au}} \cdot V_{\text{Au}}}{m_{\text{Ag}} = \rho_{\text{Ag}} \cdot V_{\text{Ag}}} \rightarrow \rho_{\text{Au}} \cdot V_{\text{Au}} + \rho_{\text{Ag}} \cdot V_{\text{Ag}} = 68 \text{ g}$$

$$\rho_{\text{Au}} = 19 \frac{\text{g}}{\text{cm}^3} \rightarrow \begin{cases} 19 V_{\text{Au}} + 10 V_{\text{Ag}} = 68 \text{ g} \\ V_{\text{Au}} + V_{\text{Ag}} = 5 \text{ cm}^3 \end{cases}$$

$$\Rightarrow V_{\text{Ag}} = 3 \text{ cm}^3, V_{\text{Au}} = 2 \text{ cm}^3$$

در نهایت جرم نقره را به دست می‌آوریم:

$$m_{\text{Ag}} = V_{\text{Ag}} \cdot \rho_{\text{Ag}} \Rightarrow m_{\text{Ag}} = 3 \times 10 = 30 \text{ g}$$

(فیزیک و اندازه‌گیری، صفحه‌های ۱۶ تا ۱۸)

گزینه «۱»

«کنکور سراسری ریاضی و فیزیک خارج از کشور ۱۳۹۹»

$$\rho = \frac{m}{V}$$

$$\frac{m=11/5 \text{ g}}{V=\Delta V_{\text{مایع}}=23/1-18/5=4/5 \text{ mL}=4/5 \text{ cm}^3} \rightarrow \rho = \frac{11/5}{4/5} = 2.75 \frac{\text{g}}{\text{cm}^3}$$

$$\frac{1 \frac{\text{g}}{\text{cm}^3} = 1000 \frac{\text{kg}}{\text{m}^3}}{\rho = 2.75 \frac{\text{g}}{\text{cm}^3}} \rightarrow \rho = 2750 \frac{\text{kg}}{\text{m}^3}$$

(فیزیک و اندازه‌گیری، صفحه‌های ۱۶ تا ۱۸)



۶۷- گزینه «۳»

«بیتا فور شیر»

یکای کمیت انرژی $\text{kg} \frac{\text{m}^2}{\text{s}^2}$ است و یکای آهنگ مصرف انرژی در

دستگاه SI، $\frac{\text{kg} \frac{\text{m}^2}{\text{s}^2}}{\text{s}}$ یا $\text{kg} \frac{\text{m}^2}{\text{s}^3}$ است. با توجه به سازگاری یکاها در

دو طرف یک رابطه در فیزیک، داریم:

$$A = BC + B^2E$$

$$[A] = [B][C] \xrightarrow{\begin{matrix} [A] = \text{kg} \frac{\text{m}^2}{\text{s}^3} \\ [B] = \frac{\text{m}}{\text{s}} \end{matrix}}$$

$$[C] = \frac{[A]}{[B]} = \frac{\text{kg} \frac{\text{m}^2}{\text{s}^3}}{\frac{\text{m}}{\text{s}}} = \text{kg} \frac{\text{m}}{\text{s}^2} = \text{N}$$

$$[A] = [B^2][E] \Rightarrow [E] = \frac{[A]}{[B]^2} = \frac{\text{kg} \frac{\text{m}^2}{\text{s}^3}}{\frac{\text{m}^2}{\text{s}^2}} = \frac{\text{kg}}{\text{s}}$$

(فیزیک و اندازه‌گیری، صفحه‌های ۷ و ۱۱)

۶۸- گزینه «۲»

«غلامرضا مهبی»

بررسی عبارت‌ها:

(الف) به‌درستی بیان شده است.

(ب) نادرست است. با برداشتن در شیشه‌ی عطر، تمام فضای اتاق خوشبو می‌شود؛ زیرا در اثر برخورد مولکول‌های هوا با مولکول‌های عطر، این مولکول‌ها در تمام فضای اتاق پخش می‌شوند.

(پ) نادرست است. مولکول‌های مایع نظم و تقارن جامدهای بلورین را ندارند و به‌صورت نامنظم و نزدیک به یکدیگر قرار گرفته‌اند.

(ت) به‌درستی بیان شده است.

(ویژگی‌های فیزیکی مواد، صفحه‌های ۲۵ تا ۲۸)

۶۹- گزینه «۴»

«عمیر صارقی مقدم»

با توجه به این که $\mu = 10^{-6}$ و $T = 10^{12}$ است، با استفاده از تبدیل زنجیره‌ای می‌توان نوشت:

$$\begin{aligned} 0.00024 \mu\text{N} \cdot \text{Tm} &= 2/4 \times 10^{-4} \mu\text{N} \cdot \text{Tm} \times \frac{10^{-6} \text{N}}{1 \mu\text{N}} \times \frac{10^{12} \text{m}}{1 \text{Tm}} \\ &= 2/4 \times 10^2 \text{N} \cdot \text{m} \end{aligned}$$

از طرف دیگر، با توجه به این که $1 \text{N} = 1 \text{kg} \cdot \frac{\text{m}}{\text{s}^2}$ است، داریم:

$$2/4 \times 10^2 \text{N} \cdot \text{m} = 2/4 \times 10^2 \frac{\text{kg} \cdot \text{m}^2}{\text{s}^2}$$

$$\frac{M=10^6}{m=10^{-3} n=10^{-9}} \rightarrow 2/4 \times 10^2 \frac{\text{kg} \cdot \text{m}^2}{\text{s}^2} \times \frac{10^3 \text{g}}{1 \text{kg}} \times \frac{1 \text{Mg}}{10^6 \text{g}} \times \frac{1 \text{s}^2}{10^{18} \text{ns}^2}$$

$$\times \frac{(10^{-3})^2 \text{mm}^2}{1 \text{m}^2} = 2/4 \times 10^2 \times 10^{-3} \times 10^{-18} \times 10^6 \frac{\text{Mg} \cdot \text{mm}^2}{\text{ns}^2}$$

$$= 2/4 \times 10^{-13} \frac{\text{Mg} \cdot \text{mm}^2}{\text{ns}^2}$$

(فیزیک و اندازه‌گیری، صفحه‌های ۱۰ تا ۱۳)

۷۰- گزینه «۱»

«مهمر صارق ماسیره»

با توجه به این که جلیک در روز اول 2cm رشد می‌کند و آهنگ رشدش بعد از هر روز، ۲ برابر می‌شود، در روز n ام به اندازه 2^ncm رشد خواهد کرد. زیرا:

$$\text{روز اول} \rightarrow 2 \text{cm} \quad \text{روز دوم} \rightarrow 2 \times 2 \text{cm} = 2^2 \text{cm}$$

$$\text{روز سوم} \rightarrow 2 \times 2^2 \text{cm} = 2^3 \text{cm} \text{ و } \dots \rightarrow \text{روز } n \text{ام} \rightarrow 2^n \text{cm}$$

بنابراین در روز هفتم، آهنگ رشد جلیک برابر $2^7 \frac{\text{cm}}{\text{day}}$ است که باید آن

را به $\frac{\text{mm}}{\mu\text{h}}$ تبدیل کنیم. به همین منظور با استفاده از تبدیل زنجیره‌ای

داریم:

$$2^7 \frac{\text{cm}}{\text{day}} = 2^7 \frac{\text{cm}}{\text{day}} \times \frac{10 \text{mm}}{1 \text{cm}} \times \frac{1 \text{day}}{24 \text{h}} \times \frac{10^{-6} \text{h}}{1 \mu\text{h}}$$

$$\Rightarrow 2^7 \frac{\text{cm}}{\text{day}} = \frac{16}{3} \times 10^{-5} \frac{\text{mm}}{\mu\text{h}}$$

(فیزیک و اندازه‌گیری، صفحه‌های ۱۰ تا ۱۳)

۷۱- گزینه «۲»

«کتاب اول»

مطابق متن کتاب تنها گزاره‌های «الف» و «ب» صحیح هستند.

بررسی سایر گزاره‌ها:

گزاره «پ»: از آن جا که فیزیک علمی تجربی است، لازم است قوانین، مدل‌ها و نظریه‌های فیزیکی مورد آزمایش قرار گیرند.

گزاره «ت»: مدل‌ها و نظریه‌های فیزیکی در طول زمان معتبر نیستند و ممکن است دستخوش تغییر شوند.

(فیزیک و اندازه‌گیری، صفحه ۲)



۷۲- گزینه «۲»

«کتاب اول»

ابتدا با استفاده از روش تبدیل زنجیره‌ای، اندازه طول مدنظر را به نانومتر محاسبه می‌کنیم، داریم:

$$100 \mu\text{m} = (100 \mu\text{m}) \left(\frac{10^{-6} \text{ m}}{1 \mu\text{m}} \right) \left(\frac{1 \text{ nm}}{10^{-9} \text{ m}} \right) = 100 \times 10^3 \text{ nm}$$

اکنون با داشتن هر دو اندازه قطر اتم هیدروژن و طول مدنظر در یکای یکسان، تعداد اتم‌های هیدروژن (n) را محاسبه می‌کنیم:

$$n = \frac{100 \times 10^3 \text{ nm}}{0.1 \text{ nm}} \rightarrow n = \frac{10^2 \times 10^3}{10^{-1}} = 10^6$$

(فیزیک و اندازه‌گیری، صفحه‌های ۱۰ تا ۱۲)

۷۳- گزینه «۱»

«کتاب اول»

دقت اندازه‌گیری در ابزارهای رقمی (دیجیتال)، برابر یک واحد از آخرین رقمی است که آن ابزار می‌خواند، بنابراین داریم:

$$0.1 \text{ g} = \text{دقت اندازه‌گیری} \Rightarrow 25/0 \text{ g} = \text{رقم نشان داده شده}$$

از طرفی برای کاهش خطا در اندازه‌گیری هر کمیت، معمولاً اندازه‌گیری آن را چند بار تکرار می‌کنند. میانگین عددهای حاصل از اندازه‌گیری، به عنوان نتیجه اندازه‌گیری گزارش می‌شود. البته در میان عددهای متفاوت، اگر یک یا دو عدد اختلاف زیادی با بقیه داشته باشند در میانگین‌گیری به حساب نمی‌آیند. در این مسئله اعداد $19/8 \text{ g}$ و $32/8 \text{ g}$ تفاوت زیادی با اعداد دیگر دارند، بنابراین این دو عدد را کنار می‌گذاریم و میانگین جرم جسم را برای گزارش به دست می‌آوریم:

$$\text{جرم جسم} = \frac{25/0 + 25/1 + 25/1 + 25/2 + 25/0 + 25/2}{6} = 25/1 \text{ g}$$

بررسی سایر گزینه‌ها:

اگر اعداد $19/8 \text{ g}$ و $32/8 \text{ g}$ را در میانگین‌گیری به حساب آورید، به گزینه اشتباه «۴» خواهید رسید.

(فیزیک و اندازه‌گیری، صفحه‌های ۱۴ و ۱۵)

۷۴- گزینه «۳»

«کتاب اول»

اگر چند مایع مخلوط نشدنی را در یک ظرف بریزیم، مایعی که چگالی بیشتری داشته باشد، در کف ظرف قرار می‌گیرد و به همین ترتیب مایعی که چگالی کمتری داشته باشد، در بالای مایع‌های دیگر قرار می‌گیرد، بنابراین با توجه به شکل سوال می‌توان گفت:

$$\rho_A < \rho_B < \rho_C < \rho_D < \rho_E < \rho_F$$

جرم مایع‌ها در ظرف یکسان است، لذا طبق رابطه چگالی $\rho = \frac{m}{V}$ داریم:

$$\rho = \frac{m}{V} \Rightarrow \frac{m}{V_A} < \frac{m}{V_B} < \frac{m}{V_C} < \frac{m}{V_D} < \frac{m}{V_E} < \frac{m}{V_F} \\ \Rightarrow V_A > V_B > V_C > V_D > V_E > V_F$$

بنابراین تنها گزینه «۳» درست می‌باشد.

(فیزیک و اندازه‌گیری، صفحه‌های ۱۶ تا ۱۸)

۷۵- گزینه «۱»

«کتاب اول»

دو مایع حجم ظرف را پر می‌کنند، پس حجم یکسانی دارند. همچنین با توجه به این که جرمی که ترازو نشان می‌دهد، مجموع جرم ظرف و جرم مایع است، با کم کردن جرم ظرف ($150 \text{ g} = 0.15 \text{ kg}$) از عدد ترازو، جرم مایع به دست می‌آید، بنابراین داریم:

$$\rho = \frac{m}{V} \rightarrow \rho_1 = \frac{m_1}{V_1} = \frac{m_2}{V_2} = \rho_2$$

$$\frac{m_1 = 0.65 - 0.15 = 0.5 \text{ kg}}{m_2 = 0.9 - 0.15 = 0.75 \text{ kg}} \rightarrow \frac{\rho_1}{\rho_2} = \frac{0.5}{0.75} = \frac{2}{3}$$

(فیزیک و اندازه‌گیری، صفحه‌های ۱۶ تا ۱۸)

۷۶- گزینه «۴»

«کتاب اول»

حجم آبی که از ظرف بیرون می‌ریزد، برابر حجم ظاهری مکعب فلزی (200 cm^3) می‌باشد. با استفاده از رابطه چگالی حجم واقعی فلز به کار رفته در مکعب را به دست می‌آوریم:

$$\rho = \frac{m}{V} \rightarrow \frac{\rho = 9 \text{ g/cm}^3}{m = 900 \text{ g}} \rightarrow V = 100 \text{ cm}^3$$

بنابراین حجم حفره برابر است با:

$$V_{\text{حفره}} = \text{حجم واقعی} - \text{حجم ظاهری} = 200 - 100 = 100 \text{ cm}^3$$

(فیزیک و اندازه‌گیری، صفحه‌های ۱۶ تا ۱۸)

۷۷- گزینه «۴»

«کتاب اول»

ابتدا به کمک رابطه چگالی، جرم هر کدام از مایع‌ها را به دست می‌آوریم:

$$\rho = \frac{m}{V} \rightarrow \frac{V_A = 50 \text{ cm}^3}{\rho_A = 1200 \text{ kg/m}^3 = 1.2 \text{ g/cm}^3} \rightarrow m_A = 60 \text{ g}$$

$$\frac{V_B = 100 \text{ cm}^3}{\rho_B = 1800 \text{ kg/m}^3 = 1.8 \text{ g/cm}^3} \rightarrow m_B = 180 \text{ g}$$

اکنون با توجه به اینکه تغییر حجمی رخ نداده است، چگالی مخلوط را می‌یابیم:

$$\rho_{\text{مخلوط}} = \frac{V_{\text{مخلوط}} = V_A + V_B = 50 + 100 = 150 \text{ cm}^3}{m_{\text{مخلوط}} = m_A + m_B = 60 + 180 = 240 \text{ g}} = \frac{240}{150} = 1.6 \text{ g/cm}^3$$

(فیزیک و اندازه‌گیری، صفحه‌های ۱۶ تا ۱۸)

۷۸- گزینه «۴»

«کتاب اول»

اگر فرایند سردسازی مایع سریع باشد، اغلب ذرات سازنده آن در طرح‌های نامنظم کنار هم قرار می‌گیرند و جامدهای آمورف را تشکیل می‌دهند.

(ویژگی‌های فیزیکی مواد، صفحه ۲۴)

۷۹- گزینه «۳»

«کتاب اول»

با توجه به متن کتاب درسی تنها موردهای (ب) و (ج) نادرست‌اند. ب: ذرات جسم جامد به سبب نیروهای الکتریکی‌ای که به یکدیگر وارد می‌کنند، در کنار یکدیگر می‌مانند. ج: شیشه جامد بی‌شکل است.

(ویژگی‌های فیزیکی مواد، صفحه‌های ۲۴ و ۲۵)

۸۰- گزینه «۴»

«کتاب اول»

سرعت پخش در گازها بیشتر از مایعات است.

(ویژگی‌های فیزیکی مواد، صفحه ۲۶)



شیمی دهم

۸۱- گزینه «۲»

«سیرریم هاشمی دگرری»

مورد اول و دوم نادرست:

مورد اول) در یک نمونه طبیعی هیدروژن، سه نوع ایزوتوپ وجود دارد

که تنها ${}^1_1\text{H}$ پرتوزا است.

مورد دوم) ایزوتوپ ${}^3_1\text{H}$ نوترون ندارد و بیشترین تعداد نوترون در

${}^1_1\text{H}$ برابر ۶ است.

(کیهان زارگه الفبای هستی، صفحه‌های ۵ و ۶ کتاب درسی)

۸۲- گزینه «۲»

«میلاد عزیز»

فراوانی سبک‌ترین ایزوتوپ را x ، فراوانی سنگین‌ترین ایزوتوپ را $2x$

و فراوانی ایزوتوپ دیگر را $100 - 3x$ فرض می‌گیریم:

$$50/2 = \frac{48 \times x + 50 \times (100 - 3x) + 52 \times (2x)}{100}$$

$$\Rightarrow x = 10 \Rightarrow F_1 = 10\%, F_2 = 70\%, F_3 = 20\%$$

هرچه فراوانی ایزوتوبی بیشتر باشد آن ایزوتوپ پایدارتر است.

در این نمونه ایزوتوپ‌های ${}^{50}\text{A}$ و ${}^{52}\text{A}$ پایداری بیشتری دارند.

$$F_2 - F_3 = 70 - 20 = 50\%$$

(کیهان زارگه الفبای هستی، صفحه ۱۵ کتاب درسی)

۸۳- گزینه «۳»

«مهری رحیمی»

موارد دوم و سوم درست‌اند.

مورد اول) یون یدید با یونی که حاوی تکنسیم است هم‌اندازه بوده و

غده تیروئید به هنگام جذب یون یدید، این یون را نیز جذب می‌کند.

مورد دوم) هیدروژن با جرم اتمی متوسط $1/008\text{amu}$ فراوان‌ترین

عنصر سیاره مشتری است.

مورد سوم) اغلب هسته‌هایی که نسبت تعداد نوترون به پروتون بزرگ‌تر

یا مساوی $1/5$ باشد ناپایدارند.

$$\frac{N}{Z} \geq 1/5 \Rightarrow \frac{N+Z}{Z} \geq 2/5 \Rightarrow \frac{A}{Z} \geq 2/5 \Rightarrow \frac{Z}{A} \leq 5/4$$

مورد چهارم نیز به این علت اشتباه است که مهبانگ باعث به وجود

آمدن کیهان شده و نه ذرات زیراتمی.

(کیهان زارگه الفبای هستی، صفحه‌های ۳، ۶، ۷ و ۱۳ کتاب درسی)

۸۴- گزینه «۳»

«میرحسن حسینی»

گزینه «۱»: درست $\text{O}_3 = 3 \times 16 = 48 \text{g.mol}^{-1}$ جرم مولکولی

$$\frac{100}{48} > 2 \text{mol O}_3 \Rightarrow \frac{100}{48} > 6 \text{mol O} \approx 6 N_A \text{O}$$

$$N_A = 6 / 0.22 \times 10^{23}$$

گزینه «۲»: درست $\text{NH}_3 = 14 + (3 \times 1) = 17 \text{g.mol}^{-1}$ جرم مولکولی

$$\frac{170}{17} = 10 \text{mol NH}_3 \Rightarrow \begin{cases} 10 \text{mol N} \\ 10 \times 3 = 30 \text{mol H} \end{cases}$$

$\Rightarrow 10 + 30 = 40$ مول از اتم‌های سازنده

گزینه «۳»: نادرست $\text{NO}_2 = 14 + (2 \times 16) = 46 \text{g.mol}^{-1}$ جرم مولکولی

$$\Rightarrow \frac{23}{46} = 0.5 \text{mol NO}_2 \Rightarrow 1 \text{mol O} \approx 1 N_A \text{O}$$

$$\text{NO} = 14 + 16 = 30 \text{g.mol}^{-1} \Rightarrow \frac{30}{30} = 1 \text{mol NO}$$

$$\Rightarrow 1 \text{mol O} \approx 1 N_A \text{O}$$

$$\frac{10 \text{g}}{5 / 55 \text{mol}} \sim 18 \text{g.mol}^{-1} \quad \text{گزینه «۴»: درست}$$

$\Rightarrow \text{H}_2\text{O}$ یک ترکیب اکسیژن‌دار

(کیهان زارگه الفبای هستی، صفحه‌های ۱۶ تا ۱۸ کتاب درسی)

۸۵- گزینه «۴»

«علی اصفهانی»

تنها مورد (ت) درست است.

مقایسه انرژی و میزان انحراف امواج الکترومغناطیسی:

گاما < ایکس < فرابنفش < نور مرئی < فروسرخ < ریزموجها < امواج رادیویی

مقایسه انرژی بین نور مرئی:

بنفش < نیلی < آبی < سبز < زرد < نارنجی < قرمز

مقایسه طول موج (فاصله میان دو قله متوالی):

امواج رادیویی < ریزموجها < فروسرخ < نور مرئی < فرابنفش < ایکس < گاما

(کیهان زارگه الفبای هستی، صفحه ۲۰ کتاب درسی)



۸۶- گزینه ۲»

«سیررشا رفنوی»

ابتدا تعداد مول اتم‌ها در ۵ گرم CaCO_3 را محاسبه می‌کنیم سپس از تعداد اتم‌های اکسیژن در H_3PO_4 به جرم H_3PO_4 می‌رسیم:

$$\text{اتم mol} = 5\text{gCaCO}_3 \times \frac{1\text{molCaCO}_3}{100\text{gCaCO}_3} \times \frac{4\text{اتم mol}}{1\text{molCaCO}_3}$$

$$= 0.2\text{اتم mol}$$

$$\text{اتم mol O} = \frac{0.2}{2} = 0.1\text{mol O}$$

$$\text{gH}_3\text{PO}_4 = 0.1\text{mol O} \times \frac{1\text{molH}_3\text{PO}_4}{4\text{mol O}} \times \frac{98\text{gH}_3\text{PO}_4}{1\text{molH}_3\text{PO}_4}$$

$$= 2.45\text{gH}_3\text{PO}_4$$

(کیهان زارگه الفبای هستی، صفحه‌های ۱۶ تا ۱۸ کتاب درسی)

۸۷- گزینه ۱»

«یاسر علیشانی»

همه عبارت‌ها نادرست‌اند.

بررسی عبارت‌ها:

(آ) از لامپ نئون در ساخت تابلوهای تبلیغاتی برای ایجاد نوشته‌های سرخ‌فام استفاده می‌شود.

(ب) موقعیت گروه اول و دوره سوم مربوط به عنصر سدیم است که رنگ شعله آن زرد است.

(پ) رنگ شعله سبز در مس (II) سولفات نسبت به فلز لیتیم با رنگ شعله سرخ طول موج کمتری دارد.

(ت) لزوماً همه خطوط طیف نشری خطی در یک عنصر در گستره مرئی قرار ندارد.

(کیهان زارگه الفبای هستی، صفحه‌های ۲۲ و ۲۳ کتاب درسی)

۸۸- گزینه ۲»

«مهرجوهر سوری‌کی»

فقط مورد دوم درست است.

مورد اول) مدل کوانتومی مربوط به بور نیست.

مورد دوم) دانشمندان برای بررسی طیف نشری خطی بقیه اتم‌ها (به جز هیدروژن) مدل کوانتومی را پیشنهاد دادند.

مورد سوم) در مدل کوانتومی محدودیتی شبیه بالا رفتن از پله‌ها وجود دارد.

مورد چهارم) هر نوار رنگی در طیف نشری خطی هر عنصر پرتوهای نشر شده هنگام بازگشت الکترون‌ها از لایه‌های بالاتر به لایه‌های پایین‌تر را نشان می‌دهد.

(کیهان زارگه الفبای هستی، صفحه‌های ۲۴، ۲۵ و ۲۷ کتاب درسی)

۸۹- گزینه ۲»

«حسن رفعتی کوکنره»

مدل اتمی بور، طیف نشری هیدروژن را به خوبی توضیح داد اما توانایی توجیه طیف نشری خطی دیگر عنصرها را نداشت. دانشمندان به دنبال توجیه و علت طیف نشری خطی دیگر عنصرها و نیز چگونگی نشر نور از اتم‌ها، ساختار لایه‌ای را برای اتم ارائه کردند.

نکته: در جابه‌جایی الکترون از $n=4$ به $n=2$ نسبت به جابه‌جایی از $n=3$ به $n=2$ انرژی بیشتری از دست داده بنابراین طول موج نور نشر شده در b کمتر از a است.

(کیهان زارگه الفبای هستی، صفحه‌های ۲۴ تا ۲۶ کتاب درسی)

۹۰- گزینه ۴»

«یاسر علیشانی»

هرچه اختلاف انرژی لایه‌های متوالی کاهش یابد یعنی از هسته فاصله بیشتری دارد بنابراین می‌توان گفت با افزایش فاصله از هسته انرژی لایه و الکترون زیاد ولی اختلاف انرژی دو لایه متوالی کم می‌شود.

(کیهان زارگه الفبای هستی، صفحه‌های ۲۴ تا ۲۷ کتاب درسی)



ریاضی دهم

۹۱- گزینه «۲»

«نریمان فتح‌اللهی»

$$A' - B' = A' \cap B = B \cap A' = B - A$$

$$(A' \cup B')' = A \cap B$$

$$B' - A' = B' \cap A = A \cap B' = A - B$$

$$n(B' - A') = n(A - B) = 12 \Rightarrow n(A) - n(A \cap B) = 12 \quad (1)$$

$$n(A) + n(B) = 26 \quad (2)$$

از روابط (۱) و (۲)، داریم:

$$(2) - (1) : n(B) + n(A \cap B) = 14$$

آنگاه داریم:

$$n(A' - B') + 2n(A' \cup B')' = n(B - A) + 2n(A \cap B)$$

$$= n(B) - n(A \cap B) + 2n(A \cap B) = n(B) + n(A \cap B) = 14$$

(مجموعه، الگو و دنباله، صفحه‌های ۸ تا ۱۳ کتاب درسی)

۹۲- گزینه «۳»

«علی سرآبادانی»

تعداد کل دایره‌ها	تعداد رنگی‌ها
$(1 \times 1) + 4$	شکل اول
$(2 \times 2) + 4$	شکل دوم
$(3 \times 3) + 4$	شکل سوم
$(20 \times 20) + 4 = 404$	شکل بیستم

$$404 - 20 = 384$$

تعداد دایره‌های غیر رنگی در شکل بیستم

(مجموعه، الگو و دنباله، صفحه‌های ۱۴ تا ۲۰ کتاب درسی)

۹۳- گزینه «۱»

«بهرام علاج»

دنباله حسابی با قدرنسبت ۳ را می‌توان به صورت $a_n = 3n + b$ در

نظر گرفت. با توجه به اینکه جمله دوم دنباله داده شده برابر ۸ و جمله

دوم الگوی خطی برابر ۱ است، پس جمله دوم الگوی حسابی برابر ۸

می‌باشد، در نتیجه با قرار دادن $n = 2$ در دنباله حسابی داریم:

$$a_2 = 6 + b = 8 \Rightarrow b = 2 \Rightarrow a_n = 3n + 2$$

جمله اول دنباله داده شده برابر ۵- و جمله اول دنباله حسابی فوق برابر

۵ است. پس جمله اول الگوی خطی برابر ۱- است. حال جمله عمومی

الگوی خطی با جمله اول ۱- و جمله دوم ۱ به صورت $t_n = 2n - 3$

به دست می‌آید، در نتیجه:

$$t_{10} + a_2 = 17 + 62 = 79$$

(مجموعه، الگو و دنباله، صفحه‌های ۱۴ تا ۲۴ کتاب درسی)

۹۴- گزینه «۳»

«علی آزار»

دنباله مربوط به شکل، دنباله مثلثی است که جمله عمومی آن

$$a_n = \frac{n(n+1)}{2}$$

می‌باشد و تعداد دایره‌های شکل یازدهم آن به صورت زیر به دست می‌آید:

$$a_{11} = \frac{11 \times 12}{2} = 66$$

حال در دنباله حسابی داریم:

$$a_n = a_1 + (n-1)d \Rightarrow a_n = -3 + 3(n-1) \Rightarrow a_n = 3n - 6$$

پس داریم:

$$3n - 6 = 66 \Rightarrow 3n = 72 \Rightarrow n = 24$$

(مجموعه، الگو و دنباله، صفحه‌های ۱۴ تا ۲۴ کتاب درسی)

۹۵- گزینه «۲»

«مفسر اسماعیل پور»

$$a_1 + a_2 = \frac{2}{3}(a_3 + a_4)$$

$$\Rightarrow a_1 + a_1 r = \frac{2}{3}(a_1 r^2 + a_1 r^3)$$

$$\Rightarrow a_1(1+r) = \frac{2}{3}a_1 r^2(1+r) \xrightarrow{r \neq -1} r^2 = \frac{3}{2}$$

$$\Rightarrow \begin{cases} r = \sqrt{\frac{3}{2}} \Rightarrow \text{ق ق} \Rightarrow r = \frac{\sqrt{3}}{\sqrt{2}} \times \frac{\sqrt{2}}{\sqrt{2}} = \frac{\sqrt{6}}{2} \\ r = -\sqrt{\frac{3}{2}} \Rightarrow \text{غ ق ق} \Rightarrow \text{(جملات مثبت هستند)} \end{cases}$$

(مجموعه، الگو و دنباله، صفحه‌های ۲۵ تا ۲۷ کتاب درسی)

۹۶- گزینه «۳»

«کتک‌ور تهرانی ۸۸»

اگر a ، b و c سه جمله متوالی یک دنباله هندسی باشند، آنگاه

$$b^2 = ac \text{ است.}$$

$$a_3 \times a_9 = (a_7)^2$$

$$(a_1 + 2d)(a_1 + 8d) = (a_1 + 6d)^2$$

$$a_1^2 + 8a_1d + 16d^2 + 2a_1d = a_1^2 + 12a_1d + 36d^2$$

$$20d^2 = -2a_1d \xrightarrow{d \neq 0} a_1 = -10d$$

$$\text{جمله عمومی دنباله حسابی: } a_n = a_1 + (n-1)d$$

$$a_n = 0 \xrightarrow{a_1 = -10d} -10d + (n-1)d = 0$$

$$\Rightarrow 10d = (n-1)d \Rightarrow n = 11$$

جمله یازدهم دنباله حسابی برابر صفر می‌باشد.

(مجموعه، الگو و دنباله، صفحه‌های ۲۱ تا ۲۷ کتاب درسی)



۹۷- گزینه «۴»

«بهرام علاج»

با یافتن مساحت مثلث به دو طریق داریم:

$$S = \frac{ab}{2} \sin 30^\circ = \frac{ac}{2} \sin 45^\circ \Rightarrow b \sin 30^\circ = c \sin 45^\circ$$

$$\Rightarrow \frac{c}{b} = \frac{\sin 30^\circ}{\sin 45^\circ} = \frac{\frac{1}{2}}{\frac{\sqrt{2}}{2}} = \frac{1}{\sqrt{2}} = \frac{\sqrt{2}}{2}$$

حال همان مساحت را به دو طریق دیگر محاسبه می‌کنیم:

$$S = \frac{1}{2} \times b \times BH = \frac{1}{2} \times c \times CH' \Rightarrow \frac{BH}{CH'} = \frac{c}{b} = \frac{\sqrt{2}}{2}$$

(مثلثات، صفحه‌های ۲۹ تا ۳۵ کتاب درسی)

۹۸- گزینه «۳»

«مهمر قرقچیان»

می‌دانیم که $1 + \tan^2 \alpha$ و $1 + \cot^2 \alpha$ عبارتهای همواره مثبت

هستند، پس $\sin \alpha \cos \alpha < 0$.

دو حالت وجود دارد:

$$\text{حالت اول} \begin{cases} \sin \alpha > 0 \\ \cos \alpha < 0 \end{cases} \Rightarrow \alpha \text{ در ربع دوم}$$

$$\text{حالت دوم} \begin{cases} \sin \alpha < 0 \\ \cos \alpha > 0 \end{cases} \Rightarrow \alpha \text{ در ربع چهارم}$$

پس کمان α در یکی از ربع‌های دوم یا چهارم می‌تواند قرار گیرد.

(مثلثات، صفحه‌های ۳۶ تا ۴۱ کتاب درسی)

۹۹- گزینه «۱»

«رضا سیرنقی»

با تقسیم همه جملات موجود در صورت و مخرج کسر بر $\cos x$ (به

شرط $\cos x \neq 0$)، داریم:

$$\frac{2 \sin x - 5 \cos x}{2 \cos x + \sin x} + \frac{\cos x}{\cos x} = \frac{2 \frac{\sin x}{\cos x} - 5}{4 \frac{\cos x}{\cos x} + \frac{\sin x}{\cos x}}$$

$$= \frac{2 \tan x - 5}{4 + \tan x} \xrightarrow{\tan x = 4} \frac{2(4) - 5}{4 + 4} = \frac{3}{8}$$

(مثلثات، صفحه‌های ۳۶ تا ۳۹ کتاب درسی)

۱۰۰- گزینه «۴»

«بهرام علاج»

معادله خط L با شیب m که از نقطه $A \begin{pmatrix} 0 \\ \sqrt{3} \end{pmatrix}$ می‌گذرد به صورت

زیر است:

$$y = m(x - \sqrt{3})$$

که برای عرض از مبدأ آن داریم:

$$x = 0 \Rightarrow y = -\sqrt{3}m$$

با توجه به اینکه زاویه خط L با جهت مثبت محور x ها بین 30° و

60° می‌باشد، داریم:

$$\tan 30^\circ < m < \tan 60^\circ \Rightarrow \frac{\sqrt{3}}{3} < m < \sqrt{3}$$

$$\frac{x(-\sqrt{3})}{-3} \rightarrow -3 < -\sqrt{3}m < -1$$

که عدد $-\frac{7}{2}$ در این بازه قرار ندارد.

(مثلثات، صفحه‌های ۳۰ و ۳۱ کتاب درسی)