



دفترچه سؤال

سوم دبستان

۲۱ مهر ۱۴۰۲

تعداد کل سؤالات عادی: ۵۰ سؤال + ۵ سؤال نظرسنجی

مدت پاسخ‌گویی به آزمون: ۶۰ دقیقه

نام درس	تعداد سؤال	شماره سؤال	وقت پیشنهادی	برنامه آزمون
ریاضی	۱۰	۱-۱۰	۱۵ دقیقه	الگوها (الگویابی، شمارش چندتاچندتا، ماشین‌های ورودی-خروجی) صفحه ۱۵۴۷
ریاضی (آشنا)	۱۰	۱۱-۲۰	۱۵ دقیقه	الگوها (الگویابی، شمارش چندتاچندتا، ماشین‌های ورودی-خروجی) صفحه ۱۵۴۷
علوم	۱۰	۲۱-۳۰	۱۰ دقیقه	زنگ علوم، خوراکی‌ها صفحه ۲۲۴۷
فارسی	۱۰	۳۱-۴۰	۱۰ دقیقه	ستایش و محله‌ی ما فارسی: صفحه ۱۹۴۱۰ نگارش فارسی: صفحه ۱۲ تا ۸
مطالعات اجتماعی	۵	۴۱-۴۵	۵ دقیقه	من به دنیا آمدم، من بزرگ‌تر شدم صفحه ۶ تا ۲
هدیه‌های آسمان	۵	۴۶-۵۰	۵ دقیقه	آستین‌های خالی، غروب یک روز بهاری صفحه ۱۹ تا ۸
نظرسنجی	۵	۲۹۴-۲۹۸	-	-

تعداد کل سؤالات پیشرفته: ۲۰ سؤال

مدت پاسخ‌گویی به آزمون: ۳۰ دقیقه

نام درس	تعداد سؤال	شماره سؤال	وقت پیشنهادی	برنامه‌ی آزمون
ریاضی پیشرفته	۱۰	۵۱-۶۰	۱۵ دقیقه	الگوها (الگویابی، شمارش چندتاچندتا، ماشین‌های ورودی-خروجی) صفحه ۱۵۴۷
علوم پیشرفته	۱۰	۶۱-۷۰	۱۵ دقیقه	زنگ علوم، خوراکی‌ها صفحه ۲۲۴۷

بنیاد علمی آموزشی قلمچی (وقف عام)

دفتر مرکزی: خیابان انقلاب - بین صبا و فلسطین - پلاک ۹۲۳ - تلفن: ۶۴۶۳-۰۲۱

سؤال‌های عادی

دوست فوبم:

در درس های ریاضی، علوم و فارسی ۱۰ سوال ابتدای دفترچه طرح نو(طراحی شده) هستند و با توجه به برنامه‌ی راهبردی خود هر آزمون در یک درس، سوال منتخب از کتاب‌های سه‌سطمی (سوال‌های آشنا) داریم. با پاسخ گویی به این دو نوع سوال‌ها، می‌توانید ارزیابی بهتری از یادگیری خودتان داشته باشید.

از هر یک از درس های مطالعات اجتماعی و هدیه‌های آسمان هم ۵ سوال در این دفترچه قرار داده شده است.

مجموعاً در این دفترچه ۵۰ سوال قرار دارد که پاسخ‌گویی به این سوالات اجباری است.

گروه آزمون

بنیاد علمی آموزشی قلم‌چی (وقف عام)

«آزمون ۲۱ مهر» - سوم دبستان



دانش آموز عزیز:

در آزمون قبل به چند سؤال از ۱۰ سؤال پاسخ درست دادی؟
فکر می‌کنی برای این آزمون به چند سؤال از ۱۰ سؤال پاسخ خواهی داد؟ در جدول زیر بنویس.

چند از ۱۰ آزمون قبل	هدف‌گذاری چند از ۱۰ برای آزمون امروز

زمان پاسخ‌گویی: ۱۵ دقیقه

ریاضی - صفحه‌های ۷ تا ۱۵ کتاب درسی

۱- یک برج ۲۰ طبقه دارد. در هر طبقه ۵ واحد آپارتمان وجود دارد. در چهار طبقه اول این برج، چند واحد آپارتمان وجود دارد؟

(۱) ۲۰ واحد (۲) ۱۰ واحد (۳) ۳۰ واحد (۴) ۱۰۰ واحد

۲- علی در برجی زندگی می‌کند که ۶ طبقه دارد. طبقه اول این برج، یک واحد دارد. هر طبقه که بالا می‌رویم، ۴ واحد به تعداد واحدهای طبقه قبل اضافه می‌شود. طبقه‌های پنجم و ششم این ساختمان، روی هم چند واحد دارند؟

(۱) ۳۰ (۲) ۳۸

(۳) ۲۲ (۴) ۱۴

۳- در آشپزخانه‌ای، یک کمد وجود دارد که ۶ ردیف دارد. در ردیف اول این کمد ۳ کارتن ماکارونی قرار گرفته است. هر ردیف که بالا می‌رویم، ۳ کارتن به تعداد کارتن‌های ردیف قبل اضافه می‌شود. در ردیف پنجم این کمد، چند کارتن ماکارونی قرار گرفته است؟

(۱) ۱۶ (۲) ۱۵

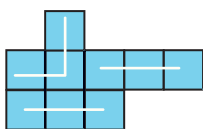
(۳) ۱۸ (۴) ۱۲

۴- باتوجه به الگوی زیر، اختلاف کدام دو جمله از الگوی زیر با سایر گزینه‌ها تفاوت دارد؟

(۱) دوم و پنجم (۲) اول و چهارم

(۳) چهارم و هفتم (۴) سوم و پنجم

۵- باتوجه به دسته‌بندی انجام‌شده در شکل زیر، عبارت کدام گزینه برای این شکل مناسب است؟



(۱) $3 + 3 + 3 + 3 = 12$ (۲) $4 + 4 + 4 = 12$

(۳) $3 + 3 + 3 = 9$ (۴) $2 + 2 + 2 = 6$



«آزمون ۲۱ مهر» - سوم دبستان



۶- فاطمه هر روز ۷ صفحه از کتاب داستان را می‌خواند. او در یک هفته چند صفحه از کتاب را می‌خواند؟

۵۶ (۲)

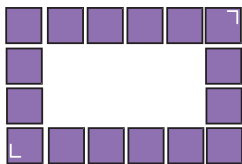
۳۶ (۱)

۴۹ (۴)

۴۲ (۳)

۷- در شکل زیر می‌خواهیم مربع‌ها را به کمک شمارش چندتا چندتا دسته‌بندی کنیم، به طوری که در هر دسته تعداد

برابری مربع قرار بگیرد و مربعی اضافه نیاید. کدام شمارش برای انجام این کار مناسب است؟



۷ تا ۷ تا ۷ تا ۷ تا ۷ تا ۷ تا

۶ تا ۶ تا ۶ تا ۶ تا ۶ تا ۶ تا

۹ تا ۹ تا ۹ تا ۹ تا ۹ تا ۹ تا

۸ تا ۸ تا ۸ تا ۸ تا ۸ تا ۸ تا

۸- اگر امروز دوشنبه و اولین روز ماه باشد، سومین سه‌شنبه‌ی ماه، چندمین روز این ماه است؟

۱۴ (۲)

۱۵ (۱)

۲۳ (۴)

۱۶ (۳)



۹- با توجه به ماشین زیر، به جای ؟ چه عددی قرار می‌گیرد؟

۲۶ (۲)

۲۷ (۱)

۳۹ (۴)

۳۸ (۳)

۱۰- ماشینی داریم که وقتی عددی وارد آن می‌شود، ابتدا به آن ۷ تا اضافه می‌کند. سپس ۲۷ تای دیگر نیز به حاصل

اضافه کرده و خروجی را تحویل می‌دهد. اگر ورودی این ماشین، عدد ۱۶ باشد، خروجی آن کدام است؟

۶۰ (۲)

۴۵ (۱)

۵۰ (۴)

۵۵ (۳)





دانش آموز عزیز:


در آزمون قبل به چند سؤال از ۱۰ سؤال پاسخ درست دادی؟
فکر می‌کنی برای این آزمون به چند سؤال از ۱۰ سؤال پاسخ خواهی داد؟ در جدول زیر بنویس.

چند از ۱۰ آزمون قبل	هدف‌گذاری چند از ۱۰ برای آزمون امروز
---------------------	--------------------------------------

زمان پاسخ‌گویی: ۱۵ دقیقه

ریاضی آشنا (سؤالات گواه) - صفحه‌های ۷ تا ۱۵ کتاب درسی

۱۱- اگر الگوی زیر را ادامه دهیم، عدد دهم چند است؟



۱۶ (۱)

۱۹ (۳)

۱۲- یک ساختمان ۴ طبقه دارد. بالاترین طبقه آن ۳ واحد دارد اما هر یک طبقه که به پایین می‌رویم ۲ واحد به تعداد

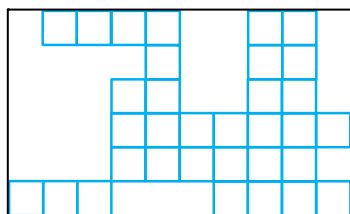
واحدها اضافه می‌شود. هر واحد ۲ اتاق خواب دارد. در پایین‌ترین طبقه چند اتاق خواب وجود دارد؟

۲۰ (۱)

۱۶ (۳)

۱۳- شکل زیر تصویر مستطیلی است که به مربع‌های مساوی تقسیم شده است. اما تعدادی از این مربع‌ها پاک شده است.

تعداد کل مربع‌های کوچک اولیه چند تا است؟



۵۵ (۱)


۶۰ (۲)

۶۵ (۳)

۶۲ (۴)

۱۴- در روش شمارش چندتا چندتا، اگر شکل روبه‌رو را بار اول ۳ تا ۳ تا و بار دوم ۴ تا ۴ تا دسته‌بندی کنیم، کدام گزینه

صحیح است؟



(۱) تعداد دسته‌های اول، یک واحد کم‌تر از تعداد دسته‌های دوم است.

(۲) تعداد دسته‌های اول، یک واحد بیش‌تر از تعداد دسته‌های دوم است.

(۳) مجموع تعداد دسته‌های اول و دوم برابر با ۷ است.

(۴) گزینه‌های «۲» و «۳»



آزمون ۲۱ مهر - سوم دبستان



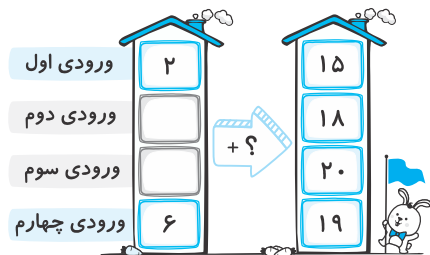
۱۵- اگر امروز سه‌شنبه و پنجمین روز ماه باشد، چهارمین سه‌شنبه‌ی ماه چه روزی از این ماه است؟

۲۱ (۲)

۲۸ (۱)

۱۹ (۴)

۲۶ (۳)



۱۶- ورودی سوم ماشین زیر کدام است؟

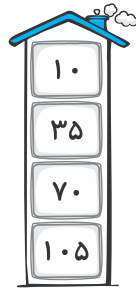

۱۴ (۱)

۵ (۲)

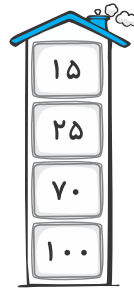
۱۳ (۳)

۷ (۴)

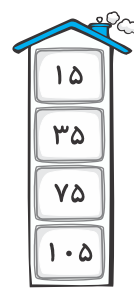
۱۷- با توجه به عددهای خروجی این ماشین، کدام گزینه عددهای ورودی را نشان می‌دهد؟



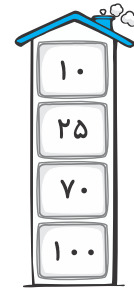
(۴)



(۳)



(۲)



(۱)

۱۸- مجموع عدد هشتم و عدد اول الگوی زیر، کدام است؟

۱, ۵, ۹, ..., ۱۷, ..., ..., ...

۳۰ (۲)

۲۹ (۱)

۲۸ (۴)

۳۱ (۳)

۱۹- در یک خانه از طبقه‌ی اول تا طبقه‌ی دوم ۵ پله وجود دارد. از طبقه‌ی دوم تا طبقه‌ی سوم ۶ پله و به همین ترتیب

تعداد پله‌ها یک واحد اضافه می‌شود. فردی که در طبقه‌ی هفتم است چند پله بیش‌تر از فردی که در طبقه‌ی پنجم است، بالا می‌رود؟

۴۵ (۴)

۲۰ (۳)

۲۶ (۲)

۱۹ (۱)

۲۰- اگر یک مکعب را باز کنیم و تعداد مربع‌هایی که کنار هم قرار گرفته‌اند تا این مکعب را بسازند، بشماریم؛ این

مربع‌ها چند تا هستند؟

۶ (۴)

۱۲ (۳)

۸ (۲)

۴ (۱)



«آزمون ۲۱ مهر» - سوم دبستان

دانش آموز عزیز:

در آزمون قبل به چند سؤال از ۱۰ سؤال پاسخ درست دادی؟
فکر می‌کنی برای این آزمون به چند سؤال از ۱۰ سؤال پاسخ خواهی داد؟ در جدول زیر بنویس.

چند از ۱۰ آزمون قبل	هدف‌گذاری چند از ۱۰ برای آزمون امروز

زمان پاسخ‌گویی: ۱۰ دقیقه

علوم - صفحه‌های ۷ تا ۲۲ کتاب درسی

- ۲۱- با توجه به دسته‌بندی مواد غذایی در کتاب درسی، نخود و لوبیا در کدام دسته از خوراکی‌ها قرار دارند؟
- (۱) گوشت‌ها، تخم‌مرغ و حبوبات
(۲) سبزی‌ها و میوه‌ها
(۳) شیر و لبنیات
(۴) چربی‌ها
- ۲۲- برای مشاهده‌ی حشرات ریز از کدام یک از وسایل زیر می‌توانیم استفاده کنیم تا جزئیات آن‌ها را بهتر تشخیص دهیم؟
- (۱) دفتر برنامه‌ریزی درسی
(۲) مداد نقاشی
(۳) ذره‌بین
(۴) کتاب علوم مدرسه
- ۲۳- گل‌فروشی برای شناسایی خوشبوترین و تازه‌ترین گل در فروشگاه گل‌فروشی به نوبت آن‌ها را دید و بو کرد. با توجه به این توضیحات، این گل‌فروش کدام مرحله از پاسخ‌گویی به یک پرسش علمی را انجام داده است؟
- (۱) مشاهده
(۲) پرسش‌نامه
(۳) مصاحبه
(۴) نتیجه‌گیری
- ۲۴- مریم و سارا در حال بررسی پروانه‌های مزرعه‌ی خود بودند. سارا برای انجام مشاهده از ذره‌بین استفاده کرد و مریم مشاهدات را یادداشت کرد. در مرحله‌ی بعدی انجام پژوهش بهتر است آن‌ها چه کاری انجام دهند؟
- (۱) اطلاعات خود را با بزرگ‌ترها به اشتراک بگذارند تا آن‌ها پژوهش را ادامه دهند.
(۲) اطلاعات خود را در یک جدول دسته‌بندی کنند.
(۳) بلافاصله نتیجه‌گیری کنند و نتیجه را به معلم خود اعلام کنند.
(۴) باید حتماً مشاهده‌ی خود را دوباره تکرار کنند.
- ۲۵- پس از مرتب‌کردن اطلاعات جمع‌آوری شده، کدام یک از کارهای زیر را می‌توانیم انجام دهیم تا بتوانیم مانند دانشمندان یک نتیجه‌ی منطقی از پژوهش خود بگیریم؟
- (۱) در این مرحله باید مشاهده انجام دهیم.
(۲) فقط از معلم، راهنمایی بگیریم.
(۳) نمودار رسم کنیم و اطلاعات را مقایسه، تجزیه و تحلیل کنیم.
(۴) با تلفن همراه، اطلاعات را به همه اطلاع دهیم.



«آزمون ۲۱ مهر» - سوم دبستان



۲۶- کدام دسته از خوراکی‌های زیر در بشقاب سلامتی که در کتاب درسی نیز به آن اشاره شده، نسبت به بقیه سهم کم‌تری دارد؟

- (۱) گروه غلات و سیب‌زمینی
(۲) گروه میوه‌ها و سبزی‌ها
(۳) گروه گوشت‌ها، تخم‌مرغ و حبوبات
(۴) گروه شیر و لبنیات

۲۷- در هر روز بهتر است از کدام گروه از مواد غذایی استفاده کنیم؟

- (۱) گروه گوشت‌ها و تخم‌مرغ
(۲) گروه میوه و سبزی‌ها
(۳) گروه چربی‌ها و گروه غلات و سیب‌زمینی
(۴) همه‌ی موارد

۲۸- نقش گروه غلات و سیب‌زمینی در بدن ما چیست؟

- (۱) به رشد ما کمک می‌کنند و همه‌ی مواد لازم را به بدن ما می‌رسانند.
(۲) به ما انرژی می‌دهند ولی خوردن این غذاها همیشه برای ما ضرر دارد.
(۳) این غذاها به ما انرژی می‌دهند و بعضی ویتامین‌ها و مواد لازم را به بدن ما می‌رسانند.
(۴) دارای ویتامین‌های زیادی هستند و ویتامین‌ها برای سلامتی و درست کارکردن بدن لازم هستند.

۲۹- برای یک میان‌وعده‌ی مناسب و سالم، بهتر است از کدام‌یک از موارد زیر استفاده کنیم؟

- (۱) چپیس (۲) پفک (۳) نوشابه (۴) آجیل

۳۰- کدام جمله در خصوص مواد نگه‌دارنده درست است؟

- (۱) همیشه فقط باعث رنگ بهتر ماده‌ی غذایی می‌شوند.
(۲) در زمان‌های گذشته از آن استفاده می‌کردند ولی امروزه کاربردی ندارند.
(۳) فقط باعث مزه‌ی بهتر خوراکی‌ها می‌شوند و بی‌ضرر هستند.
(۴) برای مدتی از فساد مواد غذایی جلوگیری می‌کنند.



«آزمون ۲۱ مهر» - سوم دبستان

دانش آموز عزیز:

در آزمون قبل به چند سؤال از ۱۰ سؤال پاسخ درست دادی؟
فکر می‌کنی برای این آزمون به چند سؤال از ۱۰ سؤال پاسخ خواهی داد؟ در جدول زیر بنویس.

چند از ۱۰ آزمون قبل	هدف‌گذاری چند از ۱۰ برای آزمون امروز
---------------------	--------------------------------------

زمان پاسخ‌گویی: ۱۰ دقیقه

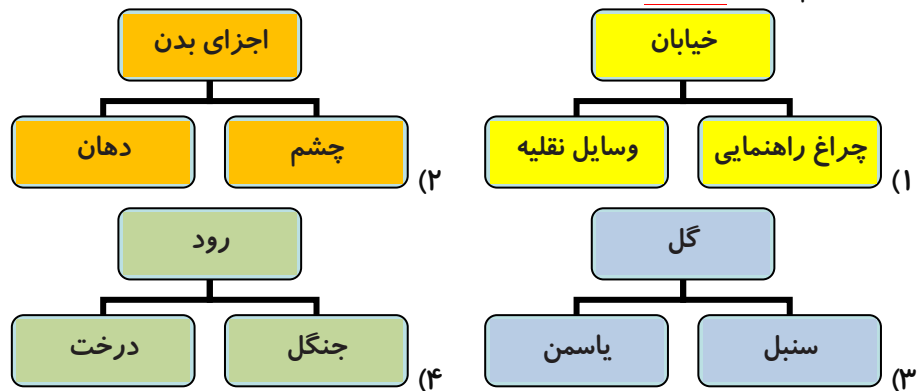
فارسی و نگارش فارسی

فارسی: صفحه‌های ۱۰ تا ۱۹ کتاب درسی / نگارش فارسی: صفحه‌های ۸ تا ۱۲ کتاب درسی

۳۱- معنی واژه‌ی کدام گزینه نادرست بیان شده است؟

- (۱) نگران: دل‌پس
(۲) عظمت: زیبایی
(۳) محله: قسمتی از یک شهر یا روستا
(۴) صمیمی: همدل و مهربان

۳۲- نمودار کدام گزینه نادرست است؟



۳۳- شعر «پدر بزرگ» و شعر «خداوند رنگین کمان» به ترتیب سروده‌ی کدام شاعران هستند؟

- (۱) سرور کتبی - محمود پوروهاب
(۲) ناصر کشاورز - محمود پوروهاب
(۳) سرور کتبی - ناصر کشاورز
(۴) محمود پوروهاب - ناصر کشاورز

۳۴- بیت کدام گزینه نادرست است؟

- (۱) مادر برای او رفت / یک چای تازه آورد
(۲) او خسته بود و پایش / انگار درد می‌کرد
(۳) در دست پیر او بود / باز آن عصای زیبا
(۴) با خنده باز از من / پرسید: در چه حالی؟

۳۵- در بین کلمات زیر، چند کلمه‌ی جمع وجود دارد؟

اصفهان - کودکان - خزندگان - شکلات - پرنده‌ها - خاطرات - اژدها - ایمان

- (۱) پنج
(۲) سه
(۳) چهار
(۴) شش



«آزمون ۲۱ مهر» - سوم دبستان



۳۶- خانه‌های ردیف دوم جدول با کدام کلمه کامل می‌شوند؟

ن				و		(۱)
			ت			(۲)
					م	(۳)

(۱) شیرینی فروشی

(۲) نام دیگر دگان

(۳) همان نام نویسی است

(۴) نام دیگر پارک

۳۷- در کدام گزینه نادرستی املايي وجود دارد؟

(۱) سنجاقک - فضای سبز

(۲) عادت - اطراف

(۳) برگزار شدن - نظر

(۴) احساس - بغل

۳۸- در عبارت کدام گزینه، واژه‌ی جمع وجود ندارد؟

(۱) فردا مسابقات شنای دانش آموزی است و من برای به دست آوردن بهترین رتبه، تلاش خواهم کرد.

(۲) لحظات خوشی را که در مسافرتان به شیراز تجربه کردیم، هرگز فراموش نمی‌کنم.

(۳) خواهرم این شعر سعدی را با خطی زیبا و خوانا در دفترش نوشت.

(۴) من حتماً در اولین فرصت نظرات شما را مطالعه خواهم کرد.

۳۹- بیت کدام گزینه به خالق بودن خداوند اشاره دارد؟

(۱) خدایی که آب و هوا آفرید / درخت و گل و سبزه را آفرید

(۲) خدایی که از بوی گل، بهتر است / صمیمی تر از خنده‌ی مادر است

(۳) خدایا، به ما مهربانی بده / دلی ساده و آسمانی بده

(۴) دلی صاف و بی‌کینه، مانند آب / دلی روشن و گرم، چون آفتاب

۴۰- با توجه به درس «محلّه‌ی ما»، کدام گزینه نادرست است؟

(۱) امید در کلاس چهارم ثبت‌نام کرده بود.

(۲) امید دروازه‌بان تیم محلّه‌ی قبلی خود بود.

(۳) امید و پدرش از محلّه‌ی جدید دیدن کردند.

(۴) مسجد بزرگی در یک طرف میدان محلّه قرار داشت.



«آزمون ۲۱ مهر» - سوم دبستان

دانش آموز عزیز:

در آزمون قبل به چند سؤال از ۱۰ سؤال پاسخ درست دادی؟
فکر می‌کنی برای این آزمون به چند سؤال از ۱۰ سؤال پاسخ خواهی داد؟ در جدول زیر بنویس.

چند از ۱۰ آزمون قبل	هدف‌گذاری چند از ۱۰ برای آزمون امروز
---------------------	--------------------------------------

زمان پاسخ‌گویی: ۵ دقیقه

مطالعات اجتماعی: صفحه‌های ۲ تا ۶ کتاب درسی

۴۱- کدام یک از تغییرات زیر، به رشد کردن مربوط نمی‌شود؟

- (۱) بلند شدن قد
(۲) افتادن دندان‌های شیری
(۳) راه رفتن
(۴) کاهش وزن بر اثر بیماری

۴۲- کدام مورد، از کاربردهای داشتن شناسنامه نیست؟

- (۱) ثبت نام در مدرسه
(۲) ازدواج
(۳) کار
(۴) دیدار اقوام

۴۳- چه تعداد از موارد زیر در شناسنامه‌ی افراد ذکر می‌شود؟

«نام مادر - نام برادر یا خواهر - محل صدور شناسنامه - تاریخ تولد - محل سکونت»

- (۱) سه
(۲) پنج
(۳) چهار
(۴) دو

۴۴- کدام گزینه نادرست است؟

- (۱) انسان وقتی به دنیا می‌آید، خیلی از کارها را نمی‌تواند انجام دهد.
(۲) یکی از تغییرات انسان در طول زندگی، تغییر در نیازهای اوست.
(۳) همه‌ی موجودات زنده رشد می‌کنند و کامل‌تر و بزرگ‌تر می‌شوند. البته ممکن است رشد کردن بدون تغییر باشد.
(۴) با گذشت زمان و بیش‌تر شدن توانایی‌های انسان، مسئولیت‌های او نیز افزایش می‌یابد.

۴۵- عبارات کدام گزینه به ترتیب جاهای خالی زیر را به درستی کامل می‌کنند؟

(الف) نوزادها تا دو ماهگی ، ولی

(ب) بر روی نواری که روی دست نوزاد بسته می‌شود، نوشته می‌شود.

- (۱) درست نمی‌شنوند - خوب می‌بینند / (ب) نام مادر
(۲) درست نمی‌بینند - خوب می‌شنوند / (ب) نام مادر
(۳) خوب نمی‌شنوند - درست می‌بینند / (ب) نام پدر
(۴) خوب نمی‌بینند - درست نمی‌شنوند / (ب) نام پدر



«آزمون ۲۱ مهر» - سوم دبستان



دانش آموز عزیز:

در آزمون قبل به چند سؤال از ۱۰ سؤال پاسخ درست دادی؟
فکر می‌کنی برای این آزمون به چند سؤال از ۱۰ سؤال پاسخ خواهی داد؟ در جدول زیر بنویس.

چند از ۱۰ آزمون قبل	هدف‌گذاری چند از ۱۰ برای آزمون امروز
---------------------	--------------------------------------

زمان پاسخ‌گویی: ۵ دقیقه

هدیه‌های آسمان: صفحه‌های ۸ تا ۱۹ کتاب درسی

۴۶- با توجه به درس «آستین‌های خالی»، مهم‌ترین راه تشکر از خدا به خاطر نعمت‌هایش چیست؟

- (۱) استفاده نکردن از نعمت‌ها
- (۲) بخشیدن همه‌ی نعمت‌ها به دیگران
- (۳) استفاده‌ی صحیح از نعمت‌ها
- (۴) کم‌تر استفاده کردن از نعمت‌ها

۴۷- در آیات شریفه‌ی «أَلَمْ نَجْعَلْ لَهُ عَيْنَيْنِ وَ لِسَانًا وَ شَفَتَيْنِ» به کدام نعمت اشاره‌ی نشده است؟

- (۱) دست
- (۲) چشم
- (۳) زبان
- (۴) لب

۴۸- کدام گزینه، دعای خوبی در حق دیگران نیست؟

- (۱) همه‌ی مریضان شفا پیدا کنند.
- (۲) خداوند همه‌ی مسلمانان را از بلا نجات دهد.
- (۳) هم‌کلاسی‌ام مریض شود تا نتواند با من رقابت کند.
- (۴) مادرم به سفر رفته و دعا می‌کنم تا به سلامت باز گردد.

۴۹- از آیه‌ی ۱۱۴ سوره‌ی نحل: «وَ اشْكُرُوا نِعْمَتَ اللَّهِ» کدام مفهوم برداشت می‌شود؟

- (۱) اسراف نکردن
- (۲) شکرگزاری از نعمت‌های پروردگار
- (۳) دائم به یاد خدا بودن
- (۴) صبر و تقوا

۵۰- کدام گزینه نادرست است؟

- (۱) آیه‌ی «أَذْكُرُوا نِعْمَتَ اللَّهِ عَلَيْكُمْ» به یاد کردن نعمت‌های خداوند اشاره دارد.
- (۲) اگر انسانی دو دست نداشته باشد، یک نفر باید به او کمک کند تا کارهایش را انجام دهد.
- (۳) یکی از بهترین وقت‌ها برای دعا کردن، هنگام بارش باران است.
- (۴) ما باید فقط برای برخی از هدیه‌هایی که خداوند به ما داده است، از او تشکر کنیم.





دانش‌آموزان گرامی ،

لطفا در هنگام پاسخ‌گویی به سؤال‌های زیر، به شماره‌ی سؤال‌ها دقت کنید.

شروع به موقع

۲۹۴- آیا آزمون امروز، رأس ساعت اعلام شده شروع شد؟ (زمان‌های شروع پاسخ‌گویی به نظرخواهی و سؤال‌های علمی در ابتدای برگه‌ی نظرخواهی آمده است)

(۲) خیر

(۱) بله

نظم در شروع و حین آزمون

۲۹۵- آیا قبل از شروع آزمون و حین آزمون امروز، حوزه منظم و ساکت بود؟

(۲) خیر

(۱) بله

مراقبان

۲۹۶- آیا مراقب‌ها در آزمون امروز، جدیت کافی داشتند؟

(۲) خیر

(۱) بله

پایان آزمون - ترک حوزه

۲۹۷- آیا امروز به دانش‌آموزان قبل از پایان آزمون اجازه‌ی خروج زودهنگام داده شده؟

(۲) خیر

(۱) بله

نظم در پایان آزمون

۲۹۸- آیا تا پایان آزمون، حوزه منظم و ساکت است؟

(۲) خیر

(۱) بله





سؤال‌های پیشرفته

در این قسمت ۱۰ سؤال ریاضی پیشرفته و ۱۰ سؤال علوم پیشرفته در نظر گرفته شده است.

دوست فوبم:

- اگر در آزمون‌های قبلی تراز بالای ۶۲۵۰ داشته‌ای، متمماً به این سؤال‌ها پاسخ بده.
- اگر تراز بین ۵۵۰۰ تا ۶۲۵۰ داری، می‌توانی با مشاوری پدر، مادر و پشتیبانت به این سؤالات پاسخ بدهی.

کارنامه‌ی این قسمت به‌صورت جداگانه به شما تمویل داده می‌شود و تأثیری روی قسمت سؤالات عادی ندارد.

گروه آزمون

بنیاد علمی آموزشی قلمچی (وقف عام)

آزمون «۲۱ مهر» - سوم دبستان

دانش آموز عزیز:

در آزمون قبل به چند سؤال از ۱۰ سؤال پاسخ درست دادی؟
فکر می‌کنی برای این آزمون به چند سؤال از ۱۰ سؤال پاسخ خواهی داد؟ در جدول زیر بنویس.

چند از ۱۰ آزمون قبل	هدف‌گذاری چند از ۱۰ برای آزمون امروز

زمان پاسخ‌گویی: ۱۵ دقیقه

ریاضی پیشرفته - صفحه‌های ۷ تا ۱۵ کتاب درسی

۵۱- اگر بخواهیم ۱۵ دایره را دسته‌بندی کنیم، به طوری که هیچ دایره‌ای خارج از دسته‌ها قرار نگیرد، کدام شمارش و دسته‌بندی صحیح است؟

(۲) شمارش ۵ تا ۵ تا

(۱) شمارش ۴ تا ۴ تا

(۴) شمارش ۷ تا ۷ تا

(۳) شمارش ۶ تا ۶ تا

۵۲- یک ماشین ورودی و خروجی بسته به اینکه عدد ورودی آن فرد یا زوج است، عملکرد متفاوتی دارد. اگر عدد ورودی زوج باشد، ابتدا عدد را با خودش جمع می‌کند، سپس ۵ تا از حاصل کم می‌کند. اگر عدد ورودی فرد باشد، ابتدا عدد را با ۹ جمع کرده سپس با ۴ جمع می‌کند و در نهایت خود عدد را از حاصل کم می‌کند. اگر اعداد ۳ و ۸ ورودی‌های این ماشین باشند، اختلاف خروجی‌های آن‌ها چقدر است؟

(۴) صفر

(۳) ۱

(۲) ۲

(۱) ۳

۵۳- در ماشین زیر، حاصل $\square - \triangle + \bigcirc$ چقدر است؟

(۱) ۸



(۲) ۳۱

(۳) ۲۱

(۴) ۱۵

۵۴- پدر زهرا فروشنده است. او هر بسته از نوعی بیسکویت را ۱۰۰ ریال می‌خرد و ۱۴۰ ریال می‌فروشد. او حداقل باید چند بیسکویت بفروشد تا بتواند با سود آن عروسکی به قیمت ۳۴۰ ریال برای دخترش بخرد؟

(۴) ۸

(۳) ۹

(۲) ۵

(۱) ۳

۵۵- اعداد کدامیک از گزینه‌ها را به ترتیب می‌توان به جای \square و \bigcirc گذاشت تا ماشین زیر به درستی کار کند؟

(۲) ۱۵ - ۳۵

(۱) ۵ - ۵۰



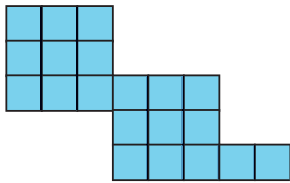
(۴) ۵ - ۴۰

(۳) ۱۰ - ۳۰



۵۶- در شکل زیر می خواهیم مربع های کوچک را به کمک شمارش چندتا چندتا دسته بندی کنیم، به طوری که در هر

بسته تعداد برابری مربع قرار بگیرد و مربعی اضافه نیاید. باتوجه به این توضیحات، کدام گزینه درست نیست؟



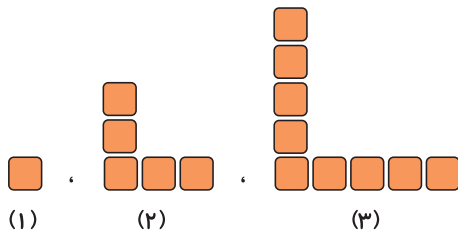
(۱) شکل را می توان ۱۰ تا ۱۰ دسته بندی کرد.

(۲) شکل را نمی توان ۵ تا ۵ دسته بندی کرد.

(۳) شکل را می توان ۲ تا ۲ دسته بندی کرد.

(۴) شکل را نمی توان ۱۱ تا ۱۱ دسته بندی کرد.

۵۷- با توجه به الگوی شکل زیر، مجموع تعداد مربع های شکل مرحله ۴ و ۵ چقدر است؟



(۱) ۳۰

(۲) ۴۲

(۳) ۳۲

(۴) ۳۵

۵۸- با توجه به الگوی زیر، به جای \square و \bigcirc چه اعدادی باید قرار دهیم؟

$23, 18, 20, 15, 17, \square, \bigcirc$

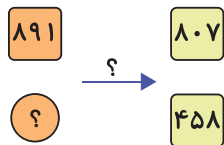
(۲) $\square = 12, \bigcirc = 14$

(۱) $\square = 19, \bigcirc = 21$

(۴) $\square = 15, \bigcirc = 13$

(۳) $\square = 14, \bigcirc = 12$

۵۹- با توجه به ماشین زیر، پاسخ سوالات زیر به ترتیب از راست به چپ در کدام گزینه به درستی آمده است؟



الف) ماشین زیر چه کاری انجام می دهد؟

ب) به جای \bigcirc چه عددی باید قرار دهیم؟

(۱) ۸۴ تا کم می کند - ۵۳۲

(۲) ۸۴ با جمع می کند - ۳۷۴

(۳) ۸۴ تا کم می کند - ۵۴۲

(۴) ۸۴ با جمع می کند - ۵۴۲

۶۰- امروز یکشنبه و اولین روز ماه تیر است. آخرین روز این ماه چه روزی است؟

(۴) چهارشنبه

(۳) دوشنبه

(۲) یکشنبه

(۱) سه شنبه



دانش آموز عزیز:

در آزمون قبل به چند سؤال از ۱۰ سؤال پاسخ درست دادی؟
فکر می‌کنی برای این آزمون به چند سؤال از ۱۰ سؤال پاسخ خواهی داد؟ در جدول زیر بنویس.

چند از ۱۰ آزمون قبل	هدف‌گذاری چند از ۱۰ برای آزمون امروز
---------------------	--------------------------------------

زمان پاسخ‌گویی: ۱۵ دقیقه

علوم پیشرفته - صفحه‌های ۷ تا ۲۲ کتاب درسی

- ۶۱- مطابق با کتاب درسی، کدام یک از مواد زیر، جزو مواد اصلی تشکیل‌دهنده‌ی آش رشته نمی‌باشد؟
- (۱) سبزی
 - (۲) حبوبات
 - (۳) آرد
 - (۴) کشک
- ۶۲- در پاسخ‌گویی به یک پرسش به روش دانشمندان، به چه منظور رسم جدول انجام می‌دهیم؟
- (۱) مرتب کردن اطلاعات
 - (۲) نوشتن نتیجه
 - (۳) فکر کردن برای نتیجه‌گیری
 - (۴) نوشتن سؤال
- ۶۳- اگر می‌خواهید مانند دانشمندان به پژوهش علمی بپردازید، در ابتدا باید چگونه باشید؟
- (۱) با دقت فکر کنید.
 - (۲) با دقت مشاهده کنید.
 - (۳) آزمایش انجام دهید.
 - (۴) نتیجه‌گیری کنید.
- ۶۴- مادر زهرا امروز مهمان دارد و برای درست کردن غذا به زهرا لیست می‌دهد تا او به خرید رفته و اقلام ذکر شده در لیست را خریداری کند. به ترتیب اقلام نوشته‌شده در کدام گروه از مواد غذایی هستند؟
- «سیب‌زمینی - پیاز - کشک - ماکارونی»
- (۱) غلات و سیب‌زمینی - غلات و سیب‌زمینی - شیر و لبنیات - غلات و سیب‌زمینی
 - (۲) غلات و سیب‌زمینی - میوه‌ها و سبزی‌ها - شیر و لبنیات - غلات و سیب‌زمینی
 - (۳) میوه‌ها و سبزی‌ها - میوه‌ها و سبزی‌ها - چربی‌ها - غلات و سیب‌زمینی
 - (۴) غلات و سیب‌زمینی - میوه‌ها و سبزی‌ها - چربی‌ها - غلات و سیب‌زمینی
- ۶۵- با توجه به مطالب کتاب درسی، کدام یک از گزینه‌های زیر به برنامه‌ی مناسب غذایی برای یک وعده‌ی غذایی اشاره می‌کند؟
- (۱) شام - در این وعده باید مقدار زیادی برنج بخوریم که تا صبح گرسنه نمایم.
 - (۲) ناهار - می‌توانیم در این وعده‌ی غذایی سوسیس و کالباس بخوریم که خوراکی‌های سالمی هستند.
 - (۳) صبحانه - می‌توانیم در این وعده نان و پنیر و گردو و یا عسل مصرف کنیم تا برای رفتن به کلاس درس انرژی داشته باشیم.
 - (۴) ناهار - چون پس از آن به مدت طولانی چیزی نمی‌خوریم، باید در این وعده‌ی غذایی، غذای خیلی چرب بخوریم.



«آزمون ۲۱ مهر» - سوم دبستان



۶۶- مادر علی می‌خواهد برای شام کوکو سبزی درست بکند و به علی گفته است که مواد لازم را بخرد. برای تهیه این

غذا مادر علی از کدام گروه از مواد غذایی استفاده‌ای نمی‌کند؟

(۱) گروه چربی‌ها

(۲) گروه میوه‌ها و سبزی‌ها

(۳) گروه شیر و لبنیات

(۴) گروه گوشت‌ها، تخم مرغ و حبوبات

۶۷- روی جلد کالایی، تاریخ تولید و تاریخ انقضای زیر ثبت شده است، به نظر شما آن کالا کدام‌یک از موارد زیر می‌تواند

باشد؟

(۱) پفک

(۲) رب گوجه‌فرنگی

(۳) روغن آفتابگردان

(۴) شیر پاستوریزه

تاریخ تولید: ۱۴۰۲/۰۷/۲۱

تاریخ انقضا: ۱۴۰۲/۰۷/۲۴

۶۸- اگر نمودار زیر، مراحل کار یک پژوهشگر آمده باشد، در جایگاه (۳) و (۵) کدام مراحل به ترتیب از راست به چپ

قرار می‌گیرند؟



(۱) طرح پرسش - انجام آزمایش

(۲) جمع‌آوری اطلاعات - انجام آزمایش

(۳) نتیجه‌گیری - طرح پرسش

(۴) جمع‌آوری اطلاعات - نتیجه‌گیری

۶۹- در کدام گزینه به ترتیب از راست به چپ، تعداد مواد غذایی سالم و مواد غذایی ناسالم که دانش‌آموزان کلاس سوم

به مدرسه می‌برند، آورده شده است؟

«ساندویچ سوسیس - ماست - بادام - پیپس - کالباس - نوشابه - توت‌فرنگی - لواشک صنعتی»

(۲) ۴ - ۴

(۱) ۶ - ۲

(۴) ۵ - ۳

(۳) ۷ - ۱

۷۰- کدام‌یک از موارد زیر در رشد دانه‌ی کاهو تأثیر چندانی ندارد؟

(۲) نور کافی

(۱) آبیاری به موقع

(۴) رنگ گلدان

(۳) دمای مناسب

