



دفترچه سؤال

دوم دبستان

۲۱ مهر ۱۴۰۲

تعداد کل سؤالات عادی: ۴۰ سؤال
مدت پاسخ‌گویی به آزمون: ۵۵ دقیقه

نام درس	تعداد سؤال	شماره سؤال	وقت پیشنهادی	برنامه‌ی آزمون
ریاضی	۱۰	۱-۱۰	۱۵ دقیقه	عدد و رقم (عدد و شمارش، ...، دسته‌های ده تایی و یکی) صفحه‌ی ۱ تا ۹
ریاضی (سؤالات آشنا)	۱۰	۱۱-۲۰	۱۵ دقیقه	عدد و رقم (عدد و شمارش، ...، دسته‌های ده تایی و یکی) صفحه‌ی ۱ تا ۹
علوم	۱۰	۲۱-۳۰	۱۵ دقیقه	زنگ علوم صفحه‌ی ۱۲ تا ۱۵
فارسی	۱۰	۳۱-۴۰	۱۰ دقیقه	ستایش و کتابخانه‌ی کلاس ما فارسی: صفحه‌ی ۲ تا ۹ نگارش فارسی: صفحه‌ی ۹ تا ۱۹

بنیاد علمی آموزشی قلم‌چی (وقف عام)

دفتر مرکزی: خیابان انقلاب - بین صبا و فلسطین - پلاک ۹۲۳ - تلفن: ۶۴۶۳ - ۰۲۱

سؤال‌های عادی

دوست فوبم:

در درس های ریاضی، علوم و فارسی ۱۰ سوال ابتدای دفترچه طرح نو(طراحی شده) هستند و با توجه به برنامه‌ی راهبردی خود هر آزمون در یک درس ۱۰ سوال منتخب از کتاب های سه سطحی (سوال های آشنا) داریم. با پاسخ گویی به این دو نوع سوال ها، می توانید ارزیابی بهتری از یادگیری خودتان داشته باشید.

مجموعاً در این دفترچه ۴۰ سوال قرار دارد که پاسخ گویی به این سوالات اجباری است.

گروه آزمون

بنیاد علمی آموزشی قلمچی (وقف عام)

«آزمون ۲۱ مهر» - دوم دبستان

دانش آموز عزیز:


در آزمون قبل به چند سؤال از ۱۰ سؤال پاسخ درست دادی؟
 فکر می‌کنی در این آزمون به چند سؤال از ۱۰ سؤال پاسخ خواهی داد؟ در جدول زیر بنویس.

چند از ۱۰ آزمون قبل	هدف‌گذاری چند از ۱۰ برای آزمون امروز
---------------------	--------------------------------------

زمان پاسخ‌گویی: ۱۵ دقیقه

ریاضی - صفحه‌های ۱ تا ۹ کتاب درسی

۱- تعداد ستاره‌های هر شکل را بشمارید. در کدام گزینه هر دو عدد آمده، در شکل‌ها دیده نمی‌شود؟



۱ و ۷ (۱)

۱ و ۸ (۲)

۷ و ۸ (۳)

۶ و ۴ (۴)

۲- در جاهای خالی به ترتیب از راست به چپ، کدام گزینه قرار می‌گیرد؟

«پنجاه، شصت،، هشتاد،»

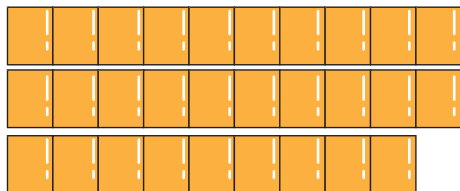
۲) هفتاد، نود

۱) هشتاد، نود

۴) نود، هفتاد

۳) شصت، نود

۳- با توجه به شکل روبه‌رو کدام گزینه صحیح است؟



یکی	ده‌تایی
۹	۳

 (۲)

یکی	ده‌تایی
۰	۳

 (۱)

یکی	ده‌تایی
۰	۲

 (۴)

یکی	ده‌تایی
۹	۲

 (۳)

۴- عددی دو رقمی که یکان آن ۷ و دهگان آن ۴ واحد از یکانش کم‌تر باشد، کدام است؟

۲) چهل و هفت

۱) هفتاد و چهار

۴) سی و هفت

۳) هفتاد و سه



۵- ۲۵ تا پروانه بر روی گلی نشسته بودند. ۱۸ تای آنها رنگارنگ و بقیه سفید بودند. چه تعداد از پروانه‌ها سفید هستند؟

(۱) ۸

(۲) ۷

(۳) ۹

(۴) ۵

۶- الناز ۳۲ مداد دارد. ۲۱ تا از مدادها سیاه و بقیه رنگی است. چند مداد، رنگی است؟

(۱) ۱۲ مداد رنگی

(۲) ۱۱ مداد رنگی

(۳) ۱۰ مداد رنگی

(۴) ۱۳ مداد رنگی

۷- آرمیتا ۳۲ لیوان دارد. اگر داخل ۱۷ تا از آن‌ها چای بریزد، چند لیوان را چای نریخته است؟

(۱) ۱۵

(۲) ۱۶

(۳) ۱۷

(۴) ۱۸

۸- محسن یک کتاب از کتابخانه خریده است که ۷۸ صفحه دارد. او روز اول ۲۰ صفحه و روز دوم ۱۰ صفحه‌ی دیگر از کتاب را خواند. محسن الان چند صفحه از کتابش را نخوانده است؟

(۱) ۱۰

(۲) ۳۰

(۳) ۳۸

(۴) ۴۸

۹- امروز، روز هجدهم ماه است. ۹ روز قبل، چه روزی از ماه بوده است؟

(۱) هشتم

(۲) نهم

(۳) هفتم

(۴) دهم

۱۰- محمد ۱۷ تا برجسب داشت. دوستش چند عدد برجسب گل به او هدیه داد. حالا او ۲۶ عدد برجسب دارد. کدام

گزینه تعداد برجسب‌هایی که او هدیه گرفته را نشان می‌دهد؟

(۲)

(۱)

(۴)

(۳)



«آزمون ۲۱ مهر» - دوم دبستان



دانش آموز عزیز:


در آزمون قبل به چند سؤال از ۱۰ سؤال پاسخ درست دادی؟
فکر می‌کنی در این آزمون به چند سؤال از ۱۰ سؤال پاسخ خواهی داد؟ در جدول زیر بنویس.

چند از ۱۰ آزمون قبل	هدف‌گذاری چند از ۱۰ برای آزمون امروز

زمان پاسخ‌گویی: ۱۵ دقیقه

ریاضی آشنا (گواه) - صفحه‌های ۱ تا ۹ کتاب درسی

۱-۱ کدام عدد در شمارش ۱۰ تا ۱۰۰ روبه‌رو، جا افتاده است؟



(۱) ۶۰

(۲) ۸۰

(۳) ۵۰

(۴) ۷۰

۱-۲ اگر اعداد ۱ تا ۱۳ را یک‌بار از اول به آخر در یک ردیف و بار دیگر از آخر به اول، زیر آن ردیف (به صورت ردیفی)


بنویسیم، در این صورت کدام عدد در زیر خودش قرار می‌گیرد؟

(۲) ۷

(۱) ۶

(۴) هیچ عدد

(۳) ۹



۱-۳ با کارت‌های زیر، چند عدد دورقمی (بدون تکرار ارقام) می‌توان ساخت؟

(۱) ۴

(۲) ۶

(۳) ۲

(۴) ۳

۱-۴ عددی دو رقمی هستیم که رقم یکانم یکی کم‌تر از ۵ و رقم دهگانم ۴ تا بیش‌تر از یکانم است. من چه عددی هستیم؟

(۲) هشتاد و چهار

(۱) نود و پنج

(۴) هشتاد و پنج

(۳) نود و چهار





«آزمون ۲۱ مهر» - دوم دبستان



۱۵- چند عدد دو رقمی با رقم‌های ۳، ۵ و ۷ می‌توان نوشت که رقم دهگان کوچک‌تر از رقم یکان باشد؟

- | | |
|-------|-------|
| ۳ (۲) | ۴ (۱) |
| ۱ (۴) | ۲ (۳) |

۱۶- اگر فردا روز پنجم ماه باشد، ۹ روز بعد از امروز چه روزی از ماه است؟

- | | |
|--------|--------|
| ۱۴ (۲) | ۱۵ (۱) |
| ۱۳ (۴) | ۱۶ (۳) |

۱۷- فرشاد ۲۵ کتاب دارد. ۱۲ تا از کتاب‌ها علمی هستند. چند کتاب غیر علمی است؟

- | | |
|--------|--------|
| ۲۳ (۲) | ۱۲ (۱) |
| ۱۳ (۴) | ۲۷ (۳) |

۱۸- اگر امروز بیست و ششمین روز از دی ماه باشد، ۴ روز دیگر چه روزی از چه ماهی است؟

- | | |
|-------------|------------|
| ۱ اسفند (۲) | ۱ بهمن (۱) |
| ۲ بهمن (۴) | ۳۰ دی (۳) |

۱۹- امروز ششمین روز از پنجمین ماه سال چهارم شروع به کار یک کارگاه چوب است. ۹ روز بعد چندمین روز از ماه

است؟ (اولین روز شروع کار کارگاه، اول ماه بوده است.)

- | | |
|-----------------|----------------------|
| ۱ سیزدهمین روز | ۲ پانزدهمین روز |
| ۳ چهاردهمین روز | ۴ بیست و چهارمین روز |

۲۰- امروز جمعه هفدهم آبان ماه است. هشت روز قبل چه روزی از ماه بوده است؟

- | | |
|-----------------------|-----------------------|
| ۱ سه‌شنبه - نهم آبان | ۲ چهارشنبه - دهم آبان |
| ۳ پنج‌شنبه - نهم آبان | ۴ جمعه - دهم آبان |



«آزمون ۲۱ مهر» - دوم دبستان



دانش آموز عزیز:

در آزمون قبل به چند سؤال از ۱۰ سؤال پاسخ درست دادی؟
فکر می‌کنی در این آزمون به چند سؤال از ۱۰ سؤال پاسخ خواهی داد؟ در جدول زیر بنویس

چند از ۱۰ آزمون قبل	هدف‌گذاری چند از ۱۰ برای آزمون امروز
---------------------	--------------------------------------

زمان پاسخ‌گویی: ۱۵ دقیقه

علوم - صفحه‌های ۱۲ تا ۱۵ کتاب درسی

۲۱- مشاهده‌ی علمی یعنی جمع‌آوری اطلاعات پیرامون به کمک

- | | |
|----------|----------------|
| (۱) چشم | (۲) گوش |
| (۳) بینی | (۴) همه‌ی حواس |

۲۲- برای دریافت اطلاعات از چند مورد زیر، به ترتیب می‌توانیم از حس بینایی و حس لامسه استفاده کنیم؟

- «نرمی پتو - گرمای شوفاژ - مزه‌ی غذا - عطر گل رز - رنگ لباس - شب یا روز بودن - صدای تلویزیون - سوز سرما»
- | | |
|-----------|-----------|
| (۱) ۱ - ۳ | (۲) ۲ - ۲ |
| (۳) ۱ - ۲ | (۴) ۲ - ۳ |

۲۳- برای گرفتن اطلاعات درباره‌ی بوق ماشین‌ها در خیابان، از کدام حس می‌توانیم استفاده کنیم؟

- | | |
|------------|-----------|
| (۱) شنوایی | (۲) چشایی |
| (۳) بینایی | (۴) لامسه |

۲۴- پس از پایان گردش دانش‌آموزان کلاس دوم در بوستان، زهرا و فاطمه برگه‌ی یادداشت خود را گم کرده‌اند، اما

زهرا و مریم آن را به همراه دارند. کدام‌یک از آن‌ها می‌تواند مشاهدات خود را دقیق‌تر بیان کند؟

- | | |
|------------------|------------------|
| (۱) مریم و زهرا | (۲) زهرا و فاطمه |
| (۳) زهرا و فاطمه | (۴) زهرا و مریم |

۲۵- معنی واژه‌های زیر در کدام گزینه صحیح بیان شده است؟

- «چشایی - لامسه»
- شنیدن - بینایی
 - چشیدن - لمس کردن
 - شنیدن - مزه کردن
 - بو کردن - لمس کردن





۲۶- بوییدن کدام مورد برای سلامتی مضر نیست؟

- (۱) سفید کننده سطوح
(۲) بنزین
(۳) عرق نعنا
(۴) لکه بر لباس

۲۷- کدام مورد، از فایده‌های یادداشت برداری هنگام مشاهده‌ی اطراف نیست؟

- (۱) به کمک یادداشت برداری، می‌توانیم مشاهدات خود را دقیق بیان کنیم.
(۲) بعد از گذشت مدتی، دیگر مشاهدات خود را فراموش نمی‌کنیم.
(۳) بعد از گذشت مدتی، دیگر نمی‌توانیم از مشاهدات خود استفاده کنیم.
(۴) می‌توانیم مشاهدات خود را برای مدت بیش‌تری به‌خاطر بسپاریم.

۲۸- کدام گزینه ترتیب مراحل شناسایی محیط اطراف را بهتر بیان می‌کند؟

- (۱) مشاهده - گزارش نویسی (بیان مشاهدات) - یادداشت برداری
(۲) یادداشت برداری - گزارش نویسی (بیان مشاهدات) - مشاهده
(۳) گزارش نویسی (بیان مشاهدات) - یادداشت برداری - مشاهده
(۴) مشاهده - یادداشت برداری - گزارش نویسی (بیان مشاهدات)

۲۹- علی و حسین همراه معلم خود برای گردش علمی به کوهستان رفته‌اند. به ترتیب انجام چند مورد مفید و انجام چند مورد از کارهای زیر مضر است؟

«نوشیدن آب رودخانه بدون اجازه - چشیدن قارچ‌های خودرو - بردن دفترچه جهت یادداشت برداری - بوییدن هر نوع گیاهی - مشاهده‌ی دقیق اطراف - ناز کردن یکی از حیوانات جنگلی وقتی معلم مشغول صحبت کردن است»

- (۱) ۳ - ۳ (۲) ۲ - ۴ (۳) ۴ - ۲ (۴) ۵ - ۱

۳۰- در عبارت «رفتن به ساحل راهی‌ست برای فراموشی دردهای این روزهایم، نگاه کردن به محل تلاقی آسمان و دریا

در دوردست‌ها، حس کردن گرمای شن‌های ساحل لابه‌لای انگشتان و صدای موج‌ها وقتی پی‌درپی به صخره‌ها برخورد می‌کنند، باعث تسکین دردها می‌شود.» نویسنده به ترتیب از کدام حس برای درک موارد نام‌برده شده استفاده کرده است؟

- (۱) بینایی - شنوایی - لامسه
(۲) شنوایی - لامسه - بویایی
(۳) چشایی - لامسه - شنوایی
(۴) بینایی - لامسه - شنوایی



«آزمون ۲۱ مهر» - دوم دبستان



دانش آموز عزیز:

در آزمون قبل به چند سؤال از ۱۰ سؤال پاسخ درست دادی؟
فکر می‌کنی در این آزمون به چند سؤال از ۱۰ سؤال پاسخ خواهی داد؟ در جدول زیر بنویس.

چند از ۱۰ آزمون قبل	هدفگذاری چند از ۱۰ برای آزمون امروز

زمان پاسخ‌گویی: ۱۰ دقیقه

فارسی و نگارش فارسی

فارسی: صفحه‌های ۲ تا ۹ کتاب درسی / نگارش فارسی: صفحه‌های ۹ تا ۱۹ کتاب درسی

۳۱- معنای کدام واژه نادرست بیان شده است؟

- (۱) مونس: همدم
(۲) دانا: عالم
(۳) پند: نصیحت
(۴) سر آغاز: پایان

۳۲- به پایان چه تعداد از کلمات زیر می‌توانیم «ای» اضافه کنیم؟

«خانه - ماه - شهر - نماینده - دانه - سیاه - دوره - کلاه»

- (۱) چهار
(۲) سه
(۳) پنج
(۴) دو

۳۳- املاي کدام واژه نادرست است؟

- (۱) غافل
(۲) بانظم
(۳) سپاس‌گذار
(۴) احوال‌پرسی

۳۴- در کدام گزینه، یک یا هر دو کلمه‌ی بیان شده به تشدید نیاز ندارند؟

- (۱) اره - بچه
(۲) سکه - قرمز
(۳) تشکر - مکه
(۴) دقت - اول

۳۵- عبارت کدام گزینه، بیت زیر را به درستی کامل می‌کند؟

«پندت دهم فراوان /

- (۱) من یار پنددانم
(۲) با آن که بی‌زبانم
(۳) من یار مهربانم
(۴) دانا و خوش‌بیانم





«آزمون ۲۱ مهر» - دوم دبستان



۳۶- ساختار کلمه‌ی کدام گزینه مانند «هم فکر» نیست؟

- (۱) هم گروه
(۲) همیشه
(۳) همراه
(۴) همدل

۳۷- صورت مرتب‌شده‌ی کلمات زیر در کدام گزینه به‌درستی بیان شده است؟

«صابون - شست - با - دست‌هایش - را - علی»

- (۱) علی شست دست‌هایش را با صابون.
(۲) دست‌هایش را شست با صابون علی.
(۳) علی دست‌هایش را شست.
(۴) علی دست‌هایش را با صابون شست.

۳۸- اگر کلمات زیر را به دو دسته‌ی نوشیدنی‌ها و خوردنی‌ها تقسیم کنیم، چند کلمه در دسته‌ی نوشیدنی‌ها قرار می‌گیرند؟

«دوغ - گوجه‌سبز - کیک - آب - بستنی - شکلات - شربت»

- (۱) سه
(۲) چهار
(۳) یک
(۴) دو

۳۹- عبارت کدام گزینه بیانگر این مفهوم است که شاعر همه‌ی کارهای خود را با نام و یاد خدا آغاز می‌کند؟

- (۱) من دوستی هنرمند
(۲) بی‌نام تو، نامه کی کنم باز
(۳) ای یاد تو مونس روانم
(۴) جز نام تو، نیست بر زبانه

۴۰- با توجه به درس «کتاب‌خانه‌ی کلاس ما»، کدام گزینه نادرست است؟

- (۱) در آخر کتاب فارسی، نام کتاب‌های مناسبی آورده شده است.
(۲) کتاب خوب را پس از هم‌فکری با بزرگ‌ترها انتخاب می‌کنیم.
(۳) همه‌ی نوشته‌ها در رایانه، کتاب‌ها و مجله‌ها برای کودکان مفید است.
(۴) کتاب خوب مانند دوست خوب است که می‌تواند به ما خیلی کمک کند.

