

# دفترچه سؤال

## دوم دبستان

۵ آبان ۱۴۰۲

تعداد کل سؤالات عادی: ۴۰ سؤال

مدت پاسخ‌گویی به آزمون: ۵۵ دقیقه

نام درس	تعداد سؤال	شماره‌ی سؤال	وقت پیشنهادی	برنامه‌ی آزمون
ریاضی	۱۰	۱-۱۰	۱۵ دقیقه	<b>عدد و رقم</b> (عدد و شمارش، ... دسته‌های ده تایی و یکی) (جمع و تفریق، ... شمارش چند تا چند تا) صفحه‌ی ۱ تا ۱۸
علوم	۱۰	۱۱-۲۰	۱۵ دقیقه	<b>زنگ علوم</b> <b>هوای سالم، آب سالم</b> (تا آخر آب رودخانه) صفحه‌ی ۱۲ تا ۱۸
علوم (آشنا)	۱۰	۲۱-۳۰	۱۵ دقیقه	<b>زنگ علوم</b> <b>هوای سالم، آب سالم</b> (تا آخر آب رودخانه) صفحه‌ی ۱۲ تا ۱۸
فارسی	۱۰	۳۱-۴۰	۱۰ دقیقه	<b>ستایش و کتابخانه‌ی کلاس ما</b> <b>مسجد محله‌ی ما</b> (از اول درس تا صفحه‌ی ۱۱) فارسی: صفحه‌ی ۲ تا ۱۱ نگارش فارسی: صفحه‌ی ۹ تا ۲۰ تمرین ۱ و ۲

بنیاد علمی آموزشی قلم‌چی (وقف عام)

دفتر مرکزی: خیابان انقلاب - بین صبا و فلسطین - پلاک ۹۲۳ - تلفن: ۶۴۶۳ - ۰۲۱

## سؤال‌های عادی

دوست فوبم:

در درس های ریاضی، علوم و فارسی ۱۰ سوال ابتدای دفترچه طرح نو(طراحی شده) هستند و با توجه به برنامه‌ی راهبردی فود هر آزمون در یک درس ۱۰ سوال منتفب از کتاب های سه سطحی (سوال های آشنا) داریم.  
با پاسخ گویی به این دو نوع سوال ها، می توانید ارزیابی بهتری از یادگیری فودتان داشته باشید.

مجموعاً در این دفترچه ۴۰ سوال قرار دارد که پاسخ گویی به این سوالات اجباری است.

گروه آزمون

بنیاد علمی آموزشی قلمچی (وقف عام)

## آزمون ۵ آبان - دوم دبستان

دانش آموز عزیز:

در آزمون قبل به چند سؤال از ۱۰ سؤال پاسخ درست دادی؟  
فکر می‌کنی در این آزمون به چند سؤال از ۱۰ سؤال پاسخ خواهی داد؟ در جدول زیر بنویس

چند از ۱۰ آزمون قبل	هدف‌گذاری چند از ۱۰ برای آزمون امروز

زمان پاسخ‌گویی: ۱۵ دقیقه

ریاضی - صفحه‌های ۱ تا ۱۸ کتاب درسی

۱- محسن یک کتاب از کتابخانه خریده است که ۷۸ صفحه دارد. او روز اول ۲۰ صفحه و روز دوم ۱۰ صفحه

دیگر از کتاب را خواند. محسن الان چند صفحه از کتابش را نخوانده است؟

- |        |        |
|--------|--------|
| ۱۰ (۱) | ۳۰ (۲) |
| ۳۸ (۳) | ۴۸ (۴) |

۲- با اعداد (۳) و (صفر) چند عدد دو رقمی می‌توانیم بنویسیم که عددهای آن تکراری نباشند؟

- |       |       |
|-------|-------|
| ۱ (۱) | ۲ (۲) |
| ۳ (۳) | ۴ (۴) |

۳- عددی دو رقمی داریم که یکان آن سه تا بیش‌تر از عدد ۴ و دهگان آن بین اعداد ۵ و ۷ است؛ آن عدد کدام

است؟

- |        |        |
|--------|--------|
| ۴۵ (۱) | ۵۷ (۲) |
| ۶۷ (۳) | ۱۳ (۴) |

۴- محسن ۳۴ تا کتاب دارد. ۱۲ تای آن‌ها، کتاب‌های علمی هستند. ۹ تای دیگر از نوع داستانی هستند و بقیه‌ی

کتاب‌ها تاریخی می‌باشند. او چند کتاب تاریخی دارد؟

- |        |        |
|--------|--------|
| ۲۳ (۱) | ۱۴ (۲) |
| ۱۵ (۳) | ۱۳ (۴) |

۵- امروز روز هفدهم ماه است. ۸ روز قبل چه روزی از ماه بوده است؟

- |          |              |
|----------|--------------|
| هشتم (۱) | ۲ نهم (۲)    |
| دهم (۳)  | ۴ یازدهم (۴) |

## «آزمون ۵ آبان» - دوم دبستان



۶- حاصل کدام عبارت از بقیه کم تر است؟

$$13 - 4 \quad (2)$$

$$12 - 6 \quad (1)$$

$$15 - 11 \quad (4)$$

$$2 + 5 \quad (3)$$

۷- اگر از رقم یکان عدد نهم الگوی روبه‌رو ۳ تا کم کنیم، تبدیل به چه عددی می‌شود؟ ۴، ۸، ۱۲، ....

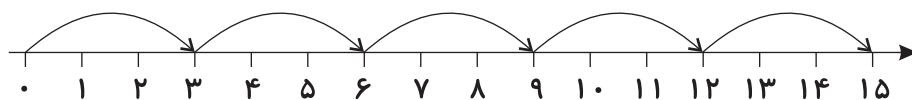
$$33 \quad (2)$$

$$36 \quad (1)$$

$$29 \quad (4)$$

$$6 \quad (3)$$

۸- الگوی مربوط به محور زیر کدام است؟



$$0, 3, 6, 12, 15 \quad (1)$$

$$1, 3, 6, 9, 12, 15 \quad (2)$$

$$3, 6, 9, 12 \quad (3)$$

$$0, 3, 6, 9, 12, 15 \quad (4)$$

۹- در شمارش ۷ تا ۷ تا، عدد چهارم بعد از ۲۱ در کدام گزینه آمده است؟

$$42 \quad (2)$$

$$49 \quad (1)$$

$$53 \quad (4)$$

$$50 \quad (3)$$

۱۰- حاصل جمع کدام دو عدد زیر برابر با ۹ نیست؟

$$4 \text{ و } 5 \quad (2)$$

$$2 \text{ و } 7 \quad (1)$$

$$3 \text{ و } 6 \quad (4)$$

$$1 \text{ و } 7 \quad (3)$$



## آزمون ۵ آبان - دوم دبستان

دانش آموز عزیز:

در آزمون قبل به چند سؤال از ۱۰ سؤال پاسخ درست دادی؟  
فکر می‌کنی در این آزمون به چند سؤال از ۱۰ سؤال پاسخ خواهی داد؟ در جدول زیر بنویس

چند از ۱۰ آزمون قبل	هدف‌گذاری چند از ۱۰ برای آزمون امروز
---------------------	--------------------------------------

زمان پاسخ‌گویی: ۱۵ دقیقه

علوم - صفحه‌های ۱۲ تا ۱۸ کتاب درسی

۱۱- بوییدن کدام مورد برای سلامتی مضر نیست؟

- (۱) سفید کننده سطوح  
(۲) بنزین  
(۳) عرق نعنا  
(۴) لکه‌بر لباس

۱۲- چه کسی می‌تواند مشاهدات خود را دقیق‌تر بیان کند؟

- (۱) کسی که درباره‌ی مشاهدات خود با دوستانش مشورت می‌کند.  
(۲) کسی که مشاهدات خود را یادداشت می‌کند.  
(۳) کسی که مشاهدات خود را کاملاً به خاطر می‌سپارد.  
(۴) کسی که مشاهده را با حوصله‌ی زیاد انجام داده است.

۱۳- اگر بخواهیم گنجشک‌ها به مدت طولانی‌تر زندگی کنند، باید کدام کار را انجام ندهیم؟


- (۱) با دوچرخه به مدرسه برویم.  
(۲) کارخانه‌ای در شهر بسازیم.  
(۳) همراه با دوستانمان درخت بکاریم.  
(۴) از اتوبوس استفاده کنیم.

۱۴- کدام یک از موارد زیر، باعث آلودگی آب رودخانه‌ها نمی‌شود؟

- (۱) سموم کشاورزی  
(۲) پاکت پفک  
(۳) نان باگت  
(۴) بطری نوشابه

۱۵- کدام گزینه صحیح است؟

- (۱) همه‌ی کارهای انسان آب رودخانه را آلوده می‌کند.  
(۲) آلوده شدن آب‌ها تأثیر زیادی بر زندگی ماهی‌ها ندارد.  
(۳) آب برخی رودخانه‌ها قابل آشامیدن است.  
(۴) درخت، آلودگی هوا را کاهش می‌دهد.



۱۶- کدام کار باعث آلودگی هوا می شود؟



۱۷- کدام یک از موارد زیر باعث مرگ انبوهی از ماهی ها می شود؟



(جمع کردن زباله های آب)



(تخلیه ی فاضلاب به رودخانه)



(شستن فرش در آب رودخانه)

(۴) گزینه های «۱» و «۳»

۱۸- برای حس چشایی از چه اندامی استفاده می شود؟

۱۹- کدام مورد اگر در گردش علمی رعایت نشود، مشکلی ندارد؟

(۱) مشاهده

(۲) اجازه گرفتن از معلم برای بوییدن و چشیدن چیزهای اطراف

(۳) تقسیم شدن به گروه های ۳ نفری به جای ۴ نفری

(۴) یادداشت برداری

۲۰- در فرایند تماشای یک فیلم برای درک کامل فیلم از کدام حواس استفاده می شود؟

(۲) لامسه - بینایی

(۱) چشایی - شنوایی

(۴) شنوایی - بویایی

(۳) بینایی - شنوایی



## آزمون ۵ آبان - دوم دبستان

دانش آموز عزیز:

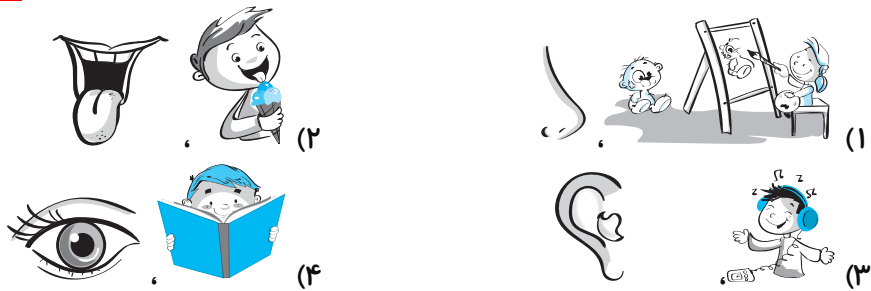
در آزمون قبل به چند سؤال از ۱۰ سؤال پاسخ درست دادی؟  
فکر می‌کنی در این آزمون به چند سؤال از ۱۰ سؤال پاسخ خواهی داد؟ در جدول زیر بنویس.

چند از ۱۰ آزمون قبل	هدفگذاری چند از ۱۰ برای آزمون امروز

زمان پاسخ‌گویی: ۱۵ دقیقه

علوم آشنا (گواه) - صفحه‌های ۱۲ تا ۱۸ کتاب درسی

۲۱- در کدام گزینه حس به کار برده شده، مربوط به کاری که در تصویر انجام می‌شود، نیست؟



۲۲- چرا نمی‌توانیم از بوییدن و چشیدن، برای تشخیص همه‌ی مواد موجود در باغ استفاده کنیم؟

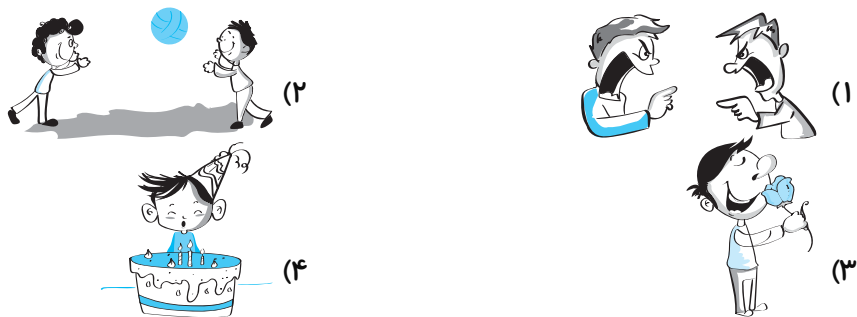
- (۱) چون بوییدن و چشیدن بعضی چیزها برای سلامتی ضرر دارد.
- (۲) چون همه‌ی مواد بو ندارند.
- (۳) چون به آن‌ها نور تابیده شده است.
- (۴) چون با آب کثیف آبیاری شده‌اند.

۲۳- دانش‌آموزان دبستان صدرا برای گردش علمی به یک باغ وحش می‌روند. علی با کمک معلم خود در حال

بررسی بدن میمون‌ها است. محسن مشغول صحبت با دوستانش است. رضا به غذا خوردن اردک‌ها نگاه می‌کند.  
کدام یک از دانش‌آموزان در حال مشاهده کردن هستند؟

- (۱) فقط رضا      (۲) علی و محسن      (۳) علی و رضا      (۴) محسن و رضا

۲۴- کدام گزینه نشان‌دهنده‌ی مشاهده‌ی علمی است؟





## «آزمون ۵ آبان» - دوم دبستان



۲۵- با توجه به متن کتاب درسی، وقتی با دوستان خود به گردش علمی در باغ می‌روید، اولین کاری که باید انجام دهید، کدام است؟

- (۱) بازی کردن  
(۲) مشاهده‌ی دقیق  
(۳) صحبت کردن  
(۴) یادداشت کردن

۲۶- در یک بطری شفاف دود ایجاد کرده‌ایم. کدام گزینه صحیح است؟

- (۱) آبی که روی دود ریخته شود، کمی تغییر رنگ می‌دهد.  
(۲) تمام دود ایجاد شده به دیواره‌های بطری می‌چسبد.  
(۳) اگر در بطری بسته باشد و سپس باز شود، دود خارج نمی‌شود.  
(۴) در بطری دود ایجاد نمی‌شود.


۲۷- کدام مکان از نظر آب و هوا برای زندگی پرندگان بهتر است؟

- (۱) شهرک صنعتی اراک  
(۲) شهرهای بزرگ  
(۳) رشت  
(۴) تهران

۲۸- کدام گزینه تأثیرات هوای آلوده نیست؟

- (۱) به‌وجود آمدن انواع بیماری‌ها  
(۲) زشت شدن چهره‌ی شهر  
(۳) از بین رفتن حیوانات  
(۴) شلوغ شدن شهر

۲۹- با وارد شدن فاضلاب منازل و یا کارخانه‌ها به رودخانه، کدام جانور زودتر از بین می‌رود؟



۳۰- کدام یک از گزینه‌های زیر درباره‌ی آب رودخانه درست است؟

- (۱) برای انسان بهداشتی و قابل آشامیدن است.  
(۲) برای انسان بهداشتی و قابل آشامیدن نیست.  
(۳) برای انسان بهداشتی است اما قابل آشامیدن نیست.  
(۴) نمی‌توان در این مورد نظر داد.





## «آزمون ۵ آبان» - دوم دبستان

دانش آموز عزیز:

در آزمون قبل به چند سؤال از ۱۰ سؤال پاسخ درست دادی؟  
فکر می‌کنی در این آزمون به چند سؤال از ۱۰ سؤال پاسخ خواهی داد؟ در جدول زیر بنویس.

چند از ۱۰ آزمون قبل	هدفگذاری چند از ۱۰ برای آزمون امروز
---------------------	-------------------------------------

فارسی

زمان پاسخ‌گویی: ۱۰ دقیقه

فارسی: صفحه‌های ۲ تا ۱۱ کتاب درسی - نگارش فارسی: صفحه‌های ۹ تا ۲۰ (تمرین ۱ و ۲) کتاب درسی

۳۱- اگر کلمات زیر را به دو دسته‌ی نوشیدنی‌ها و خوردنی‌ها تقسیم کنیم، چند کلمه در دسته‌ی نوشیدنی‌ها قرار می‌گیرند؟

«دوغ - گوجه‌سبز - کیک - آب - بستنی - شکلات - شربت»

سه (۱)	چهار (۲)	یک (۳)	دو (۴)
--------	----------	--------	--------

۳۲- معنی کلمه‌ی کدام گزینه، نادرست بیان شده است؟

(۱) مونس: همدم	(۲) مفید: سودمند
(۳) هم‌فکری: مشورت	(۴) نشاط: امید

۳۳- چه تعداد از کلمات زیر به تشدید نیاز دارند؟

«موفق - آشنا - جهنم - آسان - ملت - سر و صدا - اتفاق - مقوا»

پنج (۱)	سه (۲)
چهار (۳)	شش (۴)

۳۴- کلمات کدام گزینه به ترتیب جاهای خالی شعر زیر را کامل می‌کنند؟

«گویم سخن فراوان / با آن که .....

پندت دهم فراوان / من .....

(۱) بی‌زیانم - دوست	(۲) بی‌زیانم - دوست
(۳) بی‌زیانم - یار	(۴) بی‌زیانم - یار

۳۵- صورت مرتب‌شده‌ی کلمات زیر در کدام گزینه به درستی بیان شده است؟

«مسلمانان / است / قرآن / کتاب»

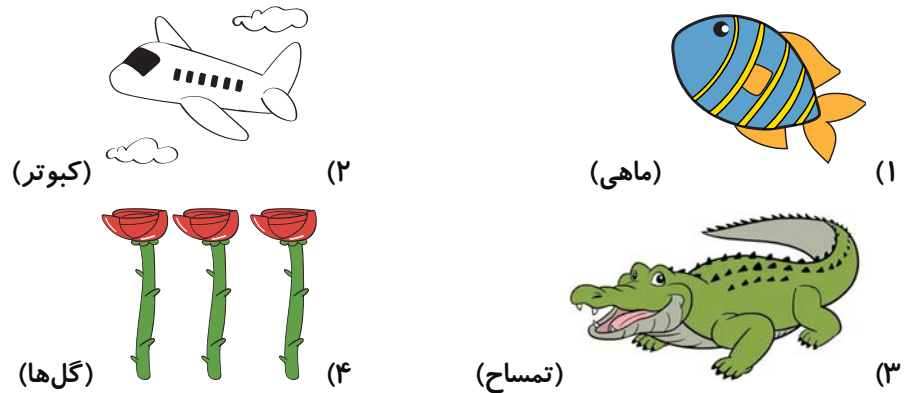
(۱) مسلمانان کتاب قرآن است.	(۲) قرآن کتاب مسلمانان است.
(۳) کتاب قرآن مسلمانان است.	(۴) مسلمانان قرآن کتاب است.



۳۶- در کدام گزینه نادرستی املایی وجود دارد؟

- (۱) سپاس گزار - طرف  
(۲) بانظم - احوال پرسی  
(۳) هوض - جماعت  
(۴) غافل - چراغانی

۳۷- نام تصویر کدام گزینه، درست بیان نشده است؟



۳۸- ترتیب نوشته شدن حروف الفبا در کدام گزینه کاملاً درست است؟

- (۱) ت - پ - ج - چ  
(۲) س - ش - ر - ژ  
(۳) ط - ظ - ص - ض  
(۴) ق - ک - گ - ل

۳۹- مفهوم عبارت کدام گزینه با شعر زیر ارتباط دارد؟

«ای نام تو بهترین سرآغاز / بی نام تو، نامه کی کنم باز»

- (۱) خدایا من از تو یاری می‌خواهم تا در درس‌هایم موفق باشم.  
(۲) پروردگارا به من کمک کن، تا فرزندی خوب برای کشورم باشم.  
(۳) نام و یاد خداوند بهترین نام برای شروع هر کاری است.  
(۴) نام خداوند به من شادی و نشاط می‌بخشد.

۴۰- با توجه به درس «مسجد محله‌ی ما»، کدام گزینه نادرست است؟

- (۱) در مسجد محله، فقط کلاس‌های آموزش قرآن برگزار می‌شد.  
(۲) کار بنایی مسجد تازه تمام شده بود.  
(۳) پیش‌نماز از همه‌ی کسانی که در ساخت مسجد، کمک کرده بودند، تشکر کرد.  
(۴) مهدی می‌خواست در یکی از کلاس‌های مسجد شرکت کند.

