

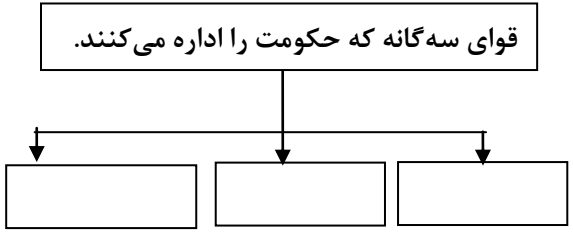
نام و نام خانوادگی:
 پایه و رشته: -----
 نام پدر:
 شماره داوطلب:

اداره کل آموزش و پرورش شهر تهران
 مدیریت منطقه ۲
 دبیرستان دوره اول پسرانه *سروش* مرزداران
 امتحانات نوبت دوم سال تحصیلی ۹۶-۱۳۹۵

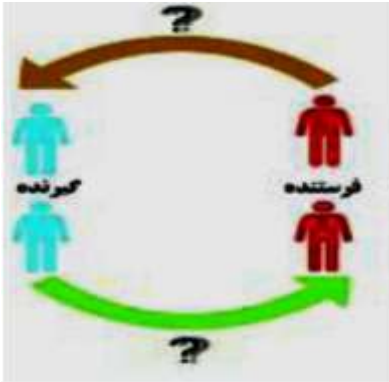
نام درس:
 تاریخ امتحان:
 ساعت امتحان: صبح
 مدت امتحان: دقیقه.

محل مهر و امضاء مدیر	نمره به عدد:	نمره به حروف:	نمره تجدید نظر به عدد:	نمره به حروف:
	نام دبیر:	تاریخ و امضاء:	نام دبیر:	تاریخ و امضاء:
ردیف	سوالات	بارم		

بخش اختیاری: فصل ۱ تا آخر فصل ۶ دانش آموز آموزان عزیز لطفاً در این بخش فقط دو فصل را انتخاب کنید و به سوالات همان دو فصل پاسخ دهید.

فصل اول	۰/۵	۱- به زبان ساده یعنی همکاری و یاری رساندن به یکدیگر. الف) انفاق <input type="checkbox"/> ب) وقف <input type="checkbox"/> ج) تعاون <input type="checkbox"/> د) همزیستی <input type="checkbox"/>
	۰/۵	۲- من چیستم؟ «هدف من حل مشکلات اقتصادی و زندگی و رفاه بهتر مردم است و حداقل با ۷ عضو رسمیت پیدا می-کنم».
	۰/۵	۳- به اموال و دارایی‌هایی که می شود موقوفات گفته می شود.
فصل دوم	۰/۷۵	۴- نمودار مقابل را تکمیل کنید. قوای سه گانه که حکومت را اداره می کنند. 
	۰/۲۵	۵- صلاحیت داوطلبان انتخابات ریاست جمهوری توسط تأیید می شود.
	۰/۵	۶- سوالات صحیح- غلط الف- هیئت دولت از رئیس جمهور، معاونان و وزیران تشکیل می شود. ب- بیشترین میزان درآمدهای دولت، درآمدهای مالیاتی است. صحیح <input type="checkbox"/> غلط <input type="checkbox"/> صحیح <input type="checkbox"/> غلط <input type="checkbox"/>
فصل سوم	۰/۵	۷- این نهاد پشتیبان حقوق فردی و اجتماعی افراد است. الف) قوه قضاییه <input type="checkbox"/> ب) قوه مجریه <input type="checkbox"/> ج) قوه مقننه <input type="checkbox"/> د) مجلس شورای اسلامی <input type="checkbox"/>
	۰/۵	۸- حدس بزن. الف- به تغییرات جسمانی افراد در دوره نوجوانی گفته می شود. () ب- نتیجه کنترل یا مهار نکردن خشم است. ()
	۰/۵	۹- به طور کلی دَعَاوی ای که در دادگاهها طرح می شوند، به دو دسته تقسیم می شوند، با مطالعه‌ی گزینه‌های الف و ب، نوع هر یک از این دعاوی را مقابل آن بنویسید. الف) فردی با غضب عنوان پزشکی اقدام به مداوای بیماران کرده است و اکنون در زندان به سر می برد. (دعاوی) ب) فردی پس از خروج از مغازه ندانسته درب شیشه‌ای آن را شکسته و اکنون باید خسارت بپردازد. (دعاوی)

۱۰- تکمیل شکل (به موارد خواسته شده در هر شکل پاسخ دهید).
 الف) به جای علامت سؤال واژه مناسب را بنویسید.
 ب) برداشت خود را از کاریکاتور زیر در یک جمله بنویسید.



شکل (الف)



شکل (ب)

۱۱- هر وسیله‌ای که پیامی را از فرستنده به گیرنده منتقل کند، نام دارد. ۰/۵

۱۲- نخستین شهدای را اسلام چه کسانی بودند؟

الف) سمیه و یاسر ب) بلال و ابوذر ج) خدیجه و علی(ع) د) مالک اشتر و عمار ۰/۲۵

۱۳- در ماجرای سقیفه چه کسی به عنوان جانشین پیامبر انتخاب شد؟

الف) علی(ع) ب) ابوبکر ج) عُمَر د) عُثمان ۰/۲۵

۱۴- نخستین فرد ایرانی که در مدینه به حضور پیامبر رسید و به اسلام گروید بود. ۰/۲۵

۱۵- حدس بزن (هر مورد ۰/۵ نمره)

با اندکی دقت به سوالات زیر پاسخ دهید.

الف) اگر نیرنگ عمروعاص نبود، حضرت علی(ع) در این جنگ پیروز می‌شد. ←

ب) به گروهی از مسلمانان گفته می‌شود که با پیامبر پیمان بستند و وی را یاری کردند. ←

ج) این فرموده پیامبر به کدام واقعه اشاره دارد؟ : «ای مردم، هر کس که من پیشوای او هستم، پس علی نیز پیشوای اوست». ←

۱۶- بنیانگذار سلسله‌های ایرانی طاهریان و سامانیان به ترتیب چه کسانی بودند؟ ۰/۵

۱۷- جاهای خالی را تکمیل کنید.

الف- آخرین پادشاه ساسانی بود که به دست آسیابانی در مرو به قتل رسید. ۰/۲۵

ب- مشهورترین فرمانروای آل بویه نام داشت. ۰/۲۵

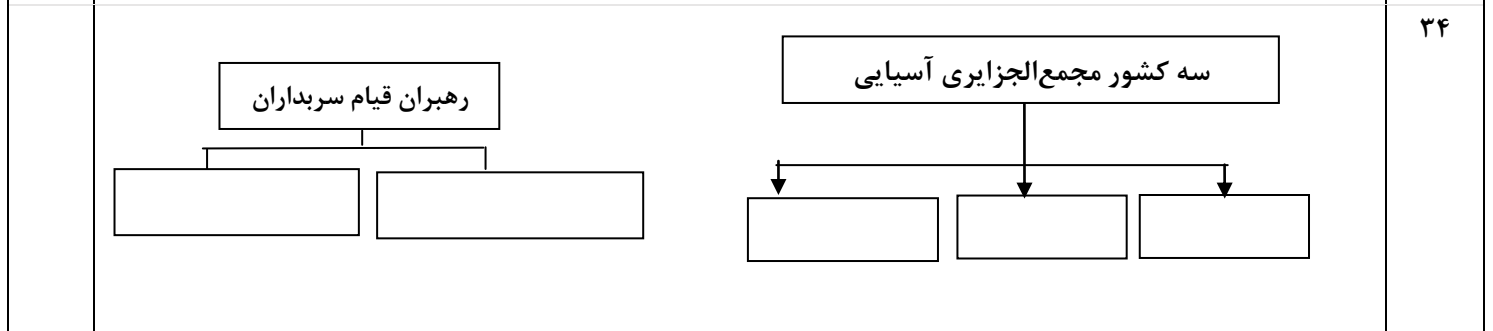
۱۸- امام علی(ع) در جنگ جمل پیمان‌شکنان را شکست داد. ۰/۵

صحیح غلط

ردیف	بخش اجباری: فصل ۷ تا آخر فصل ۱۲ دانش‌آموزآموزان عزیز در این بخش به همه سوالات پاسخ دهید.	بارم
الف	سوالات صحیح- غلط (۱۹ تا ۲۲)	۲
۱۹	از اوایل قرن چهارم تا اواخر قرن هفتم هجری، سه سلسله ترک‌تبار در ایران حکومت کردند. صحیح <input type="checkbox"/> غلط <input type="checkbox"/>	۰/۵
۲۰	حکومت شیعه مذهب آل بویه را طغرل سلجوقی برانداخت. صحیح <input type="checkbox"/> غلط <input type="checkbox"/>	۰/۵
۲۱	خواجه نظام‌الملک وزیر آل ارسلان و ملکشاه بود. صحیح <input type="checkbox"/> غلط <input type="checkbox"/>	۰/۵
۲۲	لشکرکشی‌های محمودغزنوی به هندوستان، به بهانه کسب ثروت و در اصل برای رواج اسلام بود. صحیح <input type="checkbox"/> غلط <input type="checkbox"/>	۰/۵
ب	سوالات چهارگزینه‌ای (۲۳ تا ۲۸)	۳
۲۳	کدام یک از سلسله‌های زیر ترک‌تبار نیست؟ الف) غزنویان <input type="checkbox"/> ب) سلجوقیان <input type="checkbox"/> ج) طاهریان <input type="checkbox"/> د) خوارزمشاهیان <input type="checkbox"/>	۰/۵
۲۴	خلیفه عباسی لقب «سلطان رکن‌الدین» را به چه کسی داد؟ الف) سلطان مسعود <input type="checkbox"/> ب) آل ارسلان <input type="checkbox"/> ج) ملکشاه <input type="checkbox"/> د) طغرل <input type="checkbox"/>	۰/۵
۲۵	کدام حکومت قدرت و عظمت خود را با سیاست و کفایت وزیران ایرانی به دست آورد؟ الف) غزنویان <input type="checkbox"/> ب) خوارزمشاهیان <input type="checkbox"/> ج) آل بویه <input type="checkbox"/> د) سلجوقیان <input type="checkbox"/>	۰/۵
۲۶	گنبد سلطانیه را چه کسی به عنوان آرامگاه خود بنا کرد؟ الف) خواجه رشیدالدین فضل‌الله <input type="checkbox"/> ب) الجاتیو <input type="checkbox"/> ج) سلطان جلال‌الدین <input type="checkbox"/> د) غازان خان <input type="checkbox"/>	۰/۵
۲۷	شاهرخ پسر تیمور این شهر را به عنوان پایتخت تیموریان انتخاب کرد. الف) نظامیه <input type="checkbox"/> ب) سلطانیه <input type="checkbox"/> ج) هرات <input type="checkbox"/> د) سمرقند <input type="checkbox"/>	۰/۵
۲۸	رشته کوه آلپ جنوبی در این کشور قرار دارد. الف) استرالیا <input type="checkbox"/> ب) نیوزیلند <input type="checkbox"/> ج) فرانسه <input type="checkbox"/> د) اسپانیا <input type="checkbox"/>	۰/۵
پ	جاخالی (۲۹ تا ۳۲)	۲
۲۹	هنگامی که حکومت سامانیان به نهایت ضعف و ناتوانی رسید، که حاکم غزنه بود، خراسان را تصرف کرد.	۰/۵
۳۰	مهمترین کتابی که خواجه رشیدالدین فضل‌الله نوشت نام داشت.	۰/۵
۳۱	حکومت تیموریان سرانجام با ظهور حکومت در ایران از میان رفت.	۰/۵
۳۲	پس از مرگ چنگیز یکی از نوادگان وی با نابودی خلافت عباسی حکومت را در ایران تأسیس کرد.	۰/۵

۲	<p>سوالات جور کردنی (۳۳)</p> <p>شماره گزینه مرتبط با هر یک از عبارتهای الف، ب، ج و د را مقابل آن بنویسید (یک گزینه اضافی است).</p> <p>الف) عمیدالملک کندی وزیر این پادشاه بود. ()</p> <p>ب) از دانش آموختگان مدارس نظامیه بود. ()</p> <p>ج) آخرین ایلیخان مغول که پس از مرگ او حکومت ایلیخانان فروپاشید. ()</p> <p>د) مشاور هولاکوخان بود که وی را تشویق به ساختن رصدخانه مراغه کرد. ()</p> <p>۱- امام محمد غزالی</p> <p>۲- ابوسعید</p> <p>۳- خواجه نصیرالدین</p> <p>۴- سعدی</p> <p>۵- طغرل</p>	ت ۳۳
---	---	---------

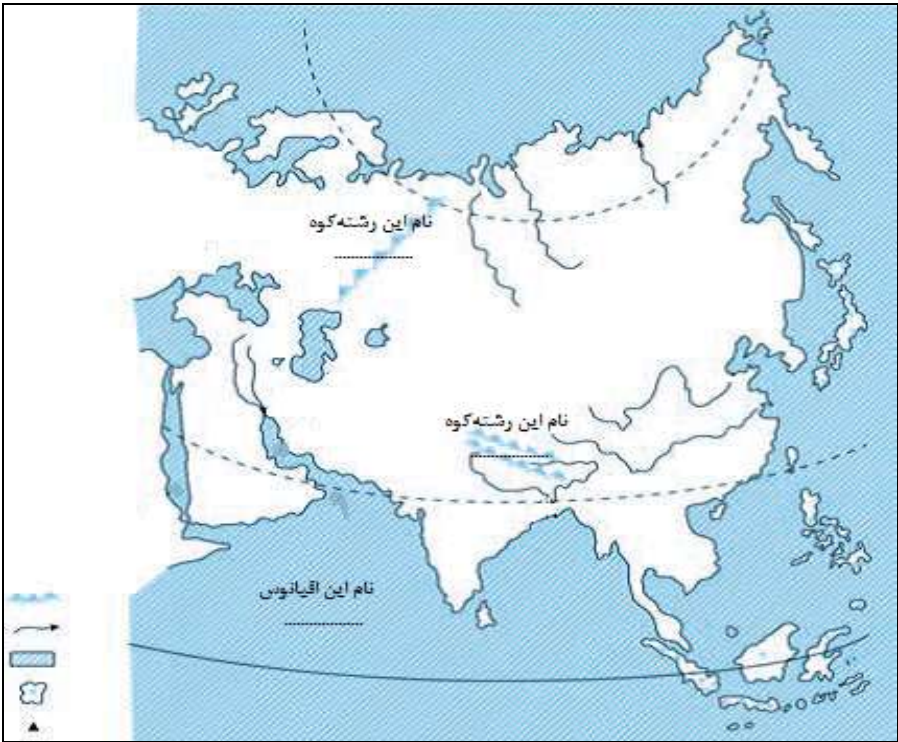
۲/۵	تکمیل نمودار (هر مورد ۰/۵ نمره)	ث
-----	---------------------------------	---

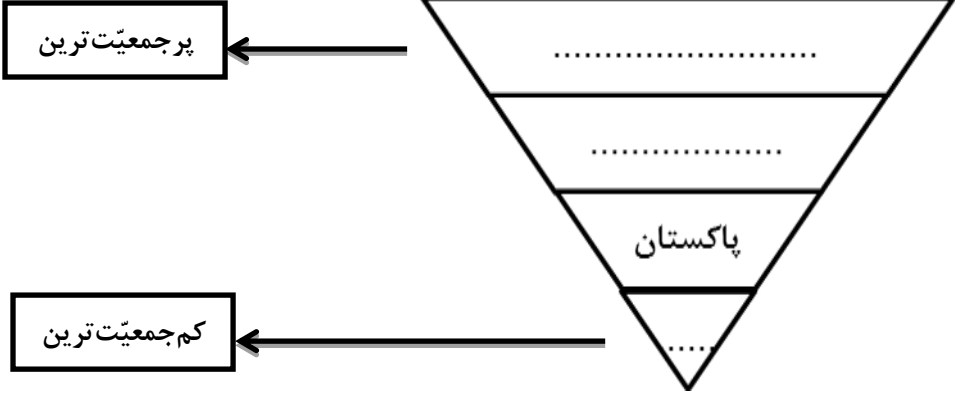



۱	تکمیل جدول (هر مورد ۰/۲۵ نمره)	ج
---	--------------------------------	---

	توضیح	ردیف
پاسخ		
	پربابترین رودخانه دنیا که در آمریکای جنوبی قرار دارد.	۱
	قاره‌ی آسیا از طریق این کانال از قاره‌ی آفریقا جدا می‌شود.	۲
	رهبر مذهبی و روحانی پیروان این مذهب پاپ نام دارد که در واتیکان اقامت دارد.	۳
	نام بیابانی در آمریکای شمالی است.	۴

۰/۷۵	<p>حدس بزن (هر مورد ۰/۲۵ نمره)</p> <p>با اندکی دقت به سوالات زیر پاسخ دهید.</p> <p>الف) بیشتر مسلمانان اروپا در این شبه‌جزیره ساکن هستند. ←</p> <p>ب) پیروان آیین برهمنی و بودایی اغلب در این کشور قرار دارند. ←</p> <p>ج) شهری کهن در کشور فلسطین که خاستگاه پیامبران بزرگ بوده است. ←</p>	ج ۳۶
------	---	---------

<p>۰/۵</p>	<p>چیستان(هر مورد ۰/۲۵ نمره)</p> <p>ح ۳۷</p> <p>الف) اسم من چیست؟ «من تو شبه جزیره ی عربستان به دنیا اومدم، طبع گرم و خشکی دارم طوری که کمتر کسی می-تونه در مجاورت من زندگی کنه، خیلیم گندم و حدود ۶۴۰/۰۰۰ کیلومتر مربع یعنی تقریباً ۲/۵ برابر کشور انگلستان وسعت دارم.»</p> <p>ب) اسم من چیست ؟ «هم یه بیابون تو قاره ی استرالیا رو به اسم بنده نام گذاری کردن؛ هم یه آبشار تو قاره ی آفریقا رو ولی الان تو پیام های بازرگانی رادیو و تلویزیون شما می بینید که با اسم من برای جای تبلیغ می کنند.»</p>
<p>۰/۲۵</p>	<p>تکمیل نقشه(هر مورد ۰/۲۵ نمره)</p> <p>خ ۳۸</p> <p>موارد خواسته شده را داخل کادر مربوطه بنویسید.</p> 
<p>۱/۵</p>	<p>تکمیل شکل(۳۹ تا ۴۱)</p> <p>د</p>
<p>۰/۲۵</p>	<p>الف) فلاتهای قاره ی آسیا از غرب به شرق.</p> <p>۳۹</p> <p>آناطولی → ایران → → مغولستان</p>

۰/۷۵	<p>ب) کشورهای آسیایی هند، ایران، چین و پاکستان را از پرجمعیت‌ترین کشور به کم‌جمعیت‌ترین کشور مرتب کنید.</p> 	۴۰
۰/۵	<p>ج) اوراسیا حاصل ترکیب این دو قاره است.</p> 	۴۱
۱	<p>سوالات تشریحی (۴۲ تا ۴۳)</p>	۵
۰/۵	<p>دو سانحه طبیعی را که کشورهای مجمع‌الجزایر آسیا با آن مواجه‌اند را بنویسید.</p>	۴۲
۰/۵	<p>دو بندر مهم استرالیا که صنایع کشتی‌سازی و صنایع شیمیایی در آنها رونق دارد را بنویسید.</p>	۴۳
۲۰ نمره	<p>پیروز و سربلند باشید! «سیدهادی کریمی»</p>	۴۳ سوال

نام و نام خانوادگی:

پایه و رشته:

نام پدر:

شماره داوطلب:

اداره کل آموزش و پرورش شهر تهران
 مدیریت منطقه ۲
 دبیرستان دوره اول پسرانه *سرکدویش* مرزداران
 امتحانات نوبت دوم سال تحصیلی ۹۶-۱۳۹۵

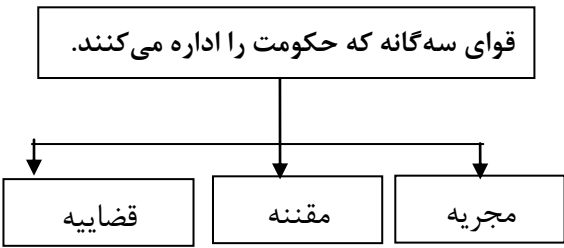
نام درس: -----

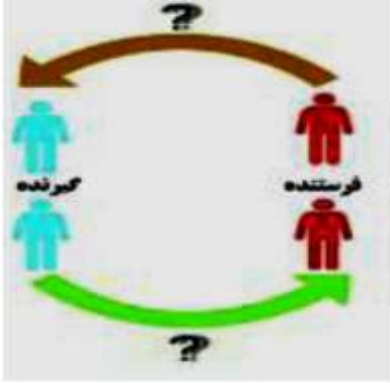
تاریخ امتحان: --/--/۱۳۹۵

ساعت امتحان: -- صبح

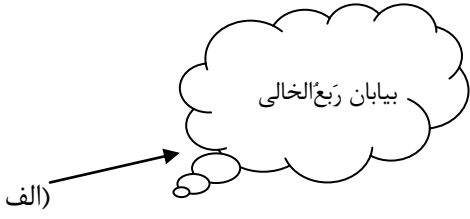

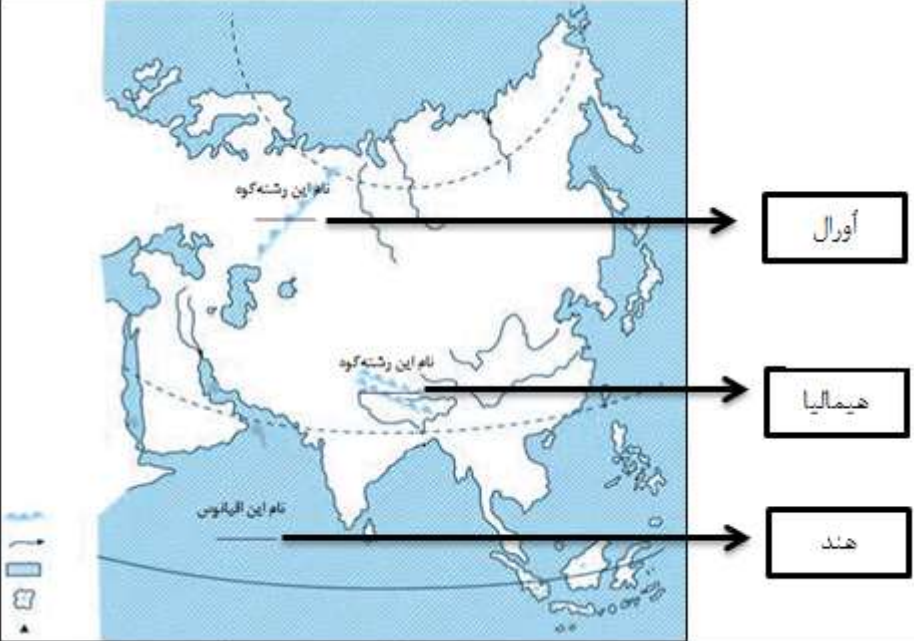
مدت امتحان: دقیقه.

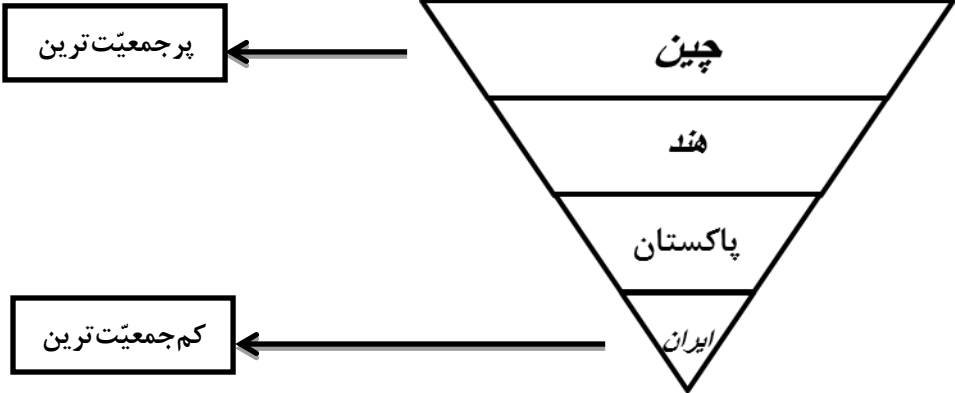

کلید امتحان

ردیف	سؤالات	بارم
فصل اول	۱- گزینه ج	۰/۱۵
	۲- شرکت تعاونی	۰/۱۵
	۳- وقف	۰/۱۵
فصل دوم	۴- <div style="border: 1px solid black; padding: 5px; text-align: center;"> قوای سه‌گانه که حکومت را اداره می‌کنند. </div> 	۰/۷۵
	۵- شورای نگهبان	۰/۲۵
	۶- الف) غلط ب) صحیح	۰/۲۵ ۰/۲۵
فصل سوم	۷- گزینه الف	۰/۱۵
	۸- الف) بلوغ ب) عصبانیت	۰/۱۵
	۹- الف) کیفی ب) حقوقی	۰/۱۵

۱	<p>پیام</p>  <p>بازخورد شکل (الف)</p>	<p>۱۰- الف) به جای علامت سؤال واژه مناسب را بنویسید. ب) برداشت خود را از کاریکاتور زیر در یک جمله بنویسید.</p>  <p>ب) بیانگر آثار منفی وسایل ارتباطی بر روابط میان اعضای خانواده و کودکان است. شکل (ب)</p>	فصل چهارم
۰/۱۵		۱۱- رسانه	فصل پنجم
۰/۲۵		۱۲- گزینه الف	
۰/۲۵		۱۳- گزینه ب	
۰/۲۵		۱۴- سلمان فارسی	
۰/۱۷۵		<p>۱۵- الف) جنگ صفین ب) انصار ج) غدیر خم</p>	فصل ششم
۰/۱۵		۱۶- طاهر ذوالیمینین - امیر اسماعیل سامانی	
۰/۲۵		۱۷- الف) یزدگرد سوم	
۰/۲۵		ب) عضدالدوله	
۰/۱۵		۱۸- صحیح	الف
۲		سوالات صحیح- غلط (۱۹ تا ۲۲)	
۰/۱۵		۱۹ غلط	
۰/۱۵		۲۰ صحیح	
۰/۱۵		۲۱ صحیح	
۰/۱۵		۲۲ غلط	
۳		سوالات چهارگزینه‌ای (۲۳ تا ۲۸)	
۰/۱۵		۲۳ گزینه ج	الف

۰/۵		گزینه د	۲۴															
۰/۵		گزینه د	۲۵															
۰/۵		گزینه ب	۲۶															
۰/۵		گزینه ج	۲۷															
۰/۵		گزینه ب	۲۸															
۲		جاخالی (۲۹ تا ۳۲)	پ															
۰/۵		سلطان محمود غزنوی	۲۹															
۰/۵		جامع التواریخ رشیدی	۳۰															
۰/۵		صفویان	۳۱															
۰/۵		ایلخانان	۳۲															
۲			ت															
		الف) (۵) ب) (۴) ج) (۲) د) (۳)	۳۳															
۲/۵		تکمیل نمودار (هر مورد ۰/۵ نمره)	ث															
			۳۴															
۱		تکمیل جدول (هر مورد ۰/۲۵ نمره)	ج															
		<table border="1"> <thead> <tr> <th>ردیف</th> <th>توضیح</th> <th>پاسخ</th> </tr> </thead> <tbody> <tr> <td>۱</td> <td>پرآب‌ترین رودخانه دنیا که در آمریکای جنوبی قرار دارد.</td> <td>آمازون</td> </tr> <tr> <td>۲</td> <td>قاره‌ی آسیا از طریق این کانال از قاره‌ی آفریقا جدا می‌شود.</td> <td>سوئز</td> </tr> <tr> <td>۳</td> <td>رهبر مذهبی و روحانی پیروان این مذهب پاپ نام دارد که در واتیکان اقامت دارد.</td> <td>کاتولیک</td> </tr> <tr> <td>۴</td> <td>نام بیابانی در آمریکای شمالی است.</td> <td>نوادا</td> </tr> </tbody> </table>	ردیف	توضیح	پاسخ	۱	پرآب‌ترین رودخانه دنیا که در آمریکای جنوبی قرار دارد.	آمازون	۲	قاره‌ی آسیا از طریق این کانال از قاره‌ی آفریقا جدا می‌شود.	سوئز	۳	رهبر مذهبی و روحانی پیروان این مذهب پاپ نام دارد که در واتیکان اقامت دارد.	کاتولیک	۴	نام بیابانی در آمریکای شمالی است.	نوادا	۳۵
ردیف	توضیح	پاسخ																
۱	پرآب‌ترین رودخانه دنیا که در آمریکای جنوبی قرار دارد.	آمازون																
۲	قاره‌ی آسیا از طریق این کانال از قاره‌ی آفریقا جدا می‌شود.	سوئز																
۳	رهبر مذهبی و روحانی پیروان این مذهب پاپ نام دارد که در واتیکان اقامت دارد.	کاتولیک																
۴	نام بیابانی در آمریکای شمالی است.	نوادا																
۰/۷۵		الف) بالکان ب) هند	چ ۳۶															

		ج) اورشلیم		
۰/۵	بیابان رِبَع الخالی	چستان (هر مورد ۰/۲۵ نمره)	ح ۳۷	
	الف) 	ب) 		
۰/۷۵		تکمیل نقشه (هر مورد ۰/۲۵ نمره) موارد خواسته شده را داخل کادر مربوطه بنویسید.	خ ۳۸	
				
۱/۵		تکمیل شکل (۳۹ تا ۴۱)	د	
۰/۲۵	اناتولی	ایران	تبت	مغولستان
۰/۷۵		الف) فلاتهای قاره‌ی آسیا از غرب به شرق. ب) کشورهای آسیایی هند، ایران، چین و پاکستان را از پرجمعیت‌ترین کشور به کم جمعیت‌ترین کشور مرتب کنید.	۳۹ ۴۰	

		
۰/۵	<p>ج) اوراسیا حاصل ترکیب این دو قاره است.</p> 	۴۱
۱		ذ سوالات تشریحی (۴۲ تا ۴۳)
۰/۵	<p>۲ مورد از موارد ذیل:</p> <p>(۱) زمین لرزه (زلزله) (۲) سونامی (۳) آتشفشان</p>	۴۲
۰/۵		۴۳ سیدنی و ملبورن
۲۰ نمره	<p>«سیدهای کریمی» پیروز و سربلند باشید!</p>	۴۳ سؤال