

بخش اختیاری: فصل ۱ تا آخر فصل ۶ دانش‌آموز آموزان عزیز لطفاً در این بخش فقط دو فصل را انتخاب کنید و به سوالات همان دو فصل پاسخ دهید.	
فصل اول	۰/۲۵ ۱- مهمترین حق برای هر انسان چیست؟ الف) غذا <input type="checkbox"/> ب) تحصیل <input type="checkbox"/> ج) حیات <input type="checkbox"/> د) مسکن <input type="checkbox"/>
	۰/۲۵ ۲- وظایفی که هر یک از ما به عهده داریم و انتظار می‌رود آنها را انجام دهیم، چه نام دارد؟ الف) حقوق <input type="checkbox"/> ب) تحصیل <input type="checkbox"/> ج) مسئولیت <input type="checkbox"/> د) مشق <input type="checkbox"/>
	۰/۲۵ ۳- چه چیزی موجب می‌شود، افراد حقوقی بر مبنای قوانین آن کشور داشته باشند. الف) اهل جایی بودن <input type="checkbox"/> ب) تبعه جایی بودن <input type="checkbox"/> ج) ساکن جایی بودن <input type="checkbox"/> د) مسافر جایی بودن <input type="checkbox"/>
	۰/۲۵ ۴- ما تا آنجا می‌توانیم حق خود را اعمال کنیم که ..... قانون نباشد.
	۰/۲۵ ۵- ما در روابطی که با دیگران برقرار می‌کنیم دارای «.....» هستیم.
	۰/۲۵ ۶- چیزهایی که انسان به دلیل مقام انسانی‌اش، شایستگی داشتن آنها را دارد، چه نام دارد؟
فصل دوم	۰/۲۵ ۷- یکی از مهمترین دلایل پدید آمدن قوانین و مقررات در جامعه، برقراری نظم است. صحیح <input type="checkbox"/> غلط <input type="checkbox"/>
	۰/۲۵ ۸- قانون اساسی مادر همه قانون‌هاست و سایر قوانین در چارچوب آن تصویب می‌شوند. صحیح <input type="checkbox"/> غلط <input type="checkbox"/>
	۰/۲۵ ۹- هیچ‌کس نباید با کفش وارد نمازخانه و مسجد شود، این عبارت مربوط به کدام گزینه است؟ الف) قرارداد اجتماعی <input type="checkbox"/> ب) دستور مذهبی <input type="checkbox"/> ج) قانون <input type="checkbox"/> د) شعار سیاسی <input type="checkbox"/>
	۰/۲۵ ۱۰- قانون اساسی توسط این نهاد نوشته شد. الف) مجلس خبرگان <input type="checkbox"/> ب) مجلس شورای اسلامی <input type="checkbox"/> ج) شورای نگهبان <input type="checkbox"/> د) قوه مقننه <input type="checkbox"/>
	۰/۲۵ ۱۱- این نهاد بر انتخاباتی که در کشور برگزار می‌شود مانند انتخابات ریاست جمهوری و مجلس شورای اسلامی، نظارت می‌کند. الف) شورای نگهبان <input type="checkbox"/> ب) مجلس خبرگان <input type="checkbox"/> ج) قوه مجریه <input type="checkbox"/> د) قوه قضاییه <input type="checkbox"/>
	۰/۲۵ ۱۲- مهمترین قانون هر کشور قانون ..... آن کشور است.
فصل سوم	۰/۲۵ ۱۳- این موسسه در زمان وقوع حوادث طبیعی یا جنگ‌ها به کمک مردم می‌شتابد. ( )
	۰/۲۵ ۱۴- این موسسه برای جبران زیان‌های مالی و جانی به وجود آمده است. ( )
	۰/۲۵ ۱۵- حدس بزن (هر مورد ۰/۵ نمره) با اندکی دقت به سوالات زیر پاسخ دهید. الف) یک قرارداد بین بیمه‌گر و بیمه‌شونده (بیمه‌گذار) است. ← <input type="text"/>
	۰/۲۵ ب) این مفهوم به این معناست که خود را به جای فرد دچار حادثه شده بگذاریم و احساس و شرایط او را درک کنیم. → <input type="text"/>

بخش اختیاری: فصل ۱ تا آخر فصل ۶ دانش‌آموز آموزان عزیز لطفاً در این بخش فقط دو فصل را انتخاب کنید و به سوالات همان دو فصل پاسخ دهید.	
۰/۲۵	۱- مهمترین حق برای هر انسان چیست؟ الف) غذا <input type="checkbox"/> ب) تحصیل <input type="checkbox"/> ج) حیات <input type="checkbox"/> د) مسکن <input type="checkbox"/>
۰/۲۵	۲- وظایفی که هر یک از ما به عهده داریم و انتظار می‌رود آنها را انجام دهیم، چه نام دارد؟ الف) حقوق <input type="checkbox"/> ب) تحصیل <input type="checkbox"/> ج) مسئولیت <input type="checkbox"/> د) مشق <input type="checkbox"/>
۰/۲۵	۳- چه چیزی موجب می‌شود، افراد حقوقی بر مبنای قوانین آن کشور داشته باشند. الف) اهل جایی بودن <input type="checkbox"/> ب) تبعه جایی بودن <input type="checkbox"/> ج) ساکن جایی بودن <input type="checkbox"/> د) مسافر جایی بودن <input type="checkbox"/>
۰/۲۵	۴- ما تا آنجا می‌توانیم حق خود را اعمال کنیم که ..... قانون نباشد.
۰/۲۵	۵- ما در روابطی که با دیگران برقرار می‌کنیم دارای «.....» هستیم.
۰/۲۵	۶- چیزهایی که انسان به دلیل مقام انسانی‌اش، شایستگی داشتن آنها را دارد، چه نام دارد؟
۰/۲۵	۷- یکی از مهمترین دلایل پدید آمدن قوانین و مقررات در جامعه، برقراری نظم است. صحیح <input type="checkbox"/> غلط <input type="checkbox"/>
۰/۲۵	۸- قانون اساسی مادر همه قانون‌هاست و سایر قوانین در چارچوب آن تصویب می‌شوند. صحیح <input type="checkbox"/> غلط <input type="checkbox"/>
۰/۲۵	۹- هیچ‌کس نباید با کفش وارد نمازخانه و مسجد شود، این عبارت مربوط به کدام گزینه است؟ الف) قرارداد اجتماعی <input type="checkbox"/> ب) دستور مذهبی <input type="checkbox"/> ج) قانون <input type="checkbox"/> د) شعار سیاسی <input type="checkbox"/>
۰/۲۵	۱۰- قانون اساسی توسط این نهاد نوشته شد.
۰/۵	۱۶- نوع بیمه‌های زیر را مشخص کنید. (اختیاری یا اجباری بودن) الف) بیمه وسایل نقلیه ( ) ب) بیمه عمر ( )
۰/۵	۱۷- چیستان - من کیستم؟ «خیلی زود تحت تأثیر آگهی‌های تبلیغاتی یا مدگرایی قرار می‌گیرم و اغلب برای تفریح یا خودنمایی و چشم و هم‌چشمی با دیگران کالایی را می‌خرم.» ( )
۰/۲۵	۱۸- نمودار مقابل را تکمیل نمایید. <div style="text-align: center;">سه گروه عمده فعالیت‌های اقتصادی</div> 
۰/۲۵	۱۹- تولید محصول به منظور رفع ..... صورت می‌گیرد.
۰/۵	۲۰- چیستان - من کیستم؟ «وسیله‌ای مهم در علم جغرافیا هستیم در واقع تصویری افقی از سطح زمین هستیم که به نسبت مورد نیاز کوچک شده‌ام.» ( )
۱	۲۱- تکمیل مُدل: روی مُدل کنار شماره‌ها کلمه‌ی دشت، کوهپایه، قله و رشته‌کوه را بنویسید. (هر مورد ۰/۲۵ نمره). 

فصل اول

فصل دوم

فصل چهارم

فصل پنجم

ردیف	بخش اجباری: فصل ۷ تا آخر فصل ۱۲ دانش‌آموز آموزان عزیز در این بخش به همه سوالات پاسخ دهید.	بارم
الف	سوالات صحیح- غلط ( ۲۷ تا ۳۰ )	۱
۲۷	در برخی کشورها مانند سوئد و نروژ تعداد زاد و ولدها کمتر از مرگ و میرها شده است. صحیح <input type="checkbox"/> غلط <input type="checkbox"/>	۰/۲۵
۲۸	آب و خاک از منابع محدود هستند. صحیح <input type="checkbox"/> غلط <input type="checkbox"/>	۰/۲۵
۲۹	تنها رود قابل کشتیرانی در ایران، رود کارون است. صحیح <input type="checkbox"/> غلط <input type="checkbox"/>	۰/۲۵
۳۰	به نسبت مساحت یک جا به نسبت افرادی که در آنجا زندگی می‌کنند، تراکم جمعیت گویند. صحیح <input type="checkbox"/> غلط <input type="checkbox"/>	۰/۲۵
ب	سوالات چهارگزینه‌ای (۳۱ تا ۳۶)	۱/۵
۳۱	تراکم جمعیت ایران در سال ۱۳۹۰ حدود چند نفر در کیلومتر مربع بوده است؟ الف) ۲۶ نفر <input type="checkbox"/> ب) ۶۴ نفر <input type="checkbox"/> ج) ۴۶ نفر <input type="checkbox"/> د) ۶۲ نفر <input type="checkbox"/>	۰/۲۵
۳۲	دلیل جمعیت زیاد ناحیه خوزستان در کدام گزینه آمده است؟ الف) سازمانهای مهم دولتی <input type="checkbox"/> ب) آب فراوان <input type="checkbox"/> ج) داشتن معادن و ذخایر <input type="checkbox"/> د) خاک حاصلخیز <input type="checkbox"/>	۰/۲۵
۳۳	کدام گزینه با بقیه متفاوت است؟ الف) رود <input type="checkbox"/> ب) چاه <input type="checkbox"/> ج) چشمه <input type="checkbox"/> د) قنات <input type="checkbox"/>	۰/۲۵
۳۴	طبق آمار سالیانه حدود ۱۷ میلیون نفر به این شهر سفر می‌کنند. الف) اصفهان <input type="checkbox"/> ب) تهران <input type="checkbox"/> ج) مشهد <input type="checkbox"/> د) شیراز <input type="checkbox"/>	۰/۲۵
۳۵	از نظر جمعیتی ایران در مقایسه با کشورهای همسایه چگونه کشوری است؟ الف) کم جمعیت <input type="checkbox"/> ب) پرجمعیت <input type="checkbox"/> ج) نسبتاً کم جمعیت <input type="checkbox"/> د) نسبتاً پرجمعیت <input type="checkbox"/>	۰/۲۵
۳۶	کاهش جمعیت جوان و افزایش سالمندان حاصل کدام فرایند رشد جمعیتی است؟ الف) رشد منفی <input type="checkbox"/> ب) رشد مثبت <input type="checkbox"/> ج) رشد ثابت <input type="checkbox"/> د) رشد خنثی <input type="checkbox"/>	۰/۲۵
پ	جاخالی (۳۷ تا ۴۰)	۱
۳۷	..... لایه‌ی نازکی از پوسته زمین است که از خرد شدن پوسته زمین به وجود آمده است.	۰/۲۵
۳۸	سواحل خلیج فارس و دریای عمان در زمستان‌ها از مراکز مهم ..... هستند.	۰/۲۵
۳۹	آرامگاه علامه محمد تقی جعفری و ..... در جوار مرقد مطهر امام رضا(ع) قرار دارد.	۰/۲۵
۴۰	اگر تعداد افرادی که متولد می‌شوند کمتر از افرادی باشد که می‌میرند، جمعیت ..... می‌یابد.	۰/۲۵

۲/۵	<p>سوالات جورکردنی (۴۱)</p> <p>شماره گزینه مرتبط با هر یک از عبارتهای الف، ب، ج، د و ه را مقابل آن بنویسید (یک گزینه اضافی است).</p> <p>الف) آخرین حکومت ایران باستان ( )</p> <p>ب) نخستین امپراتوری جهانی ( )</p> <p>ج) حکومتی بیگانه در ایران باستان ( )</p> <p>د) قوم پارت این حکومت را تشکیل دادند. ( )</p> <p>ه) نخستین حکومت اریایی در ایران ( )</p> <p>۱- مادها</p> <p>۲- سلوکیان</p> <p>۳- هخامنشیان</p> <p>۴- ساسانیان</p> <p>۵- اشکانیان</p> <p>۶- پارسها</p>	ت ۴۱															
۲/۵	تکمیل نمودار (هر مورد ۰/۵ نمره)	ث															
	<p>گروه‌های ستی جمعیت</p> <p>۲ پیامبر که در بین‌النهرین ظهور کردند.</p> 	۴۲															
۱	تکمیل جدول (هر مورد ۰/۲۵ نمره)	ج															
	<table border="1" data-bbox="293 1142 1317 1472"> <thead> <tr> <th>ردیف</th> <th>توضیح</th> <th>پاسخ</th> </tr> </thead> <tbody> <tr> <td>۱</td> <td>این سازمان مسئولیت سرشماری جمعیت کشورمان را بر عهده دارد.</td> <td></td> </tr> <tr> <td>۲</td> <td>رودهایی که از کوه‌های زاگرس سرچشمه می‌گیرند، به این حوضه آبریز می‌ریزند.</td> <td></td> </tr> <tr> <td>۳</td> <td>این سازمان حفاظت از خاکهای کشورمان را بر عهده دارد.</td> <td></td> </tr> <tr> <td>۴</td> <td>از منابع مهم تأمین آب شهرنشینان و روستاییان است.</td> <td></td> </tr> </tbody> </table>	ردیف	توضیح	پاسخ	۱	این سازمان مسئولیت سرشماری جمعیت کشورمان را بر عهده دارد.		۲	رودهایی که از کوه‌های زاگرس سرچشمه می‌گیرند، به این حوضه آبریز می‌ریزند.		۳	این سازمان حفاظت از خاکهای کشورمان را بر عهده دارد.		۴	از منابع مهم تأمین آب شهرنشینان و روستاییان است.		۴۳
ردیف	توضیح	پاسخ															
۱	این سازمان مسئولیت سرشماری جمعیت کشورمان را بر عهده دارد.																
۲	رودهایی که از کوه‌های زاگرس سرچشمه می‌گیرند، به این حوضه آبریز می‌ریزند.																
۳	این سازمان حفاظت از خاکهای کشورمان را بر عهده دارد.																
۴	از منابع مهم تأمین آب شهرنشینان و روستاییان است.																
۱/۵	<p>حدس بزن (هر مورد ۰/۵ نمره)</p> <p>با اندکی دقت به سوالات زیر پاسخ دهید.</p> <p>الف) این تمدن حدود ۵ هزار سال قبل در نزدیکی شهر زابل کشف شد. ← [ ]</p> <p>ب) این معبد که شهرت جهانی دارد در نزدیکی شوش است. ← [ ]</p> <p>ج) این تمدن حدود ۱۳ سال پیش در کنار هلیل رود کرمان شناسایی شد. ← [ ]</p>	ج ۴۴															

ح  
۴۵

وصل کردنی: شماره مربوط به ردیف‌های الف، ب، ج و د را در ستون «شماره‌ی مربوطه» بنویسید. (هر مورد ۰/۲۵)

۲

ردیف	نام حکومت	شماره مربوطه	شماره	موسس
الف	مادها		۱	کوروش
ب	هخامنشیان		۲	دی‌اکو
ج	اشکانیان		۳	اردشیر بابکان
د	ساسانیان		۴	آرشک

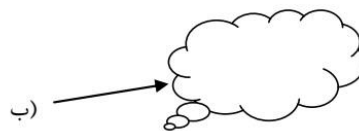
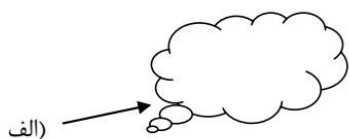
ردیف	نام حکومت	شماره مربوطه	شماره	پایتخت
الف	مادها		۱	گور(فیروزآباد)
ب	هخامنشیان		۲	صدررازه(دامغان)
ج	اشکانیان		۳	بابل
د	ساسانیان		۴	هگمتانه(همدان)

خ  
۴۶

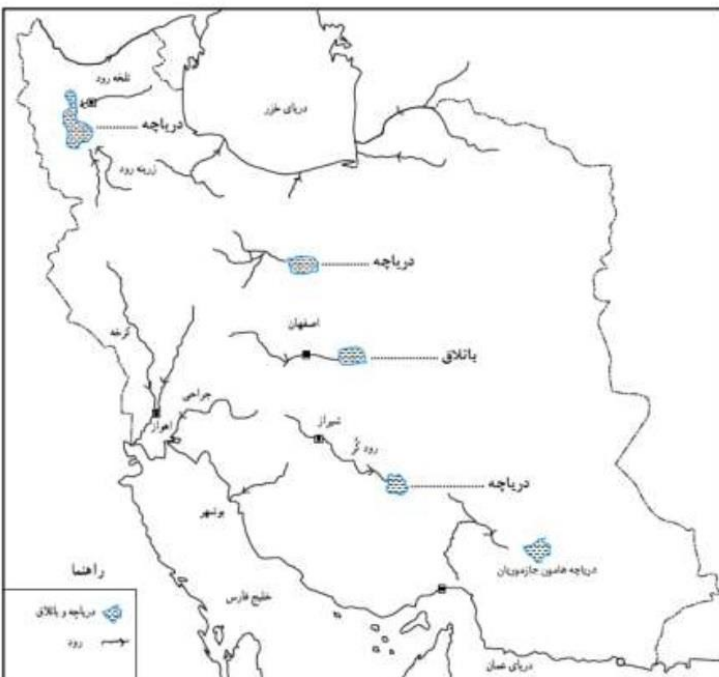
چیستان(هر مورد ۰/۵ نمره)

الف) من کیستم؟ «همین که خبردار شدم هخامنشیان ضعیف و ناتوان شده‌اند، یونانیان را به انتقام‌جویی دعوت کردم و شخصاً همراه سپاهیانم تخت جمشید را به آتش کشیدم».

ب) من چیستم؟ «از جمله منابعی هستم که مورخان برای پی‌بردن به احوال مردم دوره ایران باستان از من استفاده می‌کنند».



۱

۱	<p>تکمیل نقشه: در جای مناسب نام باتلاق و دریاچه‌های خواسته شده را بنویسید. (هر مورد ۰/۲۵ نمره).</p> 	۵ ۴۷
۳	سوالات تشریحی (۴۸ تا ۵۱)	ذ
۰/۵	به طور کلی در دوره ساسانیان جامعه به دو طبقه تقسیم می‌شد، نام این دو طبقه چه بود؟	۴۸
۰/۵	مبدأ تاریخ مسلمانان چیست؟	۴۹
۱	مهمترین رویداد تاریخی کشورمان، ورود اسلام به ایران بود؛ بر این اساس مورخان تاریخ کشورمان را به دو دوره تقسیم کرده‌اند، شرح دهید.	۵۰
۱	<p>در زمان هخامنشیان، ایرانیان باستان چه زبان و خطی داشتند؟ در زمان اشکانیان و ساسانیان چطور؟</p> <p>۱- زبان ایرانیان باستان در زمان هخامنشیان ( )</p> <p>۲- خط ایرانیان باستان در زمان هخامنشیان ( )</p> <p>۳- زبان ایرانیان باستان در دوره اشکانیان و ساسانیان ( )</p> <p>۴- خط ایرانیان باستان در دوره اشکانیان و ساسانیان ( )</p>	۵۱
۲۰ نمره	پیروز و سربلند باشید!	۵۱ سوال