

به نام پروردگار نیکی ها

ارزشیابی مطالعات

دبستان غیر دولتی فردوسی

نام و نام خانوادگی

اردیبهشت ماه ۹۸



پایه ی پنجم

۱- پسر گلم جاهای خالی را با کلمات مناسب پر کن .

الف : پیامبر پس از بعثت ماموریت یافتند که مردم را ..... به دین اسلام دعوت کنند .

ب : مبدا تاریخ مسلمانان ..... می باشد .

پ : در اثر حرکت انتقالی زمین ..... به وجود می آید .

ج : کشورهای ..... و ..... همسایگان شرقی ایران هستند.

د : پر جمعیت ترین ناحیه ی ایران ناحیه ی ..... می باشد.

و : صنایع ..... مواد اولیه ی خود را از منابع تامین می کنند.

ه : ..... بر همه ی فعالیت های سه قوه نظارت کرده و آنها را هدایت می کند.

ن : هلاکو پس از فتح ایران ..... را پایتخت خود قرار داد و حکومت ..... تاسیس کرد .

ی : در قانون اساسی ..... مشخص شده است .

ل : میزان تبخیر و آلودگی آب در ..... کم است .

نادرست درست



۲- پسر مهربانم درستی یا نادرستی عبارت های زیر را مشخص کن .

الف : به کسی که کشتی را هدایت می کند خلبان یا ناخدا می گویند .

ب : رود کارون به دریای خزر می ریزد .

ج : خانه ی کعبه در مسجدالنبی قرار دارد .

د : نفت و گاز مواد اولیه ی کارخانه های پتروشیمی هستند .

ی : نصف النهار مبدا زمین را به دو نیمه ی شرقی و غربی تقسیم می کند .

۳- گزینه ی صحیح را انتخاب کن پسر دانا .

الف : کدام یک از موارد زیر جزء صنایع مادر نیست ؟

ذوب آهن       اتومبیل سازی       پتروشیمی       ماشین سازی

ب : دولت از چه افرادی تشکیل شده است ؟

رئیس جمهور و نمایندگان       رئیس جمهور و وزیران       نمایندگان شورای نگهبان       هیچ کدام

ج : کدام یک جزء واردات ایران نیست ؟

کاغذ       خشکبار       دارو       وسایل برقی

د : مدارس نظامیه در دوران کدام حکومت ساخته شدند ؟

سلجوقیان       غزنویان       صفاریان       سامانیان

و : حکومت خوارزمشاهیان توسط چه کسانی برچیده شد ؟

صفاریان       سامانیان       مغول ها       غزنویان

۴- پسر عزیزم به سوالات پاسخ بده .

الف : نخستین کار پیامبر در شهر مدینه چه بود ؟

ب : جمعیت در یک ناحیه چگونه افزایش می یابد ؟ دو مورد

ج : وظیفه یقوه ی قضائیه چیست ؟

د : راه ها و وسایل حمل و نقل به چند دسته تقسیم می شوند ؟ نام ببر

و : کدام رودها به دریاچه ی ارومیه می ریزند ؟

ن : راه آهن سراسری ایران در کنار خلیج فارس به کدام بندرها مربوط میشود ؟

ل : اسکیموهادر کجا زندگی می کنند و خانه های خود را چگونه می سازند ؟

ه : ماجرای شعب ابی طالب چگونه به پایان رسید ؟

ت : امام حسین ع در مورد دلیل قیام خود چه فرموده اند ؟

ث : برای آبهای ناشی از بارندگی چه اتفاقی می افتد ؟

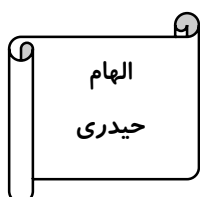
۵ - مفاهیم زیر را تعریف کن پسر م .

مدار :

صادرات :


حرکت چرخشی :


حکومت جمهوری اسلامی :



( موفق باشی پسر مهربانم )







(( زگھواره تا گور دانش بجوی ))

پیامبر ( ص )

( موفق باشی پسر کوشا )

