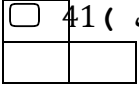
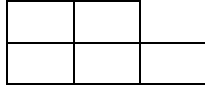



نام درس : ریاضی	باسمه تعالی وزارت آموزش و پرورش کارشناسی سنجش و ارزشیابی تحصیلی ابتدایی مدیریت آموزش و پرورش تاکستان مدرسه ابتدایی غیر انتفاعی بحرالعلوم	تاریخ امتحان : ... / ۱۰ / ۱۴۰۰
طراح سوال :		مدت پاسخگویی : دقیقه
نام دبیر :		پایه و رشته تحصیلی : پنجم
نام و نام خانوادگی : .....		تعداد صفحات : ۲ صفحه
تعداد سوالات : ۸		مهر مدرسه :

ردیف	سوالات
۱-	<p>درست یا نادرست بودن جملات را مشخص کنید .</p> <p>درست <input type="checkbox"/> نادرست <input type="checkbox"/></p> <p>الف ) <math>\frac{5}{8}</math> چهار هزار تومان با تقریب هزارگان ۲۵۰۰ می شود  <input type="checkbox"/> <input type="checkbox"/></p> <p>ب ) هر دو نسبت مساوی یک تناسب را تشکیل می دهد .  <input type="checkbox"/> <input type="checkbox"/></p> <p>ج ) حاصل ضرب هر عدد در برعکس آن همیشه برابر دو است .  <input type="checkbox"/> <input type="checkbox"/></p> <p>د ) در عدد <u>۳۸۷۹۵۴۳۰۳۰۰۴</u> رقم ۹ در دهگان میلیون قرار دارد .  <input type="checkbox"/> <input type="checkbox"/></p>
۲	<p>بهترین پاسخ را با علامت <input checked="" type="checkbox"/> مشخص کنید .</p> <p>۱-۲ : کدام گزینه ساعت ۵ و ۴۷ دقیقه و ۳۸ ثانیه بعد از ظهر را نشان می دهد ؟      الف ) ۴۷ : ۵ : ۳۸ <input type="checkbox"/> ب ) ۳۸ : ۴۷ : ۵ <input type="checkbox"/>      ج ) ۴۷ : ۳۷ : ۵ <input type="checkbox"/> د ) ۳۸ : ۴۷ : ۱۷ <input type="checkbox"/></p> <p>۲-۲ : کدام کسر با بقیه فرق دارد ؟      الف ) <math>\frac{7}{10}</math> <input type="checkbox"/> ب ) <math>\frac{2}{5}</math> <input type="checkbox"/> ج ) <math>\frac{3}{8}</math> <input type="checkbox"/> د ) <math>\frac{7}{2}</math> <input type="checkbox"/></p> <p>۲-۳ : در الگوی مقابل شماره بیستم چه عددی است ؟      الف ) 20 <input type="checkbox"/> ب ) 41 <input type="checkbox"/>      ج ) 40 <input type="checkbox"/> د ) 21 <input type="checkbox"/></p> <p>( ۱ )  ( ۲ )  ( ۳ ) </p>
۳	<p>عدد <u>۴۹۷۸۶۱۲۵۳۷۰</u> را به حروف بنویسید .      الف ) به حروف</p>

نام درس : ریاضی	باسمه تعالی وزارت آموزش و پرورش	تاریخ امتحان : ... / ۱۰ / ۱۴۰۰
طراح سوال :	کارشناسی سنجش و ارزشیابی تحصیلی	مدت پاسخگویی : دقیقه
نام دبیر :	ابتدایی مدیریت آموزش و	پایه و رشته تحصیلی : پنجم
نام و نام خانوادگی : .....	پرورش تاکستان مدرسه ابتدایی غیر	تعداد صفحات : ۲ صفحه
تعداد سوالات : ۸	انتفاعی بحرالعلوم	مهر مدرسه :

ب) ارزش مکانی رقم ۱ چند است ؟ .....

ج) بزرگترین رقم دارای چه ارزش مکانی است ؟ .....

د) صدگان هزار دارای چه رقمی است ؟ .....

۴ قد رامین ۱ متر و ۷۲ سانتی متر و قد خواهرش مبینا ۱ متر و ۴۵ سانتی متر است .  
قد رامین چقدر از خواهرش بلند تر است ؟

۵ حاصل جمع ، تفریق ، ضرب و تقسیم های زیر را بدست آورید . و تا جایی که امکان دارد ساده کنید .

$$\frac{7}{8} - \frac{3}{5} = \dots\dots\dots$$

$$1\frac{2}{5} + 2\frac{2}{3} = \dots\dots\dots$$

$$4\frac{5}{8} - 4\frac{2}{12} = \dots\dots\dots$$

$$\frac{32}{16} \times \frac{2}{12} \times 2\frac{12}{8} = \dots\dots\dots$$

$$3 \div \frac{1}{5} = \dots\dots\dots$$

نام درس : ریاضی	باسمه تعالی وزارت آموزش و پرورش کارشناسی سنجش و ارزشیابی تحصیلی ابتدایی مدیریت آموزش و پرورش تاکستان مدرسه ابتدایی غیر انتفاعی بحرالعلوم	تاریخ امتحان : ... / ۱۰ / ۱۴۰۰
طراح سوال :		مدت پاسخگویی : دقیقه
نام دبیر :		پایه و رشته تحصیلی : پنجم
نام و نام خانوادگی : .....		تعداد صفحات : ۲ صفحه
تعداد سوالات : ۸		مهر مدرسه :

۶	محمد در یک روز $4\frac{2}{3}$ لیوان چای و علی در یک روز $2\frac{1}{4}$ لیوان چای نوشید . آن ها روی هم چند لیوان چای نوشیده اند ؟
۷	محیط مستطیلی $۲۴۰$ سانتی متر است . نسبت طول به عرض مستطیل $۳$ به $۱$ است . مساحت مستطیل را بدست آورید .
۸	می خواهیم $\frac{3}{4}$ متر روبان را به $۵$ قسمت تقسیم کنیم . اندازه هر تکه چقدر است ؟

موفق باشید .