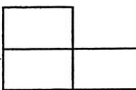
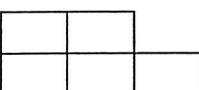
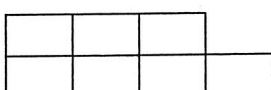


نام درس : ریاضی	باسمه تعالی وزارت آموزش و پرورش	تاریخ امتحان : ... / ۱۰ / ۱۴۰۰
طراح سوال : خانم رادبرجی	کارشناسی سنجش و ارزشیابی تحصیلی	مدت پاسخگویی : دقیقه
نام دبیر : خانم رادبرجی	ابتدایی مدیریت آموزش و	پایه و رشته تحصیلی : پنجم
نام و نام خانوادگی :	پرورش خراسان شمالی مدرسه ابتدایی غیر	تعداد صفحات : ۲ صفحه
تعداد سوالات : ۸	دولتی دخترانه علوم	مهر مدرسه :

ردیف	سوالات
۱-	<p>درست یا نادرست بودن جملات را مشخص کنید .</p> <p>درست</p> <p>الف) $\frac{5}{8}$ چهار هزار تومان با تقریب هزارگان <u>۲۵۰۰</u> می شود <input type="checkbox"/></p> <p>ب) هر دو نسبت مساوی یک تناسب را تشکیل می دهد . <input type="checkbox"/></p> <p>ج) حاصل ضرب هر عدد در برعکس آن همیشه برابر دو است . <input type="checkbox"/></p> <p>د) در عدد <u>۳۸۷۹۵۴۳۰۳۰۰۴</u> رقم <u>۹</u> در دهگان میلیون قرار دارد . <input type="checkbox"/></p>
۲	<p>بهترین پاسخ را با علامت <input checked="" type="checkbox"/> مشخص کنید .</p> <p>۱-۲ : کدام گزینه ساعت <u>۵</u> و <u>۴۷</u> دقیقه و <u>۳۸</u> ثانیه بعد از ظهر را نشان می دهد ؟</p> <p>الف) $۴۷ : ۵ : ۳۸$ <input type="checkbox"/> ب) $۳۸ : ۴۷ : ۵$ <input type="checkbox"/></p> <p>ج) $۴۷ : ۳۷ : ۵$ <input type="checkbox"/> د) $۳۸ : ۴۷ : ۱۷$ <input type="checkbox"/></p> <p>۲-۲ : کدام کسر با بقیه فرق دارد ؟</p> <p>الف) $\frac{7}{10}$ <input type="checkbox"/> ب) $\frac{2}{5}$ <input type="checkbox"/> ج) $\frac{3}{8}$ <input type="checkbox"/></p> <p>د) $\frac{7}{2}$ <input type="checkbox"/></p> <p>۲-۳ : در الگوی مقابل شماره بیستم چه عددی است ؟</p> <p>الف) 20 <input type="checkbox"/> ب) 41 <input type="checkbox"/></p> <p>ج) 40 <input type="checkbox"/></p> <p>د) 21 <input type="checkbox"/></p> <p>(۱) (۲) (۳)</p>

نام درس : ریاضی	باسمه تعالی	تاریخ امتحان : ... / ۱۰ / ۱۴۰۰
طراح سوال : خانم رادبرجی	وزارت آموزش و پرورش	مدت پاسخگویی : دقیقه
نام دبیر : خانم رادبرجی	کارشناسی سنجش و ارزشیابی تحصیلی ابتدایی	پایه و رشته تحصیلی : پنجم
نام و نام خانوادگی :	مدیریت آموزش و پرورش خراسان شمالی	تعداد صفحات : ۲ صفحه
تعداد سوالات : ۸	مدرسه ابتدایی غیر دولتی دخترانه علوم	مهر مدرسه :

ردیف	سوالات
۱-	<p>درست یا نادرست بودن جملات را مشخص کنید .</p> <p>الف) $\frac{5}{8}$ چهار هزار تومان با تقریب هزارگان ۲۵۰۰ می شود <input type="checkbox"/></p> <p>ب) هر دو نسبت مساوی یک تناسب را تشکیل می دهد . <input checked="" type="checkbox"/></p> <p>ج) حاصل ضرب هر عدد در برعکس آن همیشه برابر دو است . <input type="checkbox"/></p> <p>د) در عدد ۳۸۷۹۵۴۳۰۳۰۰۴ رقم ۹ در دهگان میلیون قرار دارد . <input type="checkbox"/></p> <p>نادرست <input checked="" type="checkbox"/></p>
۲	<p>بهترین پاسخ را با علامت <input checked="" type="checkbox"/> مشخص کنید .</p> <p>۲-۱: کدام گزینه ساعت ۵ و ۴۷ دقیقه و ۳۸ ثانیه بعد از ظهر را نشان می دهد ؟</p> <p>الف) ۳۸ : ۵ : ۴۷ <input type="checkbox"/> ب) ۵ : ۴۷ : ۳۸ <input type="checkbox"/> ج) ۵ : ۳۷ : ۴۷ <input type="checkbox"/> د) ۱۷ : ۴۷ : ۳۸ <input checked="" type="checkbox"/></p> <p>۲-۲: کدام کسر با بقیه فرق دارد ؟</p> <p>الف) $\frac{7}{10}$ <input type="checkbox"/> ب) $\frac{2}{5}$ <input type="checkbox"/> ج) $\frac{3}{8}$ <input type="checkbox"/> د) $\frac{7}{2}$ <input checked="" type="checkbox"/></p> <p>۲-۳: در الگوی مقابل شماره بیستم چه عددی است ؟</p> <p>الف) ۲۰ <input type="checkbox"/> ب) ۴۱ <input checked="" type="checkbox"/> ج) ۴۰ <input type="checkbox"/> د) ۲۱ <input type="checkbox"/></p> <p>(۱)  (۲)  (۳) </p>
۳	<p>عدد ۴۹۷۸۶۱۲۵۳۷۰ را به حروف بنویسید .</p> <p>الف) به حروف <u>چهارون و نه میلیارد و هفت صد و هشتاد و سه میلیون و صد و سی و پنج هزار و سی صد و هفتاد</u></p> <p>ب) ارزش مکانی رقم ۶ چند است ؟ <u>بیلیون</u></p> <p>ج) بزرگترین رقم دارای چه ارزش مکانی است ؟ <u>بیلیارد</u></p> <p>د) صدگان هزار دارای چه رقمی است ؟ <u>یک</u></p>

نام درس : ریاضی	باسمه تعالی	تاریخ امتحان : ... / ۱۰ / ۱۴۰۰
طراح سوال : خانم رادبرجی	وزارت آموزش و پرورش	مدت پاسخگویی : دقیقه
نام دبیر : خانم رادبرجی	کارشناسی سنجش و ارزشیابی تحصیلی ابتدایی	پایه و رشته تحصیلی : پنجم
نام و نام خانوادگی :	مدیریت آموزش و پرورش خراسان شمالی	تعداد صفحات : ۲ صفحه
تعداد سوالات : ۸	مدرسه ابتدایی غیر دولتی دخترانه علوم	مهر مدرسه :

۴	قد رامین ۱ متر و ۷۲ سانتی متر و قد خواهرش مبینا ۱ متر و ۴۵ سانتی متر است . قد رامین چقدر از خواهرش بلند تر است ؟
---	--

$$\begin{array}{r} \text{سانتی متر} \\ ۷۲ \\ - ۴۵ \\ \hline ۲۷ \end{array}$$
 سانی متر

۵	حاصل جمع ، تفریق ، ضرب و تقسیم های زیر را بدست آورید . و تا جایی که امکان دارد ساده کنید .
---	--

$\frac{7}{8} - \frac{3}{5} = \frac{35}{40} - \frac{24}{40} = \frac{11}{40}$
 $1\frac{2}{5} + 2\frac{2}{3} = 1\frac{4}{5} + 2\frac{10}{15} = 3\frac{14}{15} = \frac{41}{15}$
 $4\frac{5}{8} - 4\frac{2}{12} = 4\frac{15}{24} - 4\frac{4}{24} = \frac{11}{24}$
 $\frac{32}{16} \times \frac{2}{12} \times \frac{2}{8} = \frac{32}{16} \times \frac{2}{12} \times \frac{2}{8} = \frac{1}{9} = 1\frac{1}{9}$
 $3 \div \frac{1}{5} = 3 \times 5 = 15$

۶ (ساعت) ۷ (روز) خرداد (ماه)
 ۱۹ (ساعت) ۲۸ (روز)

۶	محمد در یک روز $\frac{2}{3}$ لیوان چای و علی در یک روز $\frac{1}{3}$ لیوان چای نوشید . آن ها روی هم چند لیوان چای نوشیده اند ؟
---	--

$\frac{2}{3} + \frac{1}{3} = \frac{2}{3} + \frac{1}{3} = \frac{3}{3} = 1$

۷	محیط مستطیلی ۲۴۰ سانتی متر است . نسبت طول به عرض مستطیل ۳ به ۱ است . مساحت مستطیل را بدست آورید .
---	---

$90 \times 30 = 2700$ مساحت

۸	می خواهیم $\frac{3}{4}$ متر روبان را به ۵ قسمت تقسیم کنیم . اندازه هر تکه چقدر است ؟
---	--

$\frac{3}{4} \div 5 = \frac{3}{4} \times \frac{1}{5} = \frac{3}{20}$

موفق باشید .