


مدت زمان آزمون:	ساعت شروع آزمون:	نوع آزمون: مداد کاغذی نام آزمون: ریاضی	دبستان غیردولتی ره آورد حویق سال تحصیلی ۱۴۰۰-۱۳۹۹
۴۵ دقیقه			

پایه: پنجم	تاریخ آزمون: ۱۴۰۰/۳/۸	نام و نام خانوادگی آموزگار: سعیده بیرامپور	نام و نام خانوادگی:
------------	-----------------------	--	---------------------

آموختن علم بر هر انسانی واجب است . همانا خداوند علم آموزان را دوست دارد . حضرت رسول اکرم (ص)

۱_ عدد ۳۵۶/۴۸ را وارد جدول ارزش مکانی کنید و به سوالات پاسخ دهید.

الف) عدد ۳ و ۴ چه ارزش مکانی دارند؟

ب) عدد را به حروف بنویسید.

۲_ الگوهای زیر را ادامه دهید.

..... و و و و ۲/۶۰ و ۲/۵۸ و ۲/۵۶

..... و و و و ۱:۳۰ و ۱:۲۷

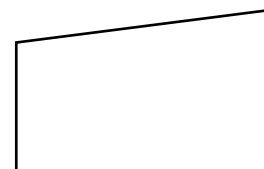
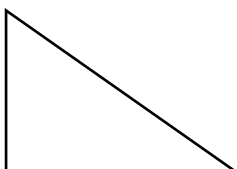
۳- حاصل عبارت های زیر را بدست آورید.

۴- اعداد زیر را ساده کنید.


۵_ زنگ مدرسه ساعت ۷:۴۵:۲۰ زده می شود و دانش آموزان مدت ۴:۲۲:۱۵ در مدرسه می باشند . مدرسه در چه ساعتی

تعطیل می شود؟

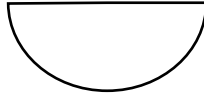
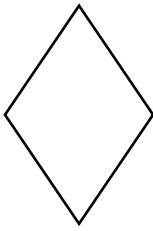
۶_ در شکل های زیر اندازه زاویه مشخص شده را پیدا کنید .



۷_ حجم شکل زیر را به دست آورید .



۸_ محیط و مساحت شکل های زیر را حساب کنید.



۹_ میانگین اعداد زیر را حساب کنید .


۴/۵ و ۵ و ۱۲ و ۱۸ و ۲۰/۵

۱۰_ نمودار ستونی مربوط به جدول رو به رو را رسم کنید .

شهر	تبریز	ساری	شیراز	کرمان
میزان بارندگی	۱۰۰	۱۲۰	۶۰	۵۰

نیاز به تلاش بیشتر	متوسط	خوب	خیلی خوب	انتظارات
				جدول ارزش مکانی و سوالات را به درستی پاسخ می دهد .
				الگوها را به درستی انجام می دهد .
				جمع و ضرب و تقسیم را به درستی انجام می دهد .
				ساده کردن اعداد را به درستی انجام می دهد .
				مسئله ی مربوط به زمان را به درستی انجام می دهند .
				زاویه های خواسته شده را به درستی پیدا می کند .
				حجم شکل را به درستی حساب می کند .
				محیط و مساحت شکل را حساب می کند .
				میانگین را به درستی حساب می کند .
				نمودار ستونی را به درستی رسم می کند .

بازخورد آموزگار :



ضعیف	متوسط	خوب	خیلی خوب	انتظارات

بازخورد آموزگار:

