

# دفترچه سؤال

سوم دبستان

۱۸ آبان ۱۴۰۳

تعداد کل سؤالات عادی: ۵۰ سؤال

مدت پاسخ‌گویی به آزمون: ۶۰ دقیقه

نام درس	تعداد سؤال	شماره‌ی سؤال	وقت پیشنهادی	برنامه‌ی آزمون
ریاضی	۱۰	۱-۱۰	۱۵ دقیقه	الگوها (الگویابی، شمارش چندتا چندتا، ماشین‌های ورودی-خروجی) (ساعت در بعدازظهر، الگوهای متقارن) عددهای چهار رقمی (الگوسازی، معرفی عدد هزار و ارزش مکانی) صفحه‌ی ۳۳ تا ۳۷
علوم	۱۰	۱۱-۲۰	۱۵ دقیقه	زنگ علوم، خوراکی‌ها، اندازه‌گیری مواد، مواد اطراف ما صفحه‌ی ۴۴ تا ۴۷
فارسی	۱۰	۲۱-۳۰	۱۰ دقیقه	ستایش، مملی‌ما، زنگ ورزش، آسمان آبی، طبیعت پاک فارسی: صفحه‌ی ۱۰ تا ۳۵ نگارش فارسی: صفحه‌ی ۸ تا ۲۴
فارسی (سؤال‌های آشنا)	۱۰	۳۱-۴۰	۱۰ دقیقه	ستایش، مملی‌ما، زنگ ورزش، آسمان آبی، طبیعت پاک فارسی: صفحه‌ی ۱۰ تا ۳۵ نگارش فارسی: صفحه‌ی ۸ تا ۲۴
مطالعات اجتماعی	۵	۴۱-۴۵	۵ دقیقه	من به دنیا آمدم، من بزرگ‌تر شده‌ام، آیا ما مثل هم هستیم؟ اعضای خانواده، خانواده‌ام را دوست دارم صفحه‌ی ۱۹ تا ۲۲
هدیه‌های آسمان	۵	۴۶-۵۰	۵ دقیقه	آستین‌های خالی، غروب یک روز بهاری، همیشه با من، در کاخ نمرود صفحه‌ی ۸ تا ۳۱

تعداد کل سؤالات پیشرفته: ۲۰ سؤال

مدت پاسخ‌گویی به آزمون: ۳۰ دقیقه

نام درس	تعداد سؤال	شماره‌ی سؤال	وقت پیشنهادی	برنامه‌ی آزمون
ریاضی پیشرفته	۱۰	۵۱-۶۰	۱۵ دقیقه	الگوها (الگویابی، شمارش چندتا چندتا، ماشین‌های ورودی-خروجی) (ساعت در بعدازظهر، الگوهای متقارن) عددهای چهار رقمی (الگوسازی، معرفی عدد هزار و ارزش مکانی) صفحه‌ی ۳۳ تا ۳۷
علوم پیشرفته	۱۰	۶۱-۷۰	۱۵ دقیقه	زنگ علوم، خوراکی‌ها، اندازه‌گیری مواد، مواد اطراف ما صفحه‌ی ۴۴ تا ۴۷

بنیاد علمی آموزشی قلم‌چی (وقف‌عام)

دفتر مرکزی: خیابان انقلاب - بین صبا و فلسطین - پلاک ۱۲۳ - تلفن: ۰۲۱-۶۴۶۳

## سؤال‌های عادی


دوست فوبم:

در درس‌های ریاضی، علوم و فارسی ۱۰ سؤال ابتدای دفترچه طرح نو (طراحی شده) هستند و با توجه به برنامه‌ی راهبردی فود هر آزمون در یک درس ۱۰ سوال منتخب از کتاب‌های سه سطحی (سوال‌های آشنا) داریم. با پاسخ‌گویی به این دو نوع سؤال‌ها، می‌توانید ارزیابی بهتری از یادگیری فودتان داشته باشید.

مجموعاً در این دفترچه ۵۰ سؤال قرار دارد که پاسخ‌گویی به این سؤال‌ها اجباری است.

گروه آزمون

بنیاد علمی آموزشی قلم‌چی (وقف عام)



## «آزمون ۱۸ آبان» - سوم دبستان



سؤالهایی که با آیکون ✂ مشخص شده‌اند، سؤالهایی هستند که مشابه آن‌ها در امتحانات تشریحی مورد پرسش قرار می‌گیرد.

زمان پاسخ‌گویی: ۱۵ دقیقه

ریاضی - صفحه‌های ۷ تا ۳۳ کتاب درسی

۱- به جای  چه عددی قرار دهیم؟



۳۴۱ (۴)

۲۰۰ (۳)

۳۰۲ (۲)

۳۴۰ (۱)

$$۳+۴+۵+۷+۶+۵+۵=$$

۲- حاصل جمع عبارت روبه‌رو چند است؟

۲۹ (۴)

۳۴ (۳)

۳۰ (۲)

۳۵ (۱)

۳- ✂ نیایش ساعت چهار و نیم بعد از ظهر شروع به مطالعه کرد و تا ساعت ۲۱ به مطالعه‌ی خود ادامه داد. نیایش چند

ساعت مطالعه کرده است؟

۵ ساعت (۲)

۷ ساعت و نیم (۱)

سه ساعت و نیم (۴)

چهار ساعت و نیم (۳)

۴- ✂ سهیل ساعت ۵ بعد از ظهر شروع به حل تمرین‌های ریاضی کرد. بعد از ۱ ساعت سراغ تلویزیون رفت و پس از ۱

ساعت تماشای برنامه‌ی مورد علاقه‌ی خود، بر سر تمرین‌های ریاضی‌اش برگشت. پس از ۱ ساعت تمرین، پدرش

به منزل آمد؛ ۱ ساعت بعد از آمدن پدر از سرکار، آن‌ها شام خوردند. زمان شام خوردن خانواده‌ی سهیل ساعت

..... بود.

۱۹ (۴)

۲۲ (۳)

۲۱ (۲)

۲۰ (۱)

۵- اگر الگوی عددی زیر را به عقب کامل کنیم، اولین عدد این الگو کدام است؟


..... , ..... , ..... , ۴۲ , ۴۹ , ۵۶

۱۴ (۴)

۳۵ (۳)

۲۱ (۲)

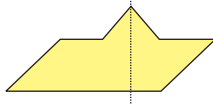
۲۸ (۱)



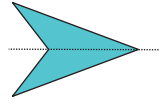


## «آزمون ۱۸ آبان» - سوم دبستان

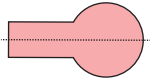
۶- خط تقارن کدام شکل به درستی رسم نشده است؟



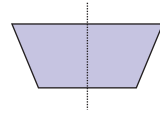
(۲)



(۱)

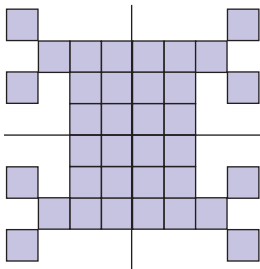


(۴)



(۳)

۷- با توجه به شکل رسم شده، تعداد مربع‌های کوچک چندتا است؟




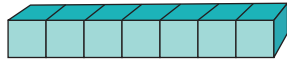
۹ (۱)

۱۸ (۲)

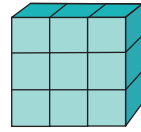
۲۷ (۳)

۳۶ (۴)

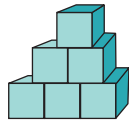
۸- اگر هر  نشان دهنده‌ی عدد ۱۰۰۰ باشد، شکل کدام گزینه از ۹۰۰۰ کم‌تر و از ۷۰۰۰ بیش‌تر است؟



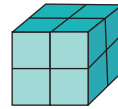
(۲)



(۱)

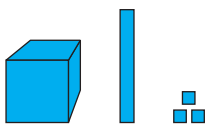


(۴)



(۳)

۹- شکل زیر چه عددی را نشان می‌دهد؟



۱۰۱۳ (۲)

۱۱۳۰ (۱)

۱۱۰۳ (۴)

۱۱۳ (۳)

۱۰- عدد چهار رقمی‌ای که رقم یکان هزارگانش ۸، صدگانش ۲، دهگانش صفر و یکانش ۹ باشد، کدام است؟


۸۲۰۹ (۲)

۸۲۹۰ (۱)

۸۰۹۲ (۴)

۹۸۲۰ (۳)





## «آزمون ۱۸ آبان» - سوم دبستان

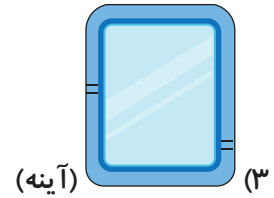

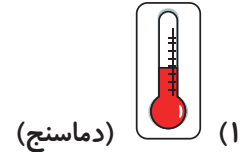


فاز ششم  
پایه آموزش  
نیابتی

زمان پاسخ‌گویی: ۵ دقیقه

علوم - صفحه‌های ۷ تا ۴۴ کتاب درسی

۱۱- در هنگام تحقیق علمی، زهرا مشغول مشاهده و جمع‌آوری اطلاعات بود که با چند جانور کوچک مواجه شد، کدام یک از ابزارهای زیر برای مشاهده‌ی این جانور به کار می‌رود؟ (بهترین گزینه را انتخاب کنید.)



۱۲- جرم اجسامی که سبک هستند، با کدام واحد گزارش می‌شود؟

(۲) گرم

(۱) لیتر

(۴) کیلوگرم

(۳) میلی‌لیتر

۱۳- کدام یک به حالت گاز می‌باشد؟

(۲) کیک

(۱) ژله

(۴) شربت پرتقال

(۳) هوا

۱۴- برای اندازه‌گیری کدام یک از موارد زیر از یکای میلی‌لیتر استفاده می‌شود؟

(۲) حجم مقدار کمی از مایعات

(۱) جرم مایعات

(۴) جرم جامدات

(۳) حجم جامدات

۱۵- رنگ‌های برجسب سلامت خوراکی‌ها کدام‌اند؟

(۲) زرد - سبز - نارنجی

(۱) آبی - سبز - قرمز

(۴) آبی - قرمز - بنفش

(۳) زرد - سبز - قرمز

۱۶- به ترتیب از راست به چپ، کدام غذا در محکم شدن استخوان‌ها و کدام غذا در رشد ما نقش مثبتی ایفا می‌کند؟

(بهترین گزینه انتخاب شود.)

(۲) ماست - تخم‌مرغ

(۱) برنج - نخود و لوبیا

(۴) کره‌ی بادام‌زمینی - گوشت گوسفند

(۳) پنیر - سیب‌زمینی





## «آزمون ۱۸ آبان» - سوم دبستان

۱۷- به ترتیب از راست به چپ، کدام جانوران ۴، صفر و ۲ بال دارند؟

(۱) مگس - پروانه - مورچه

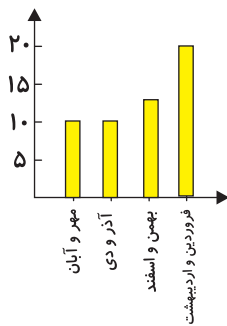
(۲) پروانه - عنکبوت - مگس

(۳) پروانه - مگس - عنکبوت

(۴) عنکبوت - مورچه - مگس

۱۸- علی با کمک مشاور تحصیلی و معلم خود در درس‌ها پیشرفت کرده است. نمودار زیر نمرات او را در ماه‌های سال

تحصیلی نشان می‌دهد. به ترتیب از راست به چپ، در کدام ماه‌ها نمرات او ثابت و در کدام ماه‌ها نمرات بیش‌ترین



پیشرفت را داشته است؟

(۱) مهر و آبان - آذر و دی / فروردین و اردیبهشت

(۲) مهر و آبان - آذر و دی / بهمن و اسفند

(۳) بهمن و اسفند - فروردین و اردیبهشت / فروردین و اردیبهشت

(۴) آذر و دی - بهمن و اسفند / بهمن و اسفند

۱۹- در بشقاب سلامت، کدام گروه از مواد خوراکی زیر سهم کمتری به خود اختصاص می‌دهد؟

(۲) میوه‌ها و سبزی‌ها

(۱) غلات و سیب‌زمینی

(۴) شیر و لبنیات

(۳) گوشت‌ها، تخم‌مرغ و حبوبات

۲۰- کدام دو تغییر حالت‌ها، بین جامد و مایع انجام می‌شوند؟

(۲) ذوب و انجماد

(۱) ذوب و تبخیر

(۴) میعان و انجماد

(۳) تبخیر و میعان





## «آزمون ۱۸ آبان» - سوم دبستان



زمان پاسخ‌گویی: ۱۰ دقیقه

فارسی: صفحه‌های ۱۰ تا ۳۵ کتاب درسی - نگارش فارسی: صفحه‌های ۸ تا ۲۴

۲۱- دسته‌بندی کدام گزینه درست است؟

(۱) شهر: بیمارستان - محله - اتاق

(۲) خانه: آشپزخانه - حیاط - پارک

(۳) مدرسه: کلاس - نمازخانه - کوچه

(۴) خیابان: وسایل نقلیه - چراغ راهنمایی - خط عابر پیاده

۲۲- معنی چه تعداد از واژه‌های زیر درست بیان شده است؟

«کینه: عصبانیت - عظمت: بزرگی - قلّه: قسمت پایین کوه - پیوسته: به دنبال هم - نگریست: نگاه کرد - گویا: زیبا و

خوشایند - بیشه: جنگل - حکیم: انسان باایمان»

(۱) چهار (۲) سه

(۳) دو (۴) پنج

۲۳- در کدام گزینه، کلمه‌ای وجود دارد که با «ان» جمع بسته نشده است؟

(۱) مادران - استادان

(۲) گیاهان - عالمان

(۳) خدایان - نگران

(۴) یاران - دوستان

۲۴- بیت کدام گزینه نادرست است؟

(۱) مادر برای او زود، یک چای تازه آورد / او خسته بود و پایش، انگار درد می‌کرد

(۲) ناگهان قایق را، بر لب ساحل دید / ناگهان بر لب او، گل خنده روید

(۳) کودکی با کاغذ، قایقی کوچک ساخت / قایقش را لب رود، بُرد و در آب انداخت

(۴) با خنده باز از من، پرسید در چه حالی؟ / کردم تشکر از او، گفتم که خوب و عالی





## «آزمون ۱۸ آبان» - سوم دبستان

۲۵- در میان کلمات زیر، چند کلمه از نظر املايي نادرست هستند؟

«یک دفعه - احساس - قوری و سماور - برگذار شدن - مواد غذایی - علاقه - مخصوص - دل صاف - طيب - وهشی»

(۱) سه

(۲) چهار

(۳) دو

(۴) یک

۲۶- در کدام گزینه، هر سه واژه با یکدیگر هم خانواده نیستند؟

(۱) هاجر - مهاجر - هجرت

(۲) سعيد - مسعود - سعادت

(۳) علیم - عامل - معلّم

(۴) محمود - حمید - حامد

۲۷- عبارت کدام گزینه از نظر گفتاری یا نوشتاری بودن، با سایر گزینه‌ها متفاوت است؟

(۱) تماشای قلّه بسیار لذت بخش بود.


(۲) به همه چیز خوب نگاه کنید.

(۳) آسمان آبی و هوا بسیار پاکیزه و تمیز بود.

(۴) اون روز تو صبح دل پذیر بهاری راه افتادیم.







## «آزمون ۱۸ آبان» - سوم دبستان



۲۸- نام پدیدآورنده‌ی کدام اثر نادرست بیان شده است؟

(۱) شعر «خداوند رنگین کمان»: محمود پوروهاب

(۲) شعر «پدربزرگ»: ناصر کشاورز

(۳) داستان «قصه‌ی تنگ بلور»: سوسن طاق‌دیس

(۴) شعر «هم‌بازی»: اسدالله شعبانی

۲۹- با توجه به درس «محله‌ی ما»، علت ناراحتی امید چه بود؟

(۱) چون در کلاس سوم ثبت‌نام کرده بود.

(۲) چون در فوتبال تسلط و مهارت کافی نداشت.

(۳) چون تابستان در حال اتمام بود.

(۴) چون به محله‌ی جدید عادت نداشت و هیچ دوستی در آن‌جا نداشت.

۳۰- با توجه به درس «آسمان آبی، طبیعت پاک»، کدام گزینه نادرست است؟

(۱) ما انسان‌ها باید علاوه بر خانه، محله و شهر خود را هم پاکیزه نگه داریم.

(۲) فقط انسان عادت دارد محیط زندگی خود را پاکیزه نگه دارد.

(۳) ریختن آشغال و زباله در کوچه و خیابان، باعث آلودگی شهر و بیماری دیگران می‌شود.

(۴) اگر به همه چیز خوب نگاه کنیم، زیبایی‌های طبیعت و آفریده‌های خدا را بهتر می‌بینیم.





## «آزمون ۱۸ آبان» - سوم دبستان

زمان پاسخ‌گویی: ۰۰ دقیقه

فارسی آشنای - فارسی: صفحه‌های ۰ تا ۳۵ کتاب درسی - نگارش فارسی: صفحه‌های ۸ تا ۲۴

۳۱- در کدام گزینه، همه‌ی کلمات به درستی معنا شده‌اند؟

(۱) بحث: مشاهده کردن - دلپذیر: پسندیده

(۲) ماهرانه: بامهارت - گزارش: شرح کارهای انجام شده

(۳) حیرت: نگرانی - دلنشین: خوشایند

(۴) صنوبر: نامی برای دختران - صمیمی: شجاع

۳۲- در کدام گزینه، کلمه‌ای وجود دارد که نادرست جمع بسته شده است؟

(۱) خاطرات - لحظات - کتابات

(۲) خاطره‌ها - جانداران - درخت‌ها

(۳) حشرات - روستاها - محله‌ها

(۴) امتحان‌ها - زنبورها - کودکان

۳۳- در کدام گزینه کلمات مخالف بیش‌تری وجود دارد؟

(۱) پدرم میز و صندلی‌ها را در بالا و پایین خانه چید.

(۲) نقاش در اثر خود، جهنم را قرمز و بهشت را سبز کرد.

(۳) تکنولوژی در جامعه‌ی امروز، تحمل دشواری‌ها را آسان‌تر کرده است.

(۴) مردان و زنان ایرانی در داخل و خارج کشور، برای سربلندی ایران تلاش می‌کنند.

۳۴- چه تعداد از کلمات زیر به‌ترتیب به فصل تابستان و چه تعداد به فصل زمستان مربوط هستند؟

«گرما - شنا - برگ‌ریزان - شکوفه‌های درختان - بستنی - شوماز - زنجیر چرخ»

(۱) سه - دو

(۲) سه - سه

(۳) چهار - سه

(۴) چهار - دو

۳۵- بیت کدام گزینه، صحیح است؟

(۱) دیشب پدر بزرگم، آمد به خانه‌ی ما / باز او مرا بغل کرد، بوسید دستانم را

(۲) ناگهان قایق را، با تعجب نگریست / گفت: پس با من هم، یک نفر هم‌بازیست

(۳) در دست پیر او بود، باز آن عصای چوبی / خندید و قلقلک داد، با آن عصا دلم را

(۴) رود، آن قایق را، برد تا جایی دور / کودکی نیز آنجا، داشت می‌کرد مرور





## «آزمون ۱۸ آبان» – سوم دبستان

۳۶- در کدام گزینه، از کلمه‌های گفتاری استفاده شده است؟

- (۱) صدای باد می‌آید و باران بر بام‌های سفالی می‌بارد.
- (۲) پرنده آوازی دلنشین می‌خواند و بهترین نغمه‌های طبیعت، اطرافم را پر کرده است.
- (۳) چقدر سخته که همه‌ی صداها رو می‌شنوم، اما صدای تو رو نمی‌شنوم.
- (۴) معلم گفت: خوشحالم که به پاکیزگی اهمیت می‌دهید.

۳۷- در کدام گزینه، کلمه‌ای وجود دارد که با بقیه‌ی کلمات هم‌خانواده نیست؟

- |                         |                         |
|-------------------------|-------------------------|
| (۱) شاکر - شکر - تشکر   | (۲) کریم - کرامت - مکرم |
| (۳) نظم - منظم - انضباط | (۴) تحریم - حرمت - حرام |

۳۸- با توجه به داستان «قصه‌ی تنگ بلور»، کدام گزینه نادرست است؟

- (۱) باستان‌شناسان ظرف‌های قدیمی را از خاک بیرون می‌آورند.
- (۲) دختر تنگ بلور به‌خاطر این‌که خانه‌اش شکسته بود، گریه می‌کرد.
- (۳) ظرف‌های داخل موزه هزاران سال پیش در زیر خاک دفن شده بودند.
- (۴) صنوبر اولین بار دختر تنگ بلور را در موزه دید.


۳۹- با توجه به درس «زنگ ورزش»، کدام گزینه نادرست است؟

- (۱) برای این‌که در رشته‌ای مهارت پیدا کنیم، به آموزش و تمرین نیاز است.
- (۲) شنا بهترین ورزش است و همه باید فقط در آن مهارت داشته باشند و در مسابقات شرکت کنند.
- (۳) اگر ورزشی را پیوسته انجام دهیم، می‌توانیم به خوبی در آن رشته پیشرفت کنیم.
- (۴) با توجه به متن این درس، چون باران پاییزی در حال باریدن بود، معلم در کلاس در مورد چند موضوع مهم گفت‌وگو کرد؟

۴۰- چه تعداد از ابیات زیر، با بیت «خدایی که آب و هوا آفرید / درخت و گل و سبزه را آفرید، هم‌مفهوم هستند؟

- (الف) همه آفریده است بالا و پست / تویی آفریننده‌ی هر چه هست
- (ب) خدایا به ما مهربانی بده / دلی ساده و آسمانی بده
- (ج) ای همه هستی ز تو پیدا شده / خاک ضعیف از تو توانا شده
- (د) باز او مرا بغل کرد / بوسید صورتم را

- |        |        |          |        |
|--------|--------|----------|--------|
| (۱) دو | (۲) سه | (۳) چهار | (۴) یک |
|--------|--------|----------|--------|





## «آزمون ۱۸ آبان» - سوم دبستان

زمان پاسخ‌گویی: ۵ دقیقه

مطالعات اجتماعی - صفحه‌های ۲ تا ۱۹ کتاب درسی

۴۱- کدام گزینه به ترتیب جاهای خالی زیر را کامل می‌کند؟

«خانواده با ..... به وجود می‌آید و تعداد اعضای خانواده‌ها با هم .....»

(۱) ازدواج زن و مرد - تفاوت دارد. (۲) تولد فرزندان - تفاوت دارد.

(۳) ازدواج زن و مرد - برابر است. (۴) تولد فرزندان - برابر است.

۴۲- چه تعداد از موارد زیر صحیح است؟

(الف) در شناسنامه، قد و وزن نوزاد نوشته می‌شود.

(ب) از شناسنامه برای ثبت‌نام در مدرسه و اشتغال به کار استفاده می‌کنیم.

(ج) با افزایش سن انسان، نیازها و توانایی‌های او تغییر خواهد کرد.

(د) تنها با رشد کردن برخی موجودات، تغییراتی در آن‌ها به وجود می‌آید.

(۱) چهار (۲) سه

(۳) یک (۴) دو

۴۳- در کدام گزینه به ترتیب یکی از شباهت‌ها و یکی از تفاوت‌های ما با دوستانمان بیان شده است؟

(۱) نیاز داشتن به محبت و مهربانی - دوست داشتن زیبایی‌ها

(۲) داشتن قد بلند - داشتن چشم‌هایی به رنگ مشکی

(۳) نیاز داشتن به آب، غذا و هوا - داشتن هیکل درشت

(۴) داشتن پوست تیره رنگ - نیاز داشتن به مهربانی

۴۴- کدام گزینه نادرست است؟

(۱) پدر و مادر از فرزندان مراقبت می‌کنند.

(۲) در خانواده، تنها فرزندان محبت خود را به پدر و مادر نشان می‌دهند.

(۳) در محیط خانواده، یادگیری و تفریح و سرگرمی اتفاق می‌افتد.


(۴) پدر و مادر برای آسایش و تربیت بچه‌ها تلاش می‌کنند.

۴۵- در حالت معمولی اگر نوزادی سالم باشد، کدام یک از توانایی‌های زیر را از هنگامی که به دنیا می‌آید، دارد؟

(۱) توانایی راه رفتن و دویدن (۲) توانایی حرف زدن

(۳) توانایی شنیدن (۴) توانایی غذا خوردن بدون کمک





## «آزمون ۱۸ آبان» – سوم دبستان

زمان پاسخ‌گویی: ۵ دقیقه

هدیه‌های آسمان – صفحه‌های ۸ تا ۳ کتاب درسی

۴۶- معنای آیهی قرآنی زیر در کدام گزینه به‌درستی آمده است؟

«أَذْكُرُوا نِعْمَتَ اللَّهِ عَلَيْكُمْ»

- (۱) به زیبایی‌های طبیعت دقت کنید.
- (۲) همواره خداوند را یاد کنید.
- (۳) همیشه به یاد نعمت‌هایی باشید که خداوند به شما داده است.
- (۴) آیا ما به انسان، دو چشم و زبان و دو لب ندادیم؟

۴۷- کدام گزینه نادرست است؟

- (۱) حضرت محمد (ص) مثل همه‌ی انسان‌ها زندگی می‌کرده است.
- (۲) در زمان حضرت ابراهیم (ع)، عده‌ای از مردم بابل، ماه، خورشید و ستارگان را می‌پرستیدند.
- (۳) حضرت ابراهیم (ع) از نمرود خواست که خورشید را از مغرب بیاورد.
- (۴) حلیمه، مادر حضرت محمد (ص) بوده است.

۴۸- کدام سخن حضرت محمد (ص) در درس «همیشه با من» با آیهی «قَالَ اللَّهُ خَيْرٌ حَافِظًا وَهُوَ أَرْحَمُ الرَّاحِمِينَ» ارتباط دارد؟

- (۱) چرا من در سایه‌ی خیمه استراحت کنم؟
- (۲) چرا برادران من هر روز باید خطر بیابان را تحمل کنند؟
- (۳) من کسی را دارم که همیشه و در همه‌جا با من است و مرا از خطرها حفظ می‌کند.
- (۴) من دوست دارم به صحرا بروم.

۴۹- متن زیر به کدام صفت حضرت ابراهیم (ع) اشاره نمی‌کند؟

«ابراهیم پیامبر خدا، مردم را به خداپرستی دعوت می‌کرد. او با دلسوزی به مردم می‌گفت: بت‌های چوبی و سنگی خدای شما نیستند. تنها کسی را پرستید که آفریدگار شما و آفریدگار زمین و آسمان است. کسی که تنها خدای مهربان مردم جهان است.»

- (۱) دلسوزی برای مردم
  - (۲) احترام به عقاید دیگران
  - (۳) خداپرستی و اعتقاد به یگانگی خدا
  - (۴) پیامبر بودن حضرت ابراهیم
- ۵۰- چه تعداد از موارد زیر، صحیح است؟

- (الف) در آیهی «وَاشْكُرُوا نِعْمَتَ اللَّهِ»، مفهوم شکرگزاری از خدا وجود دارد.
- (ب) در آیهی «أَلَمْ نَجْعَلْ لَهُ عَيْنِينَ ...»، «لسان» به معنای زبان است.
- (ج) یکی از راه‌های شکرگزاری از نعمت‌های خدا، استفاده‌ی صحیح از نعمت‌های اوست.

- |        |         |
|--------|---------|
| (۱) سه | (۲) دو  |
| (۳) یک | (۴) صفر |





## سؤال‌های پیشرفته


در این قسمت، ۱۰ سؤال ریاضی پیشرفته و ۱۰ سؤال علوم پیشرفته در نظر گرفته شده است.

دوست فوبم:

- اگر در آزمون‌های قبلی تراز بالای ۶۲۵۰ داشته‌ای متمماً به این سؤال‌ها پاسخ بده.
- اگر تراز بین ۵۵۰۰ تا ۶۲۵۰ داری می‌توانی با مشاوره‌ی پدر، مادر و پشتیبانت به این سؤال‌ها پاسخ بدهی.
- کارنامه‌ی این قسمت به صورت جداگانه به شما تمویل داده می‌شود و تأثیری روی قسمت سؤال‌های عادی ندارد.

گروه آزمون

بنیاد علمی آموزشی قلمچی (وقف عام)

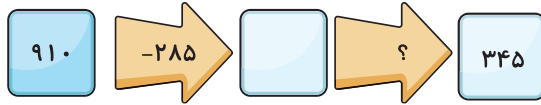


## «آزمون ۱۸ آبان» - سوم دبستان

زمان پاسخ گویی: ۱۵ دقیقه

ریاضی پیشرفته - صفحه‌های ۷ تا ۳۳ کتاب درسی

۵۱- با توجه به ماشین زیر به جای ؟ چه عددی باید قرار دهیم؟



(۱) جمع با ۶۲۵

(۲) تفریق با ۲۸۰

(۳) جمع با ۲۸۰

(۴) تفریق با ۶۲۵

۵۲- با توجه به الگوی زیر، مجموع و برابر است با:

۱۶ ، ۲۰ ، ، ۲۸ ، ۳۲ ،

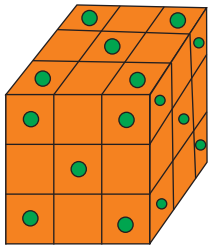
(۲) ۶۰

(۱) ۳۶

(۴) ۵۸

(۳) ۲۴

۵۳- زهرا با ۲۷ مکعب ساده و خالدار کوچک مکعب زیر را درست کرد که در آن هیچ دو مکعب ساده و هیچ دو



مکعب خالداری کنار هم نیستند. او از چند مکعب ساده استفاده کرده است؟

(۱) ۱۳

(۲) ۱۲

(۳) ۱۱

(۴) ۱۰

۵۴- پدر نگار باید مسافت بین ۲ شهر «دورود» و «تهران» را با قطار طی کند تا ساعت ۷ صبح به یک جلسه‌ی کاری مهم

برسد. لیست ساعت حرکت قطارهای این مسیر در زیر آورده شده است. با توجه به اینکه فاصله‌ی «دورود» تا «تهران»

۶ ساعت است، با فرض بدون توقف حرکت کردن قطار تا مقصد، پدر نگار بهتر است با کدام قطار حرکت کند؟

ساعت حرکت	۴ صبح	۳ صبح	۷ صبح	۱۲ نیمه شب
شماره قطار	۱	۲	۳	۴

(۴) قطار ۳

(۳) قطار ۱

(۲) قطار ۴

(۱) قطار ۲

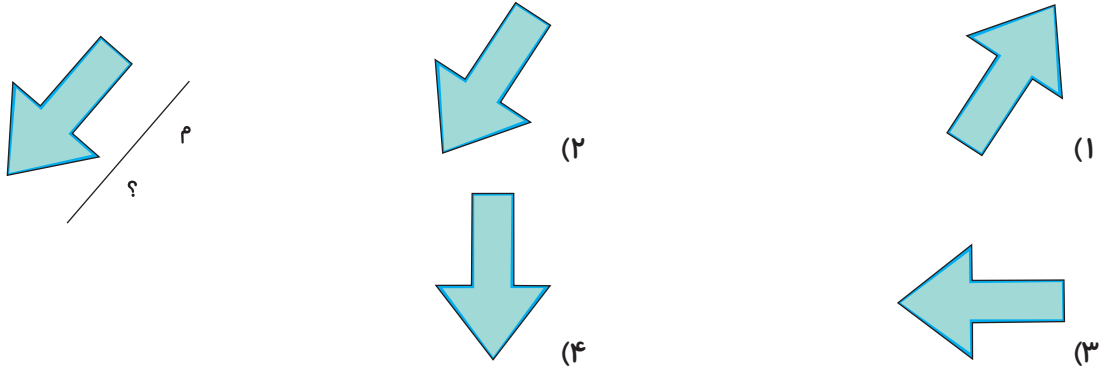
۵۵- برای کدامیک از شکل‌های زیر نمی‌توان خط تقارن رسم کرد؟



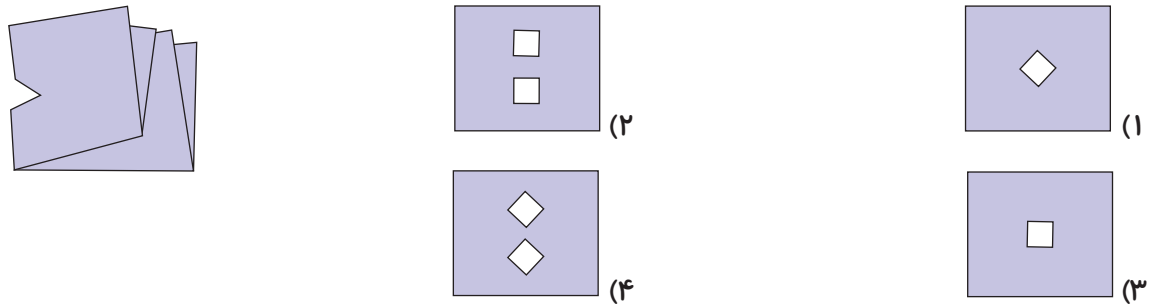


«آزمون ۱۸ آبان» - سوم دبستان

۵۶- اگر خط (م) خط تقارن باشد، کدام گزینه درست است؟



۵۷- کدام گزینه باز شده‌ی شکل مقابل است؟



۵۸- یک مدرسه ۱۵ کلاس دارد؛ در هر کلاس ۱۰ نیمکت و روی هر نیمکت ۲ دانش‌آموز می‌نشینند. این مدرسه چند دانش‌آموز دارد؟

- (۱) ۲۷۰      (۲) ۲۸۵      (۳) ۳۲۰      (۴) ۳۰۰


۵۹- پول‌های زیر متعلق به رضا است. مادرش چند تومان به او بدهد تا او ۱۰۰ تومان داشته باشد؟




- (۱) ۲۲      (۲) ۲۲۰  
(۳) ۲۳      (۴) ۳۲۰

۶۰- کدام عدد زوج را از ۱۰۰۰ کم کنیم، تا باقیمانده ۴ واحد از نصف عدد ۱۰۰۰ بیش‌تر شود؟

- (۱) ۵۰۲      (۲) ۵۰۰  
(۳) ۵۰۴      (۴) ۴۹۶








## «آزمون ۱۸ آبان» - سوم دبستان

زمان پاسخ‌گویی: ۱۵ دقیقه

علوم پیشرفته - صفحه‌های ۷ تا ۴۴ کتاب درسی

۶۱- به ترتیب از راست به چپ، بستنی و هویج در کدام گروه مواد غذایی قرار می‌گیرند؟



(۱) شیر و لبنیات - میوه‌ها و سبزی‌ها

(۲) شیر و لبنیات - چربی‌ها

(۳) چربی‌ها - میوه‌ها و سبزی‌ها

(۴) گوشت‌ها، تخم‌مرغ و حبوبات - شیر و لبنیات

۶۲- کدام گزینه مفهوم میعان را بیان می‌کند؟

(۱) بستنی در گرما شل می‌شود.

(۲) لباس‌های خیس جلوی آفتاب خشک می‌شوند.

(۳) آب دریاچه در روزهای سرد زمستان یخ می‌بندد.

(۴) در یک روز گرم، لیوان آب سردی روی میز می‌گذاریم و بیرون لیوان قطره‌های آب تشکیل می‌شود.

۶۳- برای مقایسه‌ی سنگینی اجسام، چه موردی را باید مقایسه کرد؟

(۱) اندازه‌ی اجسام

(۲) حجم اجسام

(۳) شکل اجسام

(۴) جرم اجسام

۶۴- ۵ کیلوگرم چند گرم است؟

(۱) ۵۰۰

(۲) ۵۰

(۳) ۵۰۰۰

(۴) ۵

۶۵- چند مورد از عبارت‌های زیر درست هستند؟

(الف) ما باید تلاش کنیم در هر روز از همه‌ی گروه‌های مواد غذایی چیزهایی بخوریم.

(ب) غذاهایی که می‌خوریم، معمولاً مخلوطی از چند گروه مواد غذایی هستند.

(ج) گروه چربی به ما انرژی می‌دهد.


(د) ویتامین‌ها برای سلامتی و درست کار کردن بدن لازم‌اند.

(۱) ۲

(۲) ۱

(۳) ۴

(۴) ۳





## «آزمون ۱۸ آبان» - سوم دبستان

۶۶- جرم اجسام را با چه وسیله‌ای اندازه می‌گیرند؟ آیا جرم اجسام با تغییر حالت و خرد شدن تغییر می‌کند؟

(۱) ترازو - بله

(۲) ترازو - خیر

(۳) خط‌کش - بله

(۴) خط‌کش - خیر

۶۷- ماکارونی در کدام گروه از مواد غذایی قرار می‌گیرد؟

(۱) غلات و سیب‌زمینی

(۲) گوشت‌ها، تخم‌مرغ و حبوبات

(۳) شیر و لبنیات

(۴) چربی‌ها

۶۸- کدام تبدیل حالت مربوط به فرایند تبخیر است؟

(۱) جامد به مایع

(۲) مایع به جامد

(۳) مایع به گاز

(۴) گاز به مایع

۶۹- «مقدار جایی که یک جسم اشغال می‌کند» تعریف کدام یک از موارد زیر است؟

(۱) حجم

(۲) جرم

(۳) وزن

(۴) گزینه‌های «۲» و «۳»

۷۰- از کپسول اکسیژن چه استفاده‌ای می‌شود؟



(۱) (تنفس بیماران)




(۲) (باد کردن لاستیک دوچرخه)



(۴) (پختن غذا)



(۳) (بالا رفتن بالن)



## خودارزیابی توجه و تمرکز

آزمون ۱۸ آبان ۱۴۰۳

دانش آموز عزیز!

توجه و تمرکز برای یادگیری، مطالعه و دستیابی به موفقیت تحصیلی بسیار مهم است. این مهارت‌های شناختی دانش‌آموزان را قادر می‌سازد تا اطلاعات را دریافت کنند، روی کارها و تکالیف متمرکز بمانند و به طور موثر زمان و منابع خود را مدیریت کنند. بهبود توجه و تمرکز می‌تواند منجر به درک بهتر مطالب، نمرات بالاتر و به طور کلی تجربه یادگیری موثرتر شود. برای کمک به ارزیابی ظرفیت‌های توجه خود، از شما دعوت می‌کنیم با سوالات زیر خود را ارزیابی کنید. مهم است که به هر سؤال صادقانه پاسخ دهید. با درک نقاط قوت و زمینه‌های پیشرفت، می‌توانید برای ارتقای عملکرد تحصیلی خود قدم بردارید.

سوالات را به دقت بخوانید و نزدیکترین پاسخ مرتبط با خود را انتخاب و در پاسخبرگ علامت بزنید. دقت داشته باشید که سوالات از شماره ۲۷۱ شروع شده است.

۲۷۱. هنگام کار روی یک تکلیف یا پروژه، نادیده گرفتن عوامل حواس‌پرتی برای من آسان است.

۱. هرگز ۲. به ندرت ۳. گاهی اوقات ۴. همیشه

۲۷۲. من می‌توانم در طول برگزاری یک آزمون، متمرکز بمانم.

۱. هرگز ۲. به ندرت ۳. گاهی اوقات ۴. همیشه

۲۷۳. من می‌توانم بیش از ۳۰ دقیقه توجه خود را روی یک فعالیت واحد حفظ کنم.

۱. هرگز ۲. به ندرت ۳. گاهی اوقات ۴. همیشه

۲۷۴. هنگام کار بر روی تکالیف درسی چالش برانگیز به سرعت علاقه خود را از دست نمی‌دهم.

۱. هرگز ۲. به ندرت ۳. گاهی اوقات ۴. همیشه

۲۷۵. من می‌توانم به معلم توجه کنم حتی اگر دانش‌آموزان دیگر صحبت کنند.

۱. هرگز ۲. به ندرت ۳. گاهی اوقات ۴. همیشه

۲۷۶. وقتی می‌خواهم به اطلاعات مهمی گوش دهم، می‌توانم مانع از حواس‌پرتی خودم شوم.

۱. هرگز ۲. به ندرت ۳. گاهی اوقات ۴. همیشه

۲۷۷. من می‌توانم بین انواع مختلف تکالیف بدون از دست دادن تمرکز جابجا شوم.

۱. هرگز ۲. به ندرت ۳. گاهی اوقات ۴. همیشه

۲۷۸. من به راحتی می‌توانم از یک کلاس به کلاس دیگر بروم و متمرکز بمانم.

۱. هرگز ۲. به ندرت ۳. گاهی اوقات ۴. همیشه

۲۷۹. من می‌توانم به دستورالعمل‌های درسی معلم گوش دهم و آنها را هم زمان یادداشت کنم.

۱. هرگز ۲. به ندرت ۳. گاهی اوقات ۴. همیشه

۲۸۰. من می‌توانم در حین انجام یک فعالیت، یک تدریس ویدیویی را مشاهده و دنبال کنم.

۱. هرگز ۲. به ندرت ۳. گاهی اوقات ۴. همیشه