

دفترچه سؤال



دوم دبستان

۱۶ آذر ۱۴۰۳

تعداد کل سؤالات عادی: ۴۰ سؤال
مدت پاسخ‌گویی به آزمون: ۵۵ دقیقه

نام درس	تعداد سؤال	شماره‌ی سؤال	وقت پیشنهادی	برنامه‌ی آزمون
ریاضی	۱۰	۱-۱۰	۱۵ دقیقه	عدد و رقم جمع و تفریق اعداد دو رقمی اشکال هندسی (یادآوری شکل‌های هندسی - روابط بین شکل‌ها) صفحه‌ی ۱ تا ۴۵
علوم	۱۰	۱۱-۲۰	۱۵ دقیقه	زنگ علوم هوای سالم، آب سالم زندگی ما و گردش زمین-۱
علوم (آشنا)	۱۰	۲۱-۳۰	۱۵ دقیقه	زندگی ما و گردش زمین-۲ صفحه‌ی ۱۲ تا ۳۷
فارسی	۱۰	۳۱-۴۰	۱۰ دقیقه	ستایش، کتاب‌خانه‌ی کلاس ما مسجد محله‌ی ما، خرس کوچولو مدرسه‌ی خرگوش‌ها و چوپان درستکار فارسی: صفحه‌ی ۲ تا ۳۵ نگارش فارسی: صفحه‌ی ۹ تا ۴۱

بنیاد علمی آموزشی قلم‌چی (وقف عام)

دفتر مرکزی: خیابان انقلاب - بین صبا و فلسطین - پلاک ۱۲۳ - تلفن: ۶۴۶۳-۰۲۱

سؤال‌های عادی

دوست فوبم:

در درس های ریاضی، علوم و فارسی ۱۰ سوال ابتدای دفترچه طرح نو(طراحی شده) هستند و با توجه به برنامه‌ی راهبردی خود هر آزمون در یک درس ۱۰ سوال منتخب از کتاب های سه سطحی (سوال های آشنا) داریم.
با پاسخ گویی به این دو نوع سوال ها، می توانید ارزیابی بهتری از یادگیری خودتان داشته باشید.

مجموعاً در این دفترچه ۴۰ سوال قرار دارد که پاسخ گویی به این سوالات اجباری است.

گروه آزمون

بنیاد علمی آموزشی قلمچی (وقف عام)



«آزمون ۱۶ آذر» - دوم دبستان

سؤال‌هایی که با آیکون ✂ مشخص شده‌اند، سؤال‌هایی هستند که مشابه آن‌ها در امتحانات تشریحی مورد پرسش قرار می‌گیرد.

زمان پاسخ‌گویی: ۵ دقیقه

ریاضی - صفحه‌های (تا ۴۵ کتاب درسی

۱- جمع کدام گزینه به صورت درست تقریب زده شده است؟

$$\begin{array}{r} 26 \\ + 12 \\ \hline \end{array} \rightarrow \begin{array}{r} 20 \\ + 10 \\ \hline \end{array} \quad (2)$$

$$\begin{array}{r} 38 \\ + 25 \\ \hline \end{array} \rightarrow \begin{array}{r} 40 \\ + 30 \\ \hline \end{array} \quad (1)$$

$$\begin{array}{r} 71 \\ + 24 \\ \hline \end{array} \rightarrow \begin{array}{r} 70 \\ + 30 \\ \hline \end{array} \quad (4)$$

$$\begin{array}{r} 46 \\ + 27 \\ \hline \end{array} \rightarrow \begin{array}{r} 40 \\ + 30 \\ \hline \end{array} \quad (3)$$

۲- در شمارش ۶ تا ۶ تا عدد بعد از ۴۲ چند است؟

۴۶ (۲)

۴۸ (۱)

۳۶ (۴)

۵۲ (۳)

۳- به ترتیب از راست به چپ ششمین عدد از الگوهای زیر کدام است؟ ✂

(۱) الگوی: ۱۲ ، ۱۵ ، ۱۸ ، ، ، ؟

(۲) الگوی: ۶۰ ، ۶۵ ، ۷۰ ، ، ، ؟

۸۵ - ۲۷ (۲)

۸۰ - ۲۴ (۱)

۹۰ - ۲۷ (۴)

۹۰ - ۳۰ (۳)

۴- تعداد توپ‌های موجود در سبد تارا ۳۶ عدد و تعداد توپ‌های موجود در سبد ثنا ۲۳ عدد می‌باشد. توپ‌های هر

کدام به کدام اعداد نزدیک‌تر می‌باشد؟


۳۰ تارا - ۴۰ ثنا (۲)

۲۰ تارا - ۳۰ ثنا (۱)


۳۰ تارا - ۳۰ ثنا (۴)

۲۰ تارا - ۴۰ ثنا (۳)

۵- کدام ساعت ۲۵ دقیقه از ۹ گذشته است؟ ✂



(۴)




(۳)

(۲) ساعت شماره‌ی (۳)

(۴) ساعت شماره‌ی (۴)



(۲)



(۱)

(۱) ساعت شماره‌ی (۱)

(۳) ساعت شماره‌ی (۲)





۶- به ترتیب از میان اعداد زیر کدام عدد به ۴۰ و کدام عدد به ۷۰ نزدیک تر است؟

(۶۳ ، ۶۶ ، ۳۶ ، ۳۴ ، ۵۳ ، ۷۵)

$$۶۶ - ۵۳ \quad (۲)$$

$$۷۵ - ۳۴ \quad (۱)$$

$$۷۵ - ۳۶ \quad (۴)$$

$$۶۶ - ۳۶ \quad (۳)$$

$$\begin{array}{r} ۷۶ \\ -۲۳ \\ \hline \end{array}$$

۷- کدام بخش از راه حل مربوط به تفریق روبه‌رو است؟

$$\begin{array}{r} ۵۶ \\ -۷ \\ \hline \end{array} \quad (۴)$$

$$\begin{array}{r} ۵۶ \\ -۳ \\ \hline \end{array} \quad (۳)$$

$$\begin{array}{r} ۵۶ \\ -۲ \\ \hline \end{array} \quad (۲)$$

$$\begin{array}{r} ۵۶ \\ -۶ \\ \hline \end{array} \quad (۱)$$

۸- کدام گزینه درباره شباهت مربع و مستطیل زیر نا درست است؟




(۱) هر دو ۴ ضلعی هستند.

(۲) هر دو ۴ گوشه دارند.

(۳) هر دو ۴ ضلع مساوی دارند.

(۴) هر دو شکل را می‌توان به ۴ قسمت مساوی تقسیم کرد.

۹- در شکل زیر چند مثلث وجود دارد؟



(۱) ۴ مثلث

(۲) ۶ مثلث

(۳) ۷ مثلث

(۴) ۸ مثلث

۱۰- فرهاد می‌خواهد یک کتاب داستان ۹۵ صفحه‌ای را در ۳ روز بخواند. او روز اول ۲۳ صفحه و روز دوم ۴۹ صفحه

از کتاب را می‌خواند. چند صفحه از کتاب برای روز سوم باقی می‌ماند؟

$$۲۳ \quad (۲)$$

$$۴۶ \quad (۱)$$

$$۲۵ \quad (۴)$$

$$۷۲ \quad (۳)$$





«آزمون ۱۶ آذر» - دوم دبستان

زمان پاسخ‌گویی: ۵۰ دقیقه

علوم - صفحه‌های ۱۲ تا ۳۷ کتاب درسی

- ۱۱- یک دماسنج را در ابتدا در مقابل آفتاب قرار داده و بعد از ثبت تغییر دما، آن را جابه‌جا کرده و در سایه قرار می‌دهیم. در این دو حالت تغییرات دما به کدام صورت است؟ (مابع دماسنج در ابتدا در پایین‌ترین حالت ممکن قرار دارد).
- ۱) دما همواره کاهش می‌یابد.
 - ۲) دما همواره افزایش می‌یابد.
 - ۳) دما ابتدا افزایش سپس کاهش می‌یابد.
 - ۴) دما ابتدا کاهش و سپس افزایش می‌یابد.

۱۲- مطابق کتاب درسی بهترین راه برای بیان مشاهدات به صورت دقیق چیست؟

- ۱) چشیدن
- ۲) بوییدن
- ۳) نگاه کردن
- ۴) یادداشت کردن


۱۳- کدام یک باعث آلودگی بیش‌تر هوا می‌شود؟ (بهترین گزینه را انتخاب کنید).

- ۱) کاشتن درخت
- ۲) رفت‌وآمد با وسیله نقلیه عمومی
- ۳) استفاده از اتومبیل شخصی
- ۴) رفت‌وآمد با دوچرخه

۱۴- کدام یک از موارد زیر، به آب سالم نیاز ندارد؟

- ۱) گیاهان
- ۲) انسان‌ها
- ۳) ماهی‌ها
- ۴) ماشین‌ها

۱۵- چند مورد از کارهای زیر باعث صرفه‌جویی در مصرف آب می‌شود؟



۴ (۴)

۳ (۳)

۲ (۲)

۱ (۱)





«آزمون ۱۶ آذر» - دوم دبستان

۱۶- تعدادی دانه‌ی لوبیا را جلوی نور آفتاب و تعدادی را در یخچال قرار می‌دهیم. کدام گزینه درباره میزان رشد

دانه‌های لوبیا درست خواهد بود؟ (آب کافی به همه دانه‌ها داده می‌شود).

(۱) دانه‌های لوبیا در آفتاب رشد خوبی خواهند داشت.

(۲) دانه‌های لوبیا در یخچال به خوبی رشد نخواهند کرد.

(۳) دانه‌های لوبیا در هر دو محیط رشد خوبی خواهند داشت.

(۴) گزینه‌های «۱» و «۲» صحیح می‌باشند.

۱۷- روز و شب چگونه به وجود می‌آید؟




(۲) گردش خورشید به دور زمین

(۱) گردش زمین به دور خورشید

(۴) گردش خورشید به دور خودش

(۳) گردش زمین به دور خودش

۱۸- از نظر زمان فعالیت و استراحت، کدام جانور با بقیه متفاوت است؟



۱۹- چند مورد از موارد زیر صحیح است؟

(الف) سردی و گرمی هوا در فصل‌های مختلف، متفاوت است.

(ب) غرق شدن کشتی‌ها از جمله خسارت‌های باد شدید می‌باشد.

(ج) فرفره، سرعت وزش باد را مشخص می‌کند.

(د) زاویه تابش مستقیم باعث افزایش دمای یک محل به مقدار بیشتری می‌شود.

(۲) ۲

(۱) ۱

(۴) ۴

(۳) ۳

۲۰- کدام یک، استفاده‌های انسان از باد نمی‌باشد؟

(۲) تولید برق

(۱) خشک کردن لباس

(۴) حرکت ماشین‌های بنزینی

(۳) حرکت قایق بادبانی





«آزمون ۱۶ آذر» - دوم دبستان

زمان پاسخ‌گویی: ۵۰ دقیقه

علوم آشنا (گواه) - صفحه‌های ۱۲ تا ۳۷ کتاب درسی

۲۱- در هنگام گردش در باغ برای تشخیص «زرد یا قرمز بودن» و «خوشبو یا بدبو بودن» یک گل، از کدام یک استفاده می‌شود؟ (به ترتیب از راست به چپ)

- | | |
|-------------------|-----------------------|
| (۱) شنیدن - دیدن | (۲) لمس کردن - دیدن |
| (۳) دیدن - بوییدن | (۴) بوییدن - لمس کردن |

۲۲- در یک بطری شفاف دود ایجاد کرده‌ایم. کدام گزینه صحیح است؟

- (۱) آبی که روی دود پاشیده شود، کمی تغییر رنگ می‌دهد.
- (۲) تمام دود ایجاد شده به دیواره‌های بطری می‌چسبد.
- (۳) اگر در بطری بسته باشد و سپس باز شود، دود خارج نمی‌شود.
- (۴) در بطری دود ایجاد نمی‌شود.

۲۳- اگر آب رودخانه‌ای خشک شود، برای جاندارانی که در آن رودخانه و اطراف آن زندگی می‌کنند، چه اتفاقی می‌افتد؟

- (۱) گیاهان داخل رودخانه هیچ آسیبی نمی‌بینند.
- (۲) فقط ماهی‌ها زنده می‌مانند و گیاهان داخل رودخانه از بین می‌روند.
- (۳) ماهی‌ها می‌میرند و پرندگان اطراف آن که از آب رودخانه استفاده می‌کردند به جاهای دیگری مهاجرت می‌کنند.
- (۴) پرندگانی که از آب رودخانه استفاده می‌کردند همان‌جا می‌مانند و هیچ آسیبی نمی‌بینند.

۲۴- آبی که مصرف می‌کنیم، به ترتیب از راست به چپ، از چه مکان‌هایی عبور کرده است تا به دست ما برسد؟

- (۱) آب لوله‌کشی شهر - تصفیه‌خانه - سد
- (۲) سد - تصفیه‌خانه - آب لوله‌کشی شهر
- (۳) تصفیه‌خانه - آب لوله‌کشی شهر - سد
- (۴) سد - آب لوله‌کشی شهر - تصفیه‌خانه

۲۵- کاشتن درخت نریختن زباله در رودخانه‌ها

- (۱) همانند - باعث تخریب محیط زیست می‌شود.
- (۲) برخلاف - باعث تخریب محیط زیست می‌شود.
- (۳) همانند - به حفظ محیط زیست کمک می‌کند.
- (۴) برخلاف - به حفظ محیط زیست کمک می‌کند.





۲۶- برای اندازه‌گیری دمای هوا از چه وسیله‌ای استفاده می‌کنیم؟

- (۱) بادنجان
- (۲) دماسنج
- (۳) خط‌کش
- (۴) قبله‌نما

۲۷- کدام بخش از نور و گرمای خورشید به کره‌ی زمین رسیده و گیاهان از آن برای چه کاری استفاده می‌کنند؟

- (۱) تمام آن - تنفس
- (۲) مقدار کمی از آن - تنفس
- (۳) مقدار کمی از آن - غذاسازی
- (۴) تمام آن - غذاسازی

۲۸- صبح یا هنگام طلوع خورشید زمین به‌طور ناگهانی گرم و عصر یا هنگام غروب خورشید زمین به‌طور ناگهانی سرد

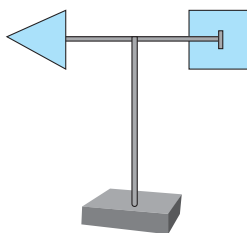
- (۱) می‌شود - می‌شود.
- (۲) نمی‌شود - می‌شود.
- (۳) می‌شود - نمی‌شود.
- (۴) نمی‌شود - نمی‌شود.

۲۹- چراغ مطالعه‌ی زیر روشن است. در شکل زیر پس از گذشت مدّت زمان مساوی کدام سگّه نسبت به سایر سگّه‌ها گرم‌تر می‌شود؟



- (۱) «آ»
- (۲) «ب»
- (۳) «ج»
- (۴) «د»

۳۰- کاربرد وسیله‌ی زیر چیست؟



- (۱) جهت وزش باد را نشان می‌دهد.
- (۲) گرمی و سردی هوا را نشان می‌دهد.
- (۳) سرعت وزش باد را اندازه می‌گیرد.
- (۴) جهت تابش نور خورشید را نشان می‌دهد.





«آزمون ۱۶ آذر» - دوم دبستان

فارسی: صفحه‌های ۲ تا ۳۵ کتاب درسی - نگارش فارسی: صفحه‌های ۹ تا ۴۱ کتاب درسی زمان پاسخ‌گویی: ۱۰ دقیقه

۳۱- در کدام یک از گزینه‌های زیر، علائم نگارشی به درستی رعایت نشده است؟

(۱) پیرمرد گفت: «همین حالا برات یک چغندر رسیده می‌آورم.»

(۲) من می‌خواهم با میکروب‌ها بجنگم. تو آن‌ها را اینجا ندیده‌ای!

(۳) چگونه می‌توانیم یک کتاب‌خانه‌ی کوچک در کلاس داشته باشیم؟

(۴) آیا همه‌ی نوشته‌ها در رایانه، کتاب‌ها و مجله‌ها برای شما مفید است؟

۳۲- در کدام گزینه، معنی هر دو واژه به درستی بیان شده است؟

(۲) مفید: سودمند - نظافت: تمیز

(۱) مونس: همدم - یاری: دوست داشتن

(۴) عمل کردن: انجام دادن - بی‌حوصله: خطرناک

(۳) مزد: پاداش - دانا: عالم

۳۳- در کدام گزینه، ارتباط میان کلمه‌ها مثل ارتباط میان کلمات «روز و شب» نیست؟

(۲) شجاع - ترسو

(۱) کم - زیاد

(۴) راست - درست

(۳) خسیس - بخشنده

۳۴- در کدام گزینه، واژه‌ای وجود دارد که صدای پایانی آن با صدای پایانی سایر کلمات متفاوت است؟

(۲) کوشا - حقیقتا

(۱) لطفا - ظاهرا

(۴) مثلا - خواهشا

(۳) دقیقا - حتما

۳۵- کدام گزینه نادرست است؟

(۱) باتربیت یعنی کسی که تربیت دارد.

(۲) بی‌قدرت یعنی کسی که قدرت ندارد.

(۳) بی‌هدف چیزی است که اهمیت ندارد.

(۴) باهنر یعنی کسی که هنر دارد.





۳۶- بیت کدام گزینه نادرست است؟

- (۱) پندت دهم فراوان / من یار پنددانم
- (۲) آن دیگری را دادم به بابا / دیدم که مانده، یک دانه دیگر
- (۳) گل بازتر شد، با ناز خوابید / پروانه دورش، آرام رقصید
- (۴) من دوستی هنرمند / با سود و بی‌زیانم

۳۷- در بین کلمه‌های زیر، چند کلمه از نظر املايي نادرست هستند؟

«چراقانی - مزرعه - تصمیم - سپاسگزار - هوض - منتظر - صاحب - همّام - پیغمبر - کثیف»

- | | | | |
|--------|--------|----------|--------|
| (۱) سه | (۲) یک | (۳) چهار | (۴) دو |
|--------|--------|----------|--------|

۳۸- در متن زیر چند کلمه‌ی جمع (غیر فعل) وجود دارد؟

«این نظم و ترتیب را در خیابان، مأمور راهنمایی و رانندگی ایجاد کرده است. این گندم‌های زرد و قشنگ را کشاورزهای کوشا کاشته‌اند.»

- | | | | |
|--------|---------|--------|--------|
| (۱) سه | (۲) صفر | (۳) یک | (۴) دو |
|--------|---------|--------|--------|

۳۹- با توجه به درس «مدرسه‌ی خرگوش‌ها»، کدام گزینه درست است؟

- (۱) معلم با سبد سیب وارد کلاس شد.
- (۲) اگر صداها را نمی‌شنیدیم، خطرهایی برای ما پیش می‌آمد.
- (۳) نباید همیشه گوش‌هایمان را تمیز نگه داریم.
- (۴) جایزه‌ی بچه خرگوش‌ها، کاهو بود.

۴۰- ضرب‌المثل «قطره قطره جمع گردد، وانگهی دریا شود» با عبارت کدام گزینه ارتباط دارد؟

- (۱) این که یک نفر کم پول‌هایش را در قلک پس‌انداز کند و بتواند با آن چیزی بخرد.
- (۲) این که یک نفر به مردم دروغ بگوید و مردم دیگر حرفش را باور نکنند.
- (۳) این که مردم یک نفر را براساس لباسی که پوشیده است، قضاوت کنند.
- (۴) این که یک نفر برای انجام ندادن یک کار، بهانه‌های زیادی بیاورد.



خودارزیابی توجه و تمرکز

آزمون ۱۶ آذر ۱۴۰۳

دانش آموز عزیز!

توجه و تمرکز برای یادگیری، مطالعه و دستیابی به موفقیت تحصیلی بسیار مهم است. این مهارت‌های شناختی دانش‌آموزان را قادر می‌سازد تا اطلاعات را دریافت کنند، روی کارها و تکالیف متمرکز بمانند و به طور موثر زمان و منابع خود را مدیریت کنند. بهبود توجه و تمرکز می‌تواند منجر به درک بهتر مطالب، نمرات بالاتر و به طور کلی تجربه یادگیری موثرتر شود. برای کمک به ارزیابی ظرفیت‌های توجه خود، از شما دعوت می‌کنیم با سوالات زیر خود را ارزیابی کنید. مهم است که به هر سؤال صادقانه پاسخ دهید. با درک نقاط قوت و زمینه‌های پیشرفت، می‌توانید برای ارتقای عملکرد تحصیلی خود قدم بردارید.

سوالات را به دقت بخوانید و نزدیکترین پاسخ مرتبط با خود را انتخاب و در پاسخبرگ علامت بزنید. دقت داشته باشید که سوالات از شماره ۲۷۱ شروع شده است.

۲۷۱. من می‌توانم هنگام مطالعه در یک محیط شلوغ، تمرکز خودم را حفظ کنم.
۱. هرگز ۲. به ندرت ۳. گاهی اوقات ۴. همیشه
۲۷۲. وقتی که معلم سوالی را مطرح می‌کند، می‌توانم به سرعت به آن پاسخ دهم.
۱. هرگز ۲. به ندرت ۳. گاهی اوقات ۴. همیشه
۲۷۳. در طول کلاس، می‌توانم به راحتی به موضوعات مختلف توجه کنم بدون اینکه سرگردان شوم.
۱. هرگز ۲. به ندرت ۳. گاهی اوقات ۴. همیشه
۲۷۴. وقتی که در حال مطالعه برای امتحان هستم، می‌توانم به راحتی اطلاعات را به خاطر بسپارم.
۱. هرگز ۲. به ندرت ۳. گاهی اوقات ۴. همیشه
۲۷۵. وقتی که در یک فعالیت گروهی شرکت می‌کنم، می‌توانم به راحتی بر روی وظایف خود تمرکز کنم.
۱. هرگز ۲. به ندرت ۳. گاهی اوقات ۴. همیشه
۲۷۶. من می‌توانم بدون از دست دادن تمرکز، هم زمان درس بخوانم و به صحبت‌های کسی هم گوش دهم.
۱. هرگز ۲. به ندرت ۳. گاهی اوقات ۴. همیشه
۲۷۷. وقتی که با حجم زیادی از تکالیف مواجه می‌شوم، می‌توانم بدون احساس استرس به آن‌ها رسیدگی کنم.
۱. هرگز ۲. به ندرت ۳. گاهی اوقات ۴. همیشه
۲۷۸. هنگام نزدیک شدن به امتحانات، می‌توانم احساس استرس را کنترل کرده و آرام بمانم.
۱. هرگز ۲. به ندرت ۳. گاهی اوقات ۴. همیشه
۲۷۹. آیا مایل هستید با کتاب جدید " پرورش توجه و تمرکز " برای بهبود دقت ، توجه و تمرکز خودتان آشنا شوید ؟
۱. خیر، نیازی ندارم ۲. شاید ۳. قبلاً آشنا شده ام ۴. بله، بسیار علاقه مندم
۲۸۰. آیا مایل هستید فایل های صوتی و آموزشی برای بهبود توجه و تمرکز و کاهش استرس دریافت کنید ؟
۱. خیر، نیازی ندارم ۲. شاید ۳. بله ، اگر مفید و با کیفیت باشد ۴. بله، بسیار علاقه مندم